



四 評量示例

上 第04回

## 第四章 乘法

四年 班 號

姓名：

 1 用直式算算看。

1  $2 \times 33$

2  $4 \times 26$

3  $8 \times 14$

4  $4 \times 58$

5  $7 \times 62$

6  $8 \times 45$



2 用直式算算看。

1  $4 \times 813$

2  $7 \times 105$

3  $6 \times 503$

4  $8 \times 304$

5  $9 \times 207$

6  $3 \times 740$



3

用直式算算看。

①  $12 \times 21$

②  $93 \times 17$

③  $25 \times 82$

④  $45 \times 14$

⑤  $27 \times 56$

⑥  $16 \times 25$



4 用直式算算看。

1  $305 \times 25$

2  $280 \times 39$

3  $270 \times 60$

4  $600 \times 42$

5  $725 \times 37$

6  $392 \times 65$


 5 在  中填入適當的數。

1

$$\begin{array}{r} \square \square \\ \times \quad 7 \\ \hline 3 \ 1 \ 5 \end{array}$$


2

$$\begin{array}{r} \quad 6 \\ \times \quad 8 \square \\ \hline 4 \ 9 \ 8 \end{array}$$

 6 用比較簡便的方法做計算。

1  $16 \times 9 \times 5$

2  $15 \times 7 \times 4$

 7 將答案一樣的算式連起來。

$800 \times 30 \times 10$  ★

★  $80 \times 300$

$30 \times 80 \times 10$  ★

★  $8 \times 300$


$3 \times 100 \times 8$  ★

★  $800 \times 300$



- 5 影印機每分鐘可以影印 115 張，連續印 30 分鐘，最多可以印多少張？
- 6 一張遊樂園門票 275 元，甜姐兒班上有 32 人一起去玩，共要付多少元？
- 7 在走廊上每隔 150 公分掛一盞花燈，從第 1 盞花燈到第 13 盞花燈的距離是多少公尺？
- 8 一個閏年有多少小時？



 10 把做法用一個算式記下來。

- 1 個花籃 1280 元，叔叔買了 3 個花籃，外加 1 束 850 元的玫瑰，共要付多少元？
- 1 盒明信片有 30 張，明惠買了 8 盒，寄給朋友 24 張，還剩下幾張明信片？
- 糕餅店做了一批月餅，平分裝在 26 個盒子裡，每盒裝 5 塊，還剩下 12 塊有缺損的月餅未裝盒。這批月餅原有幾塊？
- 太陽餅一盒 225 元，趙先生買了 4 盒，付了 1000 元，可找回多少元？