

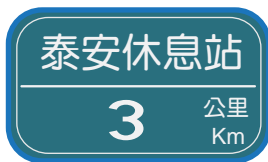


1 在( )裡填入適當的長度單位。

- 1 一支尺大約長 15 ( )。
- 2 小貨車的車身大約長 4 ( )。
- 3 爸爸的身高大約是 172 ( )。
- 4 國道一號高速公路大約長 373 ( )。

2 你知道這些標誌的意思嗎？在對的  裡打 。

1



- 距離泰安休息站還有 3000 公尺。
- 距離泰安休息站還有 300 公尺。

2



- 距離落石處還有 500 公尺。
- 距離落石處還有 500 公里。

3 在( )裡填入公尺或公里。

- 1 世界上最長的河流是埃及的尼羅河，有 6650 ( )長。
- 2 世界上最高的山峰是珠穆朗瑪峰，高 8848 ( )。
- 3 哥哥在棒球比賽中擊出一支全壘打，距離是 85 ( )。
- 4 臺灣本島，南北長約 394 ( )。
- 5 北宜高速公路的雪山隧道長約 12900 ( )。

 4 填填看。

- 1 公里是( )公尺，在國際上通用的記法是( )。
- 8 公里是( )公尺，13 公里是( )公尺。
- 10000 公尺是( )公里，15000 公尺是( )公里。

 5 連連看。

5 公里 79 公尺

50079 公尺

50 公里 79 公尺

57900 公尺

57 公里 900 公尺

5079 公尺

57 公里 90 公尺


5790 公尺

5 公里 790 公尺

57090 公尺

 6 填填看。

- ① 2公里=( )公尺
- ② 36公里=( )公尺
- ③ 70公里=( )公尺
- ④ 4000公尺=( )公里
- ⑤ 52000公尺=( )公里
- ⑥ 80000公尺=( )公里
- ⑦ 6公里400公尺=( )公尺
- ⑧ 6公里35公尺=( )公尺
- ⑨ 30公里5公尺=( )公尺
- ⑩ 30公里60公尺=( )公尺
- ⑪ 4005公尺=( )公里( )公尺
- ⑫ 8603公尺=( )公里( )公尺
- ⑬ 7090公尺=( )公里( )公尺
- ⑭ 8900公尺=( )公里( )公尺
- ⑮ 59700公尺=( )公里( )公尺

 7 在□中填入>、<或=。

- |                   |                      |
|-------------------|----------------------|
| ① 3800公尺 □ 38公里   | ② 3060公尺 □ 3公里60公尺   |
| ③ 90000公尺 □ 9公里   | ④ 4 Km300m □ 4030m   |
| ⑤ 6004m □ 60 Km4m | ⑥ 33000m □ 30 Km300m |
| ⑦ 7公里 □ 6900公尺    | ⑧ 1公里 □ 1000公尺       |
| ⑨ 50000m □ 5 Km   | ⑩ 2公里85公尺 □ 285公尺    |
| ⑪ 20000cm □ 2000m | ⑫ 307公尺 □ 3公里7公尺     |



8 算一算，填一填。

① 64 公里 + 136 公里 = (            ) 公里

② 2349 公尺 + 655 公尺 = (            ) 公尺  
= (            ) 公里 (            ) 公尺

③ 6 公里 880 公尺 + 3 公里 535 公尺  
= (            ) 公里 (            ) 公尺

④ 7 公里 361 公尺 - 5 公里 584 公尺  
= (            ) 公里 (            ) 公尺

⑤ 129 公尺 × 25 = (            ) 公尺  
= (            ) 公里 (            ) 公尺

⑥ 5 公里 10 公尺 × 17 = (            ) 公里 (            ) 公尺

⑦ 22 公里 ÷ 5 = (            ) 公尺  
= (            ) 公里 (            ) 公尺


⑧ 52 公里 320 公尺 ÷ 12 = (            ) 公尺  
= (            ) 公里 (            ) 公尺

⑨ 2740 公尺 + 480 公尺 = (            ) 公尺  
= (            ) 公里 (            ) 公尺

⑩ 3 公里 - 1850 公尺 = (            ) 公尺  
= (            ) 公里 (            ) 公尺

⑪ 7 公里 675 公尺 + 2390 公尺 = (            ) 公尺  
= (            ) 公里 (            ) 公尺

⑫ 110 公里 - 110 公尺 = (            ) 公尺  
= (            ) 公里 (            ) 公尺

 9 把做法用算式記下來。

- 1 從玉亭家到學校的距離是2公里120公尺，她每天來回走一趟，每週上課5天，共走了幾公里？
- 2 郭阿姨的車子行駛284公里，耗掉汽油32公升，平均1公升汽油可以行駛幾公里幾公尺？
- 3 一段道路長3公里60公尺，在道路的一邊每隔15公尺種1棵樹，道路的兩端都要種，共需要種幾棵樹？


 10 比比看，由大排到小(請填代號)。

- 1 甲 6050公尺    乙 6公里500公尺    丙 6公里5公尺


\_\_\_\_\_ > \_\_\_\_\_ > \_\_\_\_\_

- 2 甲 9070 m    乙 90Km 70m    丙 9Km 700m

\_\_\_\_\_ > \_\_\_\_\_ > \_\_\_\_\_

 11 寫出算式做做看。

- ① 馬拉松接力賽，每隊有 5 個選手，每人各跑 2 公里 520 公尺，5 人共跑了多少公里多少公尺？
  
- ② 學校和郵局間的距離是 2375 公尺，學校的工友伯伯每天要從學校到郵局來回兩趟，一共是多少公里多少公尺？
  
- ③ 陳威練習跑步，沿著公園跑了 5 圈，一共是 9 公里 85 公尺，公園一圈長多少公里多少公尺？
  
- ④ 有一個正方形的農場，走一圈的長度是 6 公里 408 公尺，每邊長多少公里多少公尺？

 12 寫出算式做做看。

- 1 巧達家到麵包店的距離是 925 公尺，麵包店到糖果店的距離是 550 公尺，巧達從家裡經過麵包店到糖果店，共走了幾公里幾公尺？
- 2 巧達家到花店的距離是 2 公里 300 公尺，途中經過巴士站，巴士站到花店的距離是 765 公尺，巧達家到巴士站的距離是幾公尺？
- 3 邱爺爺參加健走，從社區出發到半山公園是 2250 公尺，再從半山公園走到天閣寺是 1 公里 870 公尺，這趟健走共走了幾公里幾公尺？
- 4 巧達從家裡走到披薩店要 2 公里 300 公尺，薯泥從家裡走到披薩店比巧達少走 1 公里 580 公尺，薯泥家到披薩店的距離是多少？

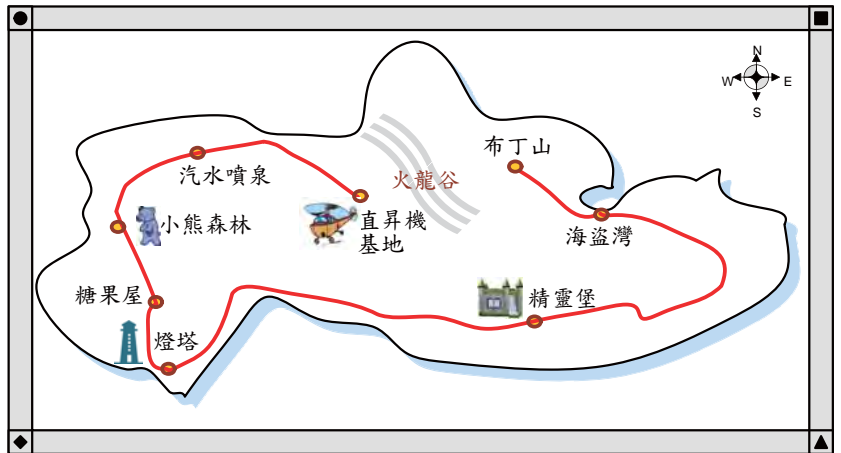
- 5 王叔叔開計程車，今天載客人從火車站到機場就跑了4趟，每趟的路程是5公里380公尺，4趟共開了幾公里幾公尺？
- 6 山上廟裡的和尚每天要到山下河邊提水，每人一天提4次，廟離河邊約1公里850公尺，一個和尚每天提水要走幾公里幾公尺的路？
- 7 巧達在披薩店打工。他今天外送披薩到魔法小舖5次，來回5次共走了12公里，請問披薩店到魔法小舖的距離是多少？
- 8 一條馬拉松路線上要設置加水站，加水站之間的距離都相同，從第1個加水站到第7個加水站的距離是7公里200公尺，求兩個加水站之間的距離是多少？

延伸題

13 下表是冒險島海濱公路，從海盜灣到各地點大概的距離。

海盜灣 → 布丁山	海盜灣 → 精靈堡	海盜灣 → 燈塔	海盜灣 → 糖果屋
32	55	157	175
海盜灣 → 小熊森林	海盜灣 → 汽水噴泉	海盜灣 → 直升機 基地	
199	260	339	

單位：公里



- 1 從汽水噴泉到直昇機基地的距離是幾公里？
- 2 從精靈堡到布丁山的距離是幾公里？
- 3 整條公路有多長？
- 4 漢斯和葛莉特在糖果屋住了三天後準備回家，他們可以從糖果屋到海盜灣搭船回家，或是從糖果屋到直昇機基地搭直昇機回家，這兩條路那一條的路程比較短？
- 5 請根據以上資料，完成從直昇機基地到各地點大概距離的表格。

直昇機基地 → 汽水噴泉	直昇機基地 → 小熊森林	直昇機基地 → 糖果屋	直昇機基地 → 燈塔	直昇機基地 → 精靈堡	直昇機基地 → 海盜灣	直昇機基地 → 布丁山

單位：公里