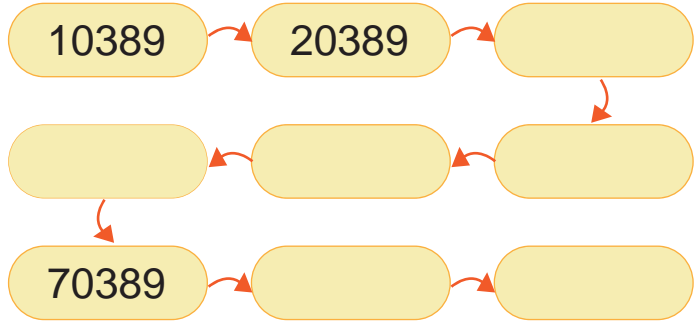




1 下面位值表上的五位數可能是多少？由小到大按照順序填填看。

萬位	千位	百位	十位	個位
?	0	3	8	9



2 數數看，合起來是多少？

1

1 萬    1 萬    1 萬    1000    1000    1000    1000    1000

是 \_\_\_\_\_

2

10 萬    10 萬    10 萬    10 萬    10 萬    10 萬    10 萬    10 萬

100    100    100


是 \_\_\_\_\_

3

10 萬    10 萬    10 萬    10 萬    10 萬

10 萬    10 萬    10 萬    10 萬    10 萬

是 \_\_\_\_\_

 3 將 47884 這個數字記在位值表上，讀一讀，並填填看。

① 寫出 47884 的正確讀法。

( )

② 47884 先加 1000 是( )，  
再加 1000 是( )，再加  
1000 是( )。

③ 47884 先加 10000 是( )，再加 10000 是( )，  
再加 10000 是( )。


十萬位	萬位	千位	百位	十位	個位

④ 78790 加 1000 是( )，再加 1000 是( )，再加  
100 是( )，再加 10 是( )。

⑤ 69720 加 10000 是( )，再加 10000 是( )，再  
加 1000 是( )，再加 1000 是( )。

⑥ 3980070 加 10000 是( )，再加 10000 是( )，  
再加 100000 是( )。

⑦ 8387600 中，左邊的 8 記在( )位，表示( )，右邊  
的 8 記在( )位，表示( )。

 4 在空格裡填上適當的數。

① 

48100	—*	49100	—*		—*		—*	52100
-------	----	-------	----	--	----	--	----	-------

② 

60000	—*		—*	80000	—*	90000	—*	
-------	----	--	----	-------	----	-------	----	--

 5 填填看。

- ① 4 個 10000000 合起來是( )，讀做( )。
- ② 10 個一百萬合起來是( )，讀做( )。
- ③ 58096703 的百萬數字是( )，千位數字是( )；  
( )位數字是 5，( )位數字是 9。
- ④ 57032768 的千萬數字是( )，萬位數字是( )；  
( )位數字是 2，( )位數字是 0。
- ⑤ 在正確的讀法或記法的  裡打  $\checkmark$ 。

45600708	<input type="checkbox"/> 四千五百六萬零七零八 <input type="checkbox"/> 四千五百六十萬零七百零八
37600420	<input type="checkbox"/> 三千七百六十萬零四百二十 <input type="checkbox"/> 三千七百六十萬四百二
六千萬零九	<input type="checkbox"/> 6000009 <input type="checkbox"/> 60000009
五千零四萬零二百三十五	<input type="checkbox"/> 50040235 <input type="checkbox"/> 50400235

- ⑥ 下列每一個數中的「6」分別表示多少？

6249300	→ ( )
14062758	→ ( )
7864321	→ ( )

 6 填填看。

① 8 3 5 6 3  
      |      |  
      是   是  
      (   )  
  
      (   ) (   )  
      位   位  
      數   數  
      字   字


② 9 5 0 2 7  
      |      |  
      是   是  
      (   )  
  
      (   ) (   )  
      位   位  
      數   數  
      字   字

③ 2 4 0 4 5  
      |      |  
      是   是  
      (   )  
  
      (   ) (   )  
      位   位  
      數   數  
      字   字

- ④ 一個數的個位數字是 2，十位數字是 9，百位數字是 7，千位數字是 3，萬位數字是 4，這個數是( )。
- ⑤ 80597 是由( )個萬、( )個千、( )個百、( )個十和( )個一合起來的。
- ⑥ 4 個萬、6 個千、9 個百和 2 個一合起來是( )。
- ⑦ 10 個十萬合起來是多少？用阿拉伯數字記成( )；這個數讀做( )。
- ⑧ 下面數中的兩個 7，各表示多少？

      7 2 7 0 8  
      ↑   ↑  
( ) — ( )

 7 畫畫看，用 10000、1000、100、10 和 1 的圖來表示 36048。

 8 數數看，合起來是多少？

1


10萬 10萬 10萬 10萬 10萬 10萬 10萬  
1萬 1萬 1萬 1萬 1萬

是( )，加上3張 10萬 合起來是( )，  
再加上5張 1萬 合起來是( )，

2

100萬 100萬 100萬 100萬 100萬 100萬 1萬  
1萬 1萬 1萬 1萬 1萬 1萬 1萬

是( )，加上5張 10萬 合起來是( )，  
再加上3張 1萬 合起來是( )，

 9 比比看，在  裡填上 >、< 或 =。

1 14208  14199

2 31248  31824

3 53110  5410

4 61540  59987

5 231120  97500

6 10000  9999

7 2341009  2342000

8 73820  75820

9 77777777  8888888

10 4671530  5071530

11 12344321  12434321


12 9999999  1000000

13 990000  10000001

14 28941567  28914567

15 2307420  23007420

16 65173820  65173208

 10 連一連，依照指示把各數連起來，是那個英文字母呢？

① 由小到大。

8003000  
●

80300000  
●

●  
830000

●  
80030000

連出來的英文字母  
是( )

② 由大到小。

32000040  
●

28997000  
●

●  
3002000

●  
320009

連出來的英文字母  
是( )

 11 用數字寫寫看。

① 比「五百萬」多 50000 的數是( )。

② 比「六百萬」多 60000 的數是( )。


③ 比「四千萬」多 4000 的數是( )。

④ 比「十萬」少 1000 的數是( )。


⑤ 比「一百萬」少 10000 的數是( )。

 12 用0、2、4、6、8、9六個數字排排看。


- 1 排成的六位數中，最大的數是( )。
- 2 排成的六位數中，最小的數是( )。
- 3 排成的六位數中，最接近「四十萬」的數是( )；  
最接近「五十萬」的數是( )。

 13 下列敘述對的畫○，錯的畫×。

- 1 ( ) 3000000 讀作三千萬，是七位數。
- 2 ( ) 20068317 讀作二千零零六萬八千三百一七。
- 3 ( ) 最小的五位數是 10000。
- 4 ( ) 5000640 讀作五百萬零六百四十。
- 5 ( ) 最大的七位數是 1000001。

 14 想一想，比比看，在□裡填上>、<或=。

- 1 395 ? 4500 □ 39476000
- 2 100 ? 999 □ 1010000
- 3 7 ? 98433 □ 6 ? 135700
- 4 48880000 □ 4888 ? 001
- 5 60000095 □ 600000 ? 4

 15 把答案寫在位值表上。

① 28 個十萬、7 個千、2 個百合起來是多少？

千萬位	百萬位	十萬位	萬位	千位	百位	十位	個位

② 15 個百萬和 15 個萬合起來是多少？

千萬位	百萬位	十萬位	萬位	千位	百位	十位	個位

③ 25 個百萬和 8 個萬合起來是多少？

千萬位	百萬位	十萬位	萬位	千位	百位	十位	個位

④ 450 個十萬和 5 個十合起來是多少？

千萬位	百萬位	十萬位	萬位	千位	百位	十位	個位

1

千萬位	百萬位	十萬位	萬位	千位	百位	十位	個位
8	4	?	3	8	1	5	7

想一想，在上面的位值表中，最大的八位數是( )，讀做( )；最小的八位數是( )，讀做( )，兩個數相差( )個十萬。

2

千萬位	百萬位	十萬位	萬位	千位	百位	十位	個位
?	2	0	9	5	5	2	3

想一想，在上面的位值表中，最大的八位數是( )，讀作( )；最小的八位數是( )，讀作( )，兩個數相差( )個千萬。

3  $83 \square 6514 > 8338500$ ， $\square$ 裡可以填那些數字？

( )

4 從多位數 **6857993890** 中畫去3個數，使剩下的7個數字(前後順序不變)，組成的七位數字最大，這七位數是多少？

( )


 17 填填看。

- 1 84650 這個數中的 4 換成 7，會比原來的數增加( )。
- 2 263057 這個數中的 6 換成 8，會比原來的數增加( )。
- 3 38261559 這個數中的 8 換成 4，會比原來的數減少( )。
- 4 79632501 這個數中的 7 換成 5，會比原來的數減少( )。

 18 做做看。

- 1  $5947 \square > 59477$ ， $\square$  中的數字可填入：  
\_\_\_\_\_。
- 2  $500387 > 500 \square 87$ ， $\square$  中的數字可填入：  
\_\_\_\_\_。
- 3  $\square 0002 > 48888$ ， $\square$  中的數字可填入：  
\_\_\_\_\_。
- 4  $58379 > 5 \square 000$ ， $\square$  中的數字可填入：  
\_\_\_\_\_。

◎ 延伸題

 19 按照提示，在位值表的空格填填看。

1

	十萬位	萬位	千位	百位	十位	個位
甲	4	5		1	7	8

	十萬位	萬位	千位	百位	十位	個位
乙		5	6	1		8

提示：甲數比乙數多 102000。

2

	萬位	千位	百位	十位	個位
甲	1	7	1		3

	萬位	千位	百位	十位	個位
乙		4	2	8	6

提示：乙數是甲數的 2 倍。