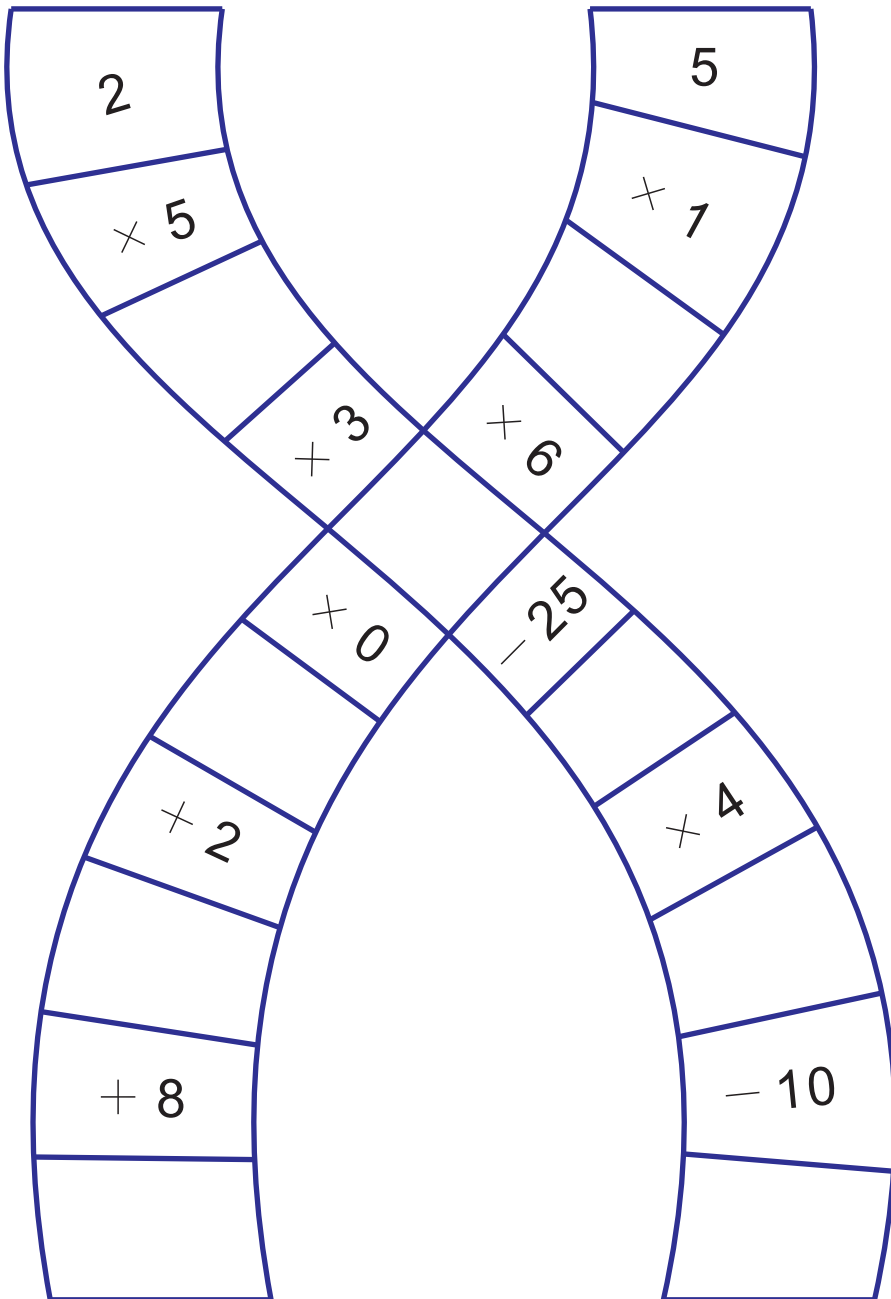


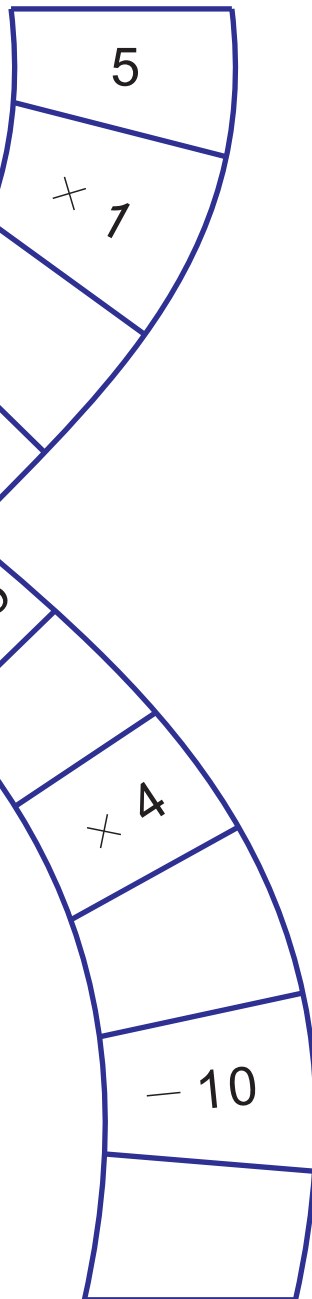


用你學過的加法、減法或乘法算出答案，完成下面每一條路線。

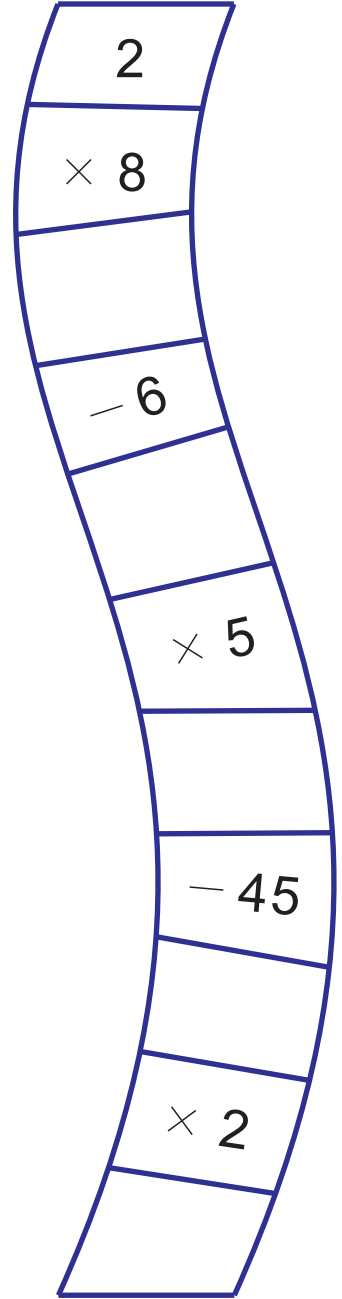
路線 1



路線 2



路線 3



每一條路線的最後一格是那一個數？

\_\_\_\_\_



先算出每個算式的答案，再把配對的算式連起來。

- 1  $6 \times 2 = \underline{\quad}$       •      •       $5 \times 2 = \underline{\quad}$
- 2  $4 \times 1 = \underline{\quad}$       •      •       $2 \times 4 = \underline{\quad}$
- 3  $7 \times 5 = \underline{\quad}$       •      •       $2 \times 8 = \underline{\quad}$
- 4  $4 \times 2 = \underline{\quad}$       •      •       $5 \times 8 = \underline{\quad}$
- 5  $6 \times 5 = \underline{\quad}$       •      •       $2 \times 6 = \underline{\quad}$
- 6  $2 \times 5 = \underline{\quad}$       •      •       $1 \times 4 = \underline{\quad}$
- 7  $8 \times 2 = \underline{\quad}$       •      •       $5 \times 6 = \underline{\quad}$
- 8  $9 \times 5 = \underline{\quad}$       •      •       $5 \times 9 = \underline{\quad}$
- 9  $7 \times 2 = \underline{\quad}$       •      •       $5 \times 7 = \underline{\quad}$
- 10  $8 \times 5 = \underline{\quad}$       •      •       $2 \times 7 = \underline{\quad}$

你自己想一組可以配對的乘法算式？

$$\underline{\quad} \times \underline{\quad} = \underline{\quad}$$
$$\underline{\quad} \times \underline{\quad} = \underline{\quad}$$



小莉想要利用假日去看外婆，她需要做完一些乘法問題才能到達那裡。你能幫助她嗎？

做做看看第1~10題，下面提供一些線索。

- 如果空格裡是比7大或等於7的數，就可以向前移動3格。
- 如果空格裡是1到3的數，就可以向前移動1格。
- 如果相乘的答案是0，只能停在原地。
- 如果空格裡是比7小比3大的數，要後退2格。

1  $4 \times \underline{\quad} = 32$

2  $4 \times \underline{\quad} = 40$

3  $\underline{\quad} \times 4 = 12$

4  $\underline{\quad} \times 4 = 24$

5  $4 \times \underline{\quad} = 4$

6  $4 \times \underline{\quad} = 0$

7  $\underline{\quad} \times 4 = 36$

8  $4 \times \underline{\quad} = 20$

9  $4 \times \underline{\quad} = 8$

10  $\underline{\quad} \times 4 = 28$

開始

1

2

3

4

5

6

7

8

9

10

外婆家

11 小莉最後到得了外婆家嗎？如果到不了，請你出一個問題幫助她到達。



解題。

- 1 小捷、小莉和小強發現一袋裝了21顆彈珠的袋子。如果他們要平分這些彈珠，每個人可以分到幾顆？畫圖做做看。

答：\_\_\_\_\_顆。

- 2 如果小予也加入上面3位小朋友，他們能平分21顆彈珠嗎？畫圖做做看。

答：（能，不能）

- 3 如果這四位小朋友又發現另一袋裝了20顆彈珠的袋子，和第三袋裝有15顆彈珠的袋子，全部一共有多少顆彈珠？

算式：

答：

- 4 如果這四位小朋友要平分所有的彈珠，每個人可以分到幾顆？畫圖做做看。

答：\_\_\_\_\_顆。