





一 個 盤 子 裝 一 個 捲 餅， 5 盤 裝 幾 個 捲 餅？ 0 盤 呢？

1



$$1 \times 5 = \underline{\quad}$$

2



$$1 \times 0 = \underline{\quad}$$

3

$$3 \times 0 = \underline{\quad}$$

4

$$4 \times 0 = \underline{\quad}$$

5

$$1 \times 8 = \underline{\quad}$$

6

$$5 \times 1 = \underline{\quad}$$

7

$$1 \times 3 = \underline{\quad}$$

8

$$5 \times 0 = \underline{\quad}$$

9

$$0 \times 9 = \underline{\quad}$$

10

$$1 \times 9 = \underline{\quad}$$

11

$$0 \times 6 = \underline{\quad}$$

12

$$7 \times 0 = \underline{\quad}$$

13

$$2 \times 0 = \underline{\quad}$$

14

$$2 \times 4 = \underline{\quad}$$




動 動 腦

那 個 算 式 才 正 確？ 看 圖 圈 圈 看。

$$1 \times 6 = 6$$


$$6 + 1 = 7$$






依照題目給定的數字塗色，讓每一橫排的圈數都一樣多。填填看。

1 1 個橫排有 2 個，有 4 個橫排。




$2 \times 4 = \underline{\quad}$

1 個橫排有 4 個，有 2 個橫排。




$4 \times 2 = \underline{\quad}$

2 1 個橫排有 3 個，有 5 個橫排。



$\underline{\quad} \times \underline{\quad} = \underline{\quad}$

1 個橫排有 5 個，有 3 個橫排。



$\underline{\quad} \times \underline{\quad} = \underline{\quad}$

做乘法。

1  $5 \times 2 = \underline{\quad}$

$2 \times 5 = \underline{\quad}$

2  $5 \times 6 = \underline{\quad}$   $6 \times 5 = \underline{\quad}$

3  $2 \times 6 = \underline{\quad}$

$6 \times 2 = \underline{\quad}$

4  $10 \times 4 = \underline{\quad}$   $4 \times 10 = \underline{\quad}$

5  $2 \times 7 = \underline{\quad}$

$7 \times 2 = \underline{\quad}$

6  $2 \times 9 = \underline{\quad}$   $9 \times 2 = \underline{\quad}$



動動腦

有兩個數，它們相乘的結果是 8，相加的結果是 6，這兩個數各是多多少？



例子：

$$4 \times 5 = 20$$

算出每一題的答案。

1  $4 \times 7 = \underline{\quad}$

2  $4 \times 3 = \underline{\quad}$

3  $4 \times 8 = \underline{\quad}$

4  $4 \times 1 = \underline{\quad}$

5  $2 \times 4 = \underline{\quad}$

6  $4 \times 10 = \underline{\quad}$

7  $4 \times 6 = \underline{\quad}$

8  $0 \times 4 = \underline{\quad}$

9  $7 \times 4 = \underline{\quad}$

10  $4 \times 9 = \underline{\quad}$

11  $1 \times 4 = \underline{\quad}$

12  $3 \times 4 = \underline{\quad}$

13  $8 \times 4 = \underline{\quad}$

14  $9 \times 4 = \underline{\quad}$

15  $4 \times 2 = \underline{\quad}$

16  $4 \times 4 = \underline{\quad}$

17  $5 \times 4 = \underline{\quad}$

18  $10 \times 4 = \underline{\quad}$



動動腦

1 小莉有6隻貓，每一隻貓生了4隻小貓，小莉的貓一共生了幾隻小貓？

2 林老師為了家長日布置班級公佈欄。他把學生的畫貼在公佈欄裡，每一橫排貼4張，一共貼了5個橫排，他一共貼了多少張畫？



你可以用加法、減法或乘法來解決問題。

- 1 小強的球隊在第一場比賽中得了17分，第二場比賽得了18分。他們一共得了多少分？

算式：

答：

想一想：

我要算的是——一共有多少分或是我要做比賽多少分？



- 2 每個水池裡有4隻海豚，3個水池裡有多少隻海豚？

算式：

答：

想一想：

一共有幾個水池？每個水池中的海豚數目一樣多嗎？



- 3 25個二年級學生早餐帶了花生醬三明治，9個二年級學生帶了鮭魚三明治。花生醬三明治多了幾個？

算式：

答：

想一想：

你要用加法、減法或乘法來算？

