




兩 個 數 相 乘， 一 個 數 是 1， 答 案 一 定 是 另 一 個 數。



1 有 4 個 = _____

$1 \times 4 =$ _____ 棵

兩 個 數 相 乘， 一 個 數 是 0， 答 案 一 定 是 0。



0 有 4 個 = _____

$0 \times 4 =$ _____ 棵

盆 子 裡 種 了 幾 顆 花 苗？ 填 填 看。

1




$1 \times 6 =$ _____

2



$0 \times 5 =$ _____

3



$1 \times 2 =$ _____

4

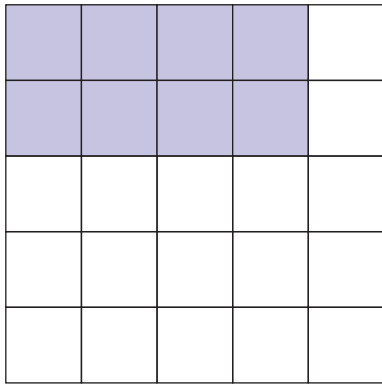


$0 \times 8 =$ _____



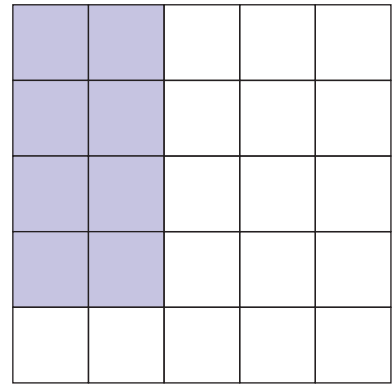
你可以改變相乘兩個數的順序，仍然可以得到相同的答案。

1 個橫排有 4 個，
有 2 個橫排。



$$4 \times 2 = \underline{\quad}$$

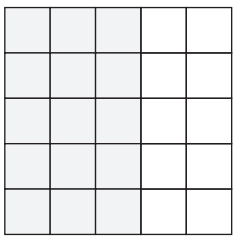
1 個橫排有 2 個，
有 4 個橫排。



$$2 \times 4 = \underline{\quad}$$

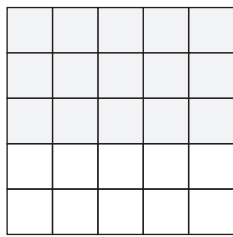
依照題目給定的數字塗色，讓每一橫排的方塊都一樣多。

1 個橫排有 3 個，
有 5 個橫排。



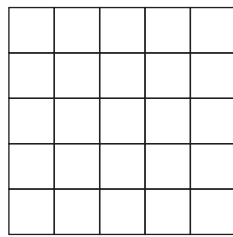
$$3 \times 5 = \underline{\quad}$$

1 個橫排有 5 個，
有 3 個橫排。



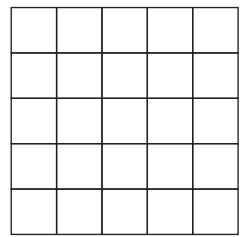
$$5 \times 3 = \underline{\quad}$$

1 個橫排有 3 個，
有 2 個橫排。



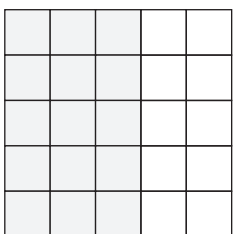
$$3 \times 2 = \underline{\quad}$$

1 個橫排有 2 個，
有 3 個橫排。



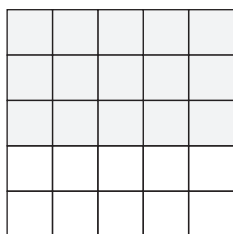
$$2 \times 3 = \underline{\quad}$$

1 個橫排有 3 個，
有 4 個橫排。



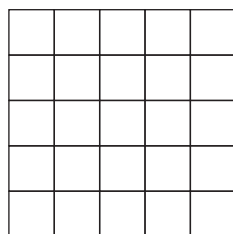
$$3 \times 4 = \underline{\quad}$$

1 個橫排有 4 個，
有 3 個橫排。



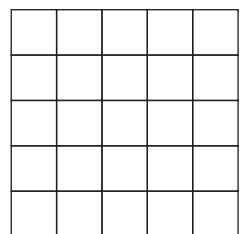
$$4 \times 3 = \underline{\quad}$$

1 個橫排有 1 個，
有 5 個橫排。



$$1 \times 5 = \underline{\quad}$$

1 個橫排有 5 個，
有 1 個橫排。

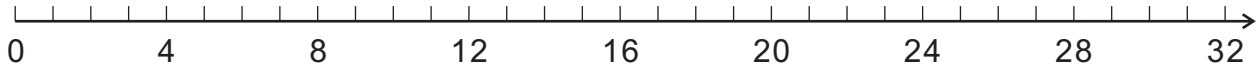


$$5 \times 1 = \underline{\quad}$$



怎樣找出 4×8 的答案？

你可以每一次跳 4 格，直到你念出 8 個數。



念出： 4 8 12 16 20 24 28 32

你也可以畫圈來找答案。



念出： 4 8 12 16 20 24 28 32

4 有 8 個 = 32

$4 \times 8 = 32$

找出答案來。

1

$4 \times 7 = \underline{\quad}$

2

$4 \times 1 = \underline{\quad}$

3

$4 \times 9 = \underline{\quad}$

4

$4 \times 0 = \underline{\quad}$

5

$4 \times 6 = \underline{\quad}$

6

$4 \times 2 = \underline{\quad}$

7

$5 \times 4 = \underline{\quad}$

8

$4 \times 3 = \underline{\quad}$

9

$4 \times 4 = \underline{\quad}$

10

$4 \times 8 = \underline{\quad}$

11

$1 \times 4 = \underline{\quad}$

12

$6 \times 4 = \underline{\quad}$

13

$0 \times 4 = \underline{\quad}$

14

$10 \times 4 = \underline{\quad}$

15

$3 \times 4 = \underline{\quad}$



你可以用加法、減法或乘法來解決問題。

快樂國小有一場寵物表演。

右邊的表格表示參加表演的寵物的數量。

寵物的類型	參加表演的數量
小狗	25
小貓	14
蜥蜴	9

問題 小貓比蜥蜴多幾隻？

解答 用減法做比較。

$$14 - 9 = 5 \quad \text{答：5 隻。}$$

用加法、減法或乘法做做看。

1 小狗比小貓多幾隻？

算式：

答：

想一想：

我要用加法的？

還是減法的？



2 在另一場寵物表演中，蜥蜴的數量是快樂國小這一場表演的2倍，另一場表演有幾隻蜥蜴參加？

算式：

答：

想一想：

我要用加法的、

減法的？還是

乘法的？



3 貓和蜥蜴合起來的數量比狗少幾隻？

算式：

答：