




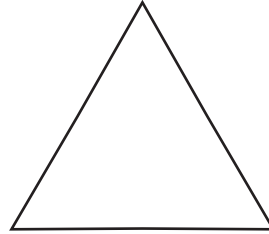
有一些平面圖形有角和邊。




長方形



正方形



三角形




圓形

沿著虛線描出每個圖形。

寫出它們有幾個角和幾個邊。

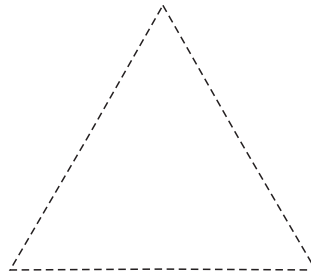
1



\_\_\_\_\_ 個邊

\_\_\_\_\_ 個角

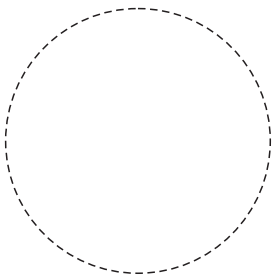
2



\_\_\_\_\_ 個邊

\_\_\_\_\_ 個角


3



\_\_\_\_\_ 個邊

\_\_\_\_\_ 個角

4



\_\_\_\_\_ 個邊

\_\_\_\_\_ 個角



二  
上

基礎篇

第35回

8-2

認識平行和垂直


二年 班 號

姓名：

認識平行和垂直。



平行



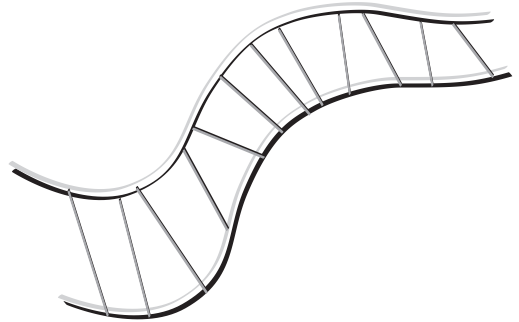
垂直

下面的圖片裡，有平行現象的打✓。

1



2




下面的圖片裡，有垂直現象的打✓。

1



2





那一個面比較大？大的打✓。


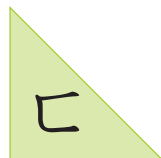




桌面



門

那一張圖卡的面比較小？



1 夕和夕，那一個面比較小？ \_\_\_\_\_

2 ㄩ和ㄩ，那一個面比較大？ \_\_\_\_\_