



下面的表格表示一個星期搭社區巴士的人數。

星期一	星期二	星期三	星期四	星期五

注意：  
|||| = 5

1 那一天搭巴士的人最多？

\_\_\_\_\_

2 其他的日子裡每天搭巴士的人有多少？

\_\_\_\_\_ 人。

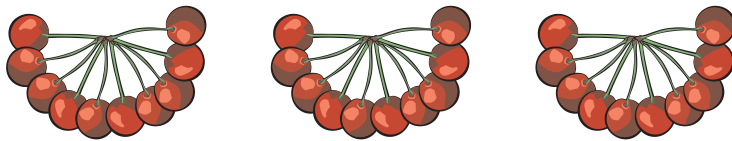
3 星期一到星期五一共有多少人搭巴士？

\_\_\_\_\_ 人。

4 星期一比其他日子多幾個搭巴士的人？

\_\_\_\_\_ 人。

5 十個一數，數數看看有多少顆櫻桃？再寫出算式。



\_\_\_\_\_ × \_\_\_\_\_ = \_\_\_\_\_ 顆櫻桃。

6 五個一數，數數看看有幾元？再寫出乘法算式。




\_\_\_\_\_ × \_\_\_\_\_ = \_\_\_\_\_ 元。



將下面的杯子，2個分一組，寫出可以分成幾組。

1



全部有 \_\_\_\_\_ 個杯子，  
可以分成 \_\_\_\_\_ 4 組。

2



全部有 \_\_\_\_\_ 個杯子，  
可以分成 \_\_\_\_\_ 組。

3



全部有 \_\_\_\_\_ 個杯子，  
可以分成 \_\_\_\_\_ 組。

4



全部有 \_\_\_\_\_ 個杯子，  
可以分成 \_\_\_\_\_ 組。



動動腦

分分看，寫出可以分成幾組。你可以畫圈做做看。

從這個數開始分	每組分2個	分分看，可以分成幾組
8	2	4
10	2	
14	2	
4	2	
16	2	



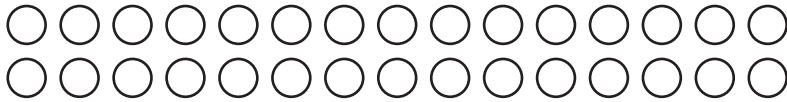
五個圈圈分一組，可以分成多少組？

1




20個圈圈，可以分成 4 組。

2



30個圈圈，可以分成 \_\_\_\_\_ 組。

3



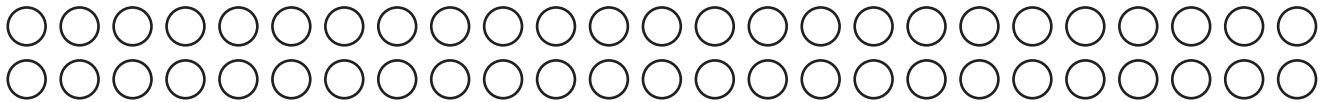
40個圈圈，可以分成 \_\_\_\_\_ 組。

4



15個圈圈，可以分成 \_\_\_\_\_ 組。

5



50個圈圈，可以分成 \_\_\_\_\_ 組。



動動腦

圓圓有 15 個小蛋糕，她想要把小蛋糕平分給自己、小可和毛毛，每個人可以分到幾個？



每個人分到 \_\_\_\_\_ 個。



一個木框裝 10 隻蝴蝶標本。完成下表。



木框數量	1	2	3	4	5	6	7	8	9	10
蝴蝶標本數量	10									

參考上表回答問題。

- 1 王伯伯製作了 30 隻蝴蝶標本，10 隻蝴蝶裝入一個木框裡，需要幾個木框？

\_\_\_\_\_ 個木框。


- 2 一個木框裝 10 隻蝴蝶標本，6 個木框裝幾隻？

算式：

\_\_\_\_\_ 隻。



以下這一堆硬幣可以換成幾個十元硬幣？



可以換成 \_\_\_\_\_ 個十元硬幣，還剩下 \_\_\_\_\_ 元。

小熊森林的動物們感情很好，常常互相交換東西。他們的規則是：

5 個 換 1 顆 ，2 顆 換 1 個 彩色寶石頭。

以下這些水果可以換成幾個彩色寶石頭？



可以換 \_\_\_\_\_ 個。