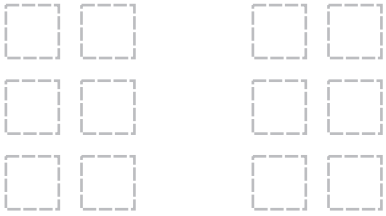




畫出每組一樣多的正方形，然後完成算式。

1 6 的 2 倍



$$\underline{6} \times \underline{2} = \underline{12}$$

2 5 的 3 倍

畫圖：

$$\underline{\quad} \times \underline{\quad} = \underline{\quad}$$

3 3 的 4 倍

畫圖：

$$\underline{\quad} \times \underline{\quad} = \underline{\quad}$$

4 10 的 2 倍

畫圖：

$$\underline{\quad} \times \underline{\quad} = \underline{\quad}$$



動動腦

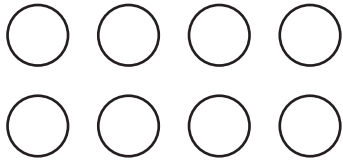
東東想在母親節時送媽媽一束玫瑰花，這束玫瑰花要有 12 朵花。東東家的花園種了 4 棵玫瑰花樹，每棵樹上開了三朵玫瑰花，請問這些玫瑰花夠不夠讓東東送給媽媽當禮物？圈圈看。

(夠 ， 不夠)



先數出有多少？再完成算式。

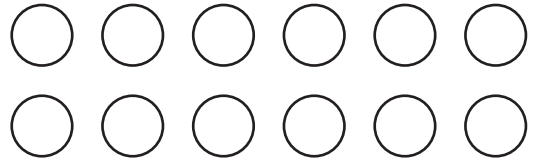
1



2的4倍是

$$2 \times 4 = \underline{\quad}$$


2



2的6倍是

$$\underline{\quad} \times \underline{\quad} = \underline{\quad}$$


3



2的7倍是

$$\underline{\quad} \times \underline{\quad} = \underline{\quad}$$

4



2的9倍是

$$\underline{\quad} \times \underline{\quad} = \underline{\quad}$$

做乘法。

1

$$2 \times 5 = \underline{\quad}$$

2

$$2 \times 2 = \underline{\quad}$$

3

$$2 \times 10 = \underline{\quad}$$

4

$$2 \times 3 = \underline{\quad}$$

5

$$2 \times 8 = \underline{\quad}$$

6

$$2 \times 6 = \underline{\quad}$$



動動腦

1

圓圓有2盒鉛筆，
每盒有8枝，共
多少枝鉛筆？

$$\underline{\quad} \times \underline{\quad} = \underline{\quad}$$

共有 枝鉛筆。

2

毛毛有2盒蠟筆，
每盒有6枝，共
多少枝蠟筆？


$$\underline{\quad} \times \underline{\quad} = \underline{\quad}$$

共有 枝蠟筆。




寫出乘法算式。

1




5的3倍是 15
5 × 3 = 15

2




5的8倍是 _____
_____ × _____ = _____

3



5的5倍是 _____
_____ × _____ = _____

4



5的6倍是 _____
_____ × _____ = _____

做乘法。

1

$5 \times 2 = \underline{\quad}$

2

$5 \times 4 = \underline{\quad}$

3

$5 \times 3 = \underline{\quad}$



你要怎樣用乘法算出這些錢幣共有多少元？

寫算式：




共有 _____ 元。




做乘法。


1 2 的乘法




2 5 的乘法



3 10 的乘法



4 2 的乘法




動動腦

假如你要做冰淇淋聖代給 10 個人吃，每一杯聖代需要 4 球冰淇淋。請問你需要幾球冰淇淋？

算式：

_____ 球冰淇淋。





1 一個袋子裝5顆球，下面的球需要幾個袋子裝？



需要 _____ 個袋子。



需要 _____ 個袋子。

2 畫○做問題。


10枝鉛筆裝成一盒，30枝鉛筆可以裝幾盒？

裝 _____ 盒

5顆草莓裝一盤，27顆草莓可以裝滿幾盤？

裝滿 _____ 盤

3 熊爸爸到溪邊捕魚，讓每個家人都能分到兩條魚當作晚餐。他抓到下面這麼多魚時，剛好足夠，請問他們家有幾隻熊？



有 _____ 隻