



你可以把同數相加記成乘法算式。



$$2 + 2 + 2 = \underline{6}$$

$$2 \times \underline{3} = \underline{6}$$

完成下列的乘法算式。

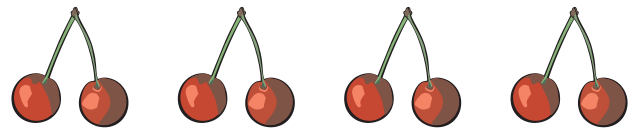
1



$$3 + 3 = \underline{\quad}$$

$$3 \times \underline{\quad} = \underline{\quad}$$

2



$$2 + 2 + 2 + 2 = \underline{\quad}$$

$$2 \times \underline{\quad} = \underline{\quad}$$

3



$$5 + 5 = \underline{\quad}$$

$$5 \times \underline{\quad} = \underline{\quad}$$

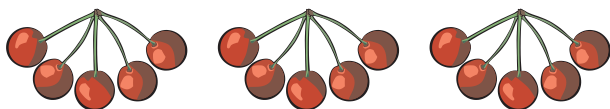
4



$$4 + 4 + 4 = \underline{\quad}$$

$$4 \times \underline{\quad} = \underline{\quad}$$

5



$$5 + 5 + 5 = \underline{\quad}$$

$$5 \times \underline{\quad} = \underline{\quad}$$

6



$$1 + 1 + 1 + 1 + 1 = \underline{\quad}$$

$$1 \times \underline{\quad} = \underline{\quad}$$



兩個一數，數數有多少朵花？再寫出乘法算式。

每盆有2朵花，4盆共有多少朵花？



加法： $2 + 2 + 2 + 2 = \underline{\quad}$

乘法： $2 \times 4 = \underline{8}$

2乘以4等於8。

↑ 每盆有2朵
↑ 4盆
↑ 共有8朵花

完成下面的算式。

1 2的6倍



$2 + 2 + 2 + 2 + 2 + 2 = \underline{\quad}$

$2 \times 6 = \underline{\quad}$

2 2的2倍



$2 + 2 = \underline{\quad}$

$2 \times 2 = \underline{\quad}$

3 2的5倍



$2 + 2 + 2 + 2 + 2 = \underline{\quad}$

$2 \times 5 = \underline{\quad}$

4 2的3倍



$2 + 2 + 2 = \underline{\quad}$

$2 \times 3 = \underline{\quad}$



寫出乘法算式表示一共有多少個。

每張桌子上有5個杯子。

3張桌子有幾個杯子？



5的3倍

$$5 + 5 + 5 = \underline{15}$$

$$5 \times \underline{3} = \underline{15}$$

乘法算式

五個一數，數數看有多少？再寫出乘法算式。


1 5的2倍



$$5 + 5 = \underline{\quad}$$

$$5 \times \underline{\quad} = \underline{\quad}$$


2 5的4倍



$$5 + 5 + 5 + 5 = \underline{\quad}$$

$$5 \times \underline{\quad} = \underline{\quad}$$


3 5的5倍



$$5 + 5 + 5 + 5 + 5 = \underline{\quad}$$

$$5 \times \underline{\quad} = \underline{\quad}$$

4 5的6倍



$$5 + 5 + 5 + 5 + 5 + 5 = \underline{\quad}$$

$$5 \times \underline{\quad} = \underline{\quad}$$



用十個一、數幫助你做10的乘法。

每一盆花有10朵，4盆有多少朵花？




10 的 4 倍是 40

$$10 \times 4 = 40$$

先填出10的倍數，再寫出乘法的答案。

1



10 的 3 倍

$$10 \times 3 = 30$$

2



10 的 _____ 倍

$$10 \times \underline{\quad} = \underline{\quad}$$


3



10 的 _____ 倍

$$10 \times \underline{\quad} = \underline{\quad}$$

4




10 的 _____ 倍


$$10 \times \underline{\quad} = \underline{\quad}$$



1 2 個蘋果裝一盒，下面的蘋果可以裝幾盒？



有 _____ 個蘋果，
可以裝 _____ 盒。



有 _____ 個蘋果，
可以裝 _____ 盒。

2 一個袋子裝 5 顆球，下面的球需要幾個袋子裝？



有 _____ 顆球，
需要 _____ 個袋子。



有 _____ 顆球，
需要 _____ 個袋子。

3 10 枝鉛筆裝成一盒，下面的鉛筆可以裝幾盒？



有 _____ 枝鉛筆，
可以裝 _____ 盒。