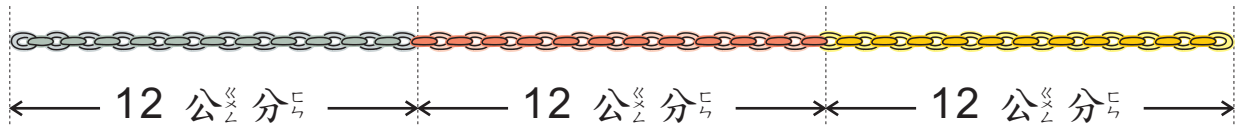




- ① 一條鏈子長 12 公分，三條鏈子串在一起長幾公分？



先算： $12 + \underline{\quad} = \underline{\quad}$

再算： $\underline{\quad} + \underline{\quad} = \underline{\quad}$


先算第一條鏈子和第二條鏈子的長度，再加第三條鏈子的長度。

答：

- ② 一條法國長麵包，爸爸吃掉 15 公分，媽媽吃掉 20 公分，還剩下 15 公分，這條麵包原來有多長？

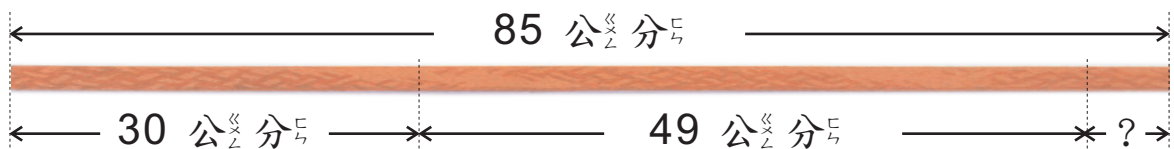
先算： $15 + \underline{\quad} = \underline{\quad}$

再算： $\underline{\quad} + \underline{\quad} = \underline{\quad}$



答：

- ③ 用 85 公分的繩子綁盒子，先綁小盒子用去 30 公分，再綁大盒子用去 49 公分，還剩下幾公分呢？



先算： $85 - \underline{\quad} = \underline{\quad}$

再算： $\underline{\quad} - \underline{\quad} = \underline{\quad}$

答：



4 6 個小朋友玩老鹰捉小鸡，再來 6 個，又來 6 個，現在有幾個小朋友？

先算： $6 + \underline{\quad} = \underline{\quad}$

再算： $\underline{\quad} + \underline{\quad} = \underline{\quad}$

答：




5 媽媽早上買了 15 根香蕉，中餐吃掉 6 根，晚餐吃掉 5 根，還有幾根？

先算： $15 - \underline{\quad} = \underline{\quad}$

再算： $\underline{\quad} - \underline{\quad} = \underline{\quad}$

答：

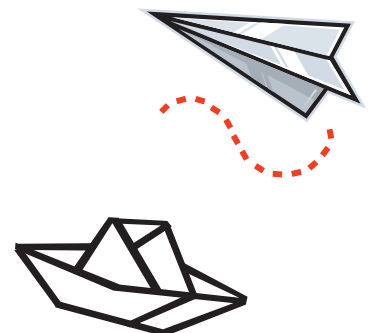


6 毛毛有彩色紙 45 張，摺紙飛機用去 18 張，摺紙船用去 7 張，剩下多少張？

先算： $45 - \underline{\quad} = \underline{\quad}$

再算： $\underline{\quad} - \underline{\quad} = \underline{\quad}$

答：



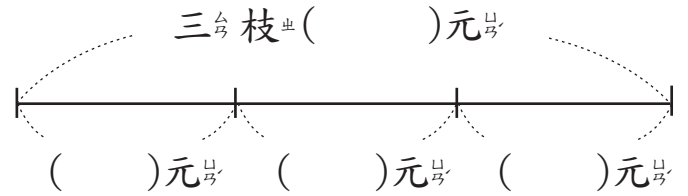


1 一枝原字筆 8 元，三枝多 少 元？

(先在線段圖裡填入數字，再做計算)

先算： $8 + \underline{\quad} = \underline{\quad}$


再算： $\underline{\quad} + \underline{\quad} = \underline{\quad}$



答：

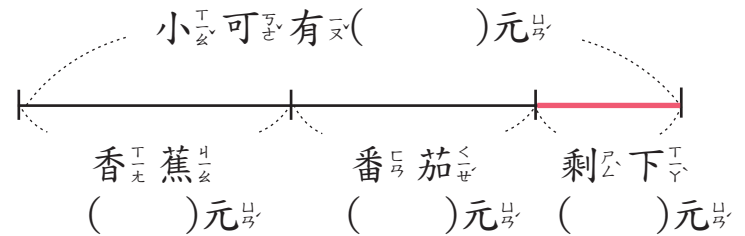
2 小可有 16 元，買香蕉和蕃茄後，還剩下幾元？

(先在線段圖裡填入數字，再做計算)



先算： $16 - \underline{\quad} = \underline{\quad}$

再算： $\underline{\quad} - \underline{\quad} = \underline{\quad}$



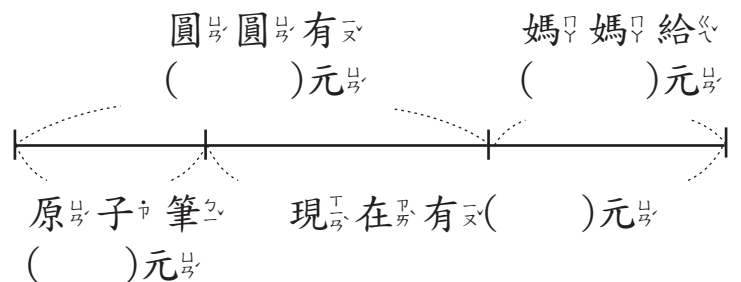
答：

3 圓圓有 20 元，買原字筆用去 8 元，媽媽又給 10 元，

現在有幾元？(先在線段圖裡填入數字，再做計算)

先算： $20 - \underline{\quad} = \underline{\quad}$

再算： $\underline{\quad} + \underline{\quad} = \underline{\quad}$



答：

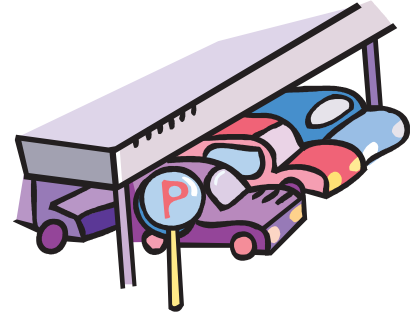


4 停車場有 12 輛汽車，來了 8 輛，又開走 5 輛，現在有幾輛？

先算： $\underline{\quad} + \underline{\quad} = \underline{\quad}$

再算： $\underline{\quad} - \underline{\quad} = \underline{\quad}$

答：



5 小明有郵票 12 張，用去 7 張，又買了 5 張，現在有幾張？

先算： $\underline{\quad} - \underline{\quad} = \underline{\quad}$

再算： $\underline{\quad} + \underline{\quad} = \underline{\quad}$

答：



6 小可有 15 張貼紙，東東比小可多 2 張。小可和東東共有多少張貼紙？

先算： $\underline{\quad} + \underline{\quad} = \underline{\quad}$

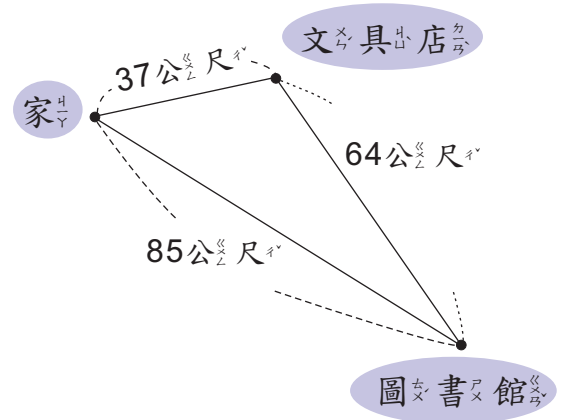
再算： $\underline{\quad} + \underline{\quad} = \underline{\quad}$

答：



1. 寫成一個算式做做看。

- 1 小平從家裡出發，先到文具店買筆，再到圖書館還書，然後直接回家，一共走了多少公尺？



- 2 班上共有 32 個同學，課外活動時 14 個人打球，9 個人參加樂隊，其他的人去寫生，寫生的同學有多少人？

- 3 嘟嘟有 44 元，不夠買定價 72 元的筆記本，他向媽媽要了 50 元後去買了一本筆記本，現在嘟嘟還有多少元？

2. 請依照價目表回答問題，每題都要寫成一個算式。

- 1 三種水果每樣各買一個，需要多少元？

	每個
葡萄柚	16 元
檸檬	7 元
蘋果	25 元



- 2 買 2 個葡萄柚和 1 個蘋果，需要多少元？

- 3 小南買了檸檬和蘋果各 1 個，他給老闆 50 元銅板，可以找回多少元？