




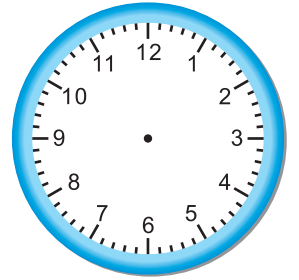
忙碌的毛毛。

先畫出鐘面的時刻，再寫時刻。

- 1 毛毛要上 4 個小時的鋼琴課，現在是 3 點鐘。




4 小時後



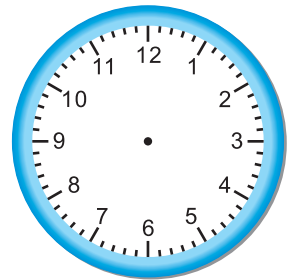
3 時 0 分

\_\_\_ 時 \_\_\_ 分

- 2 毛毛再過 6 小時要吃晚餐，現在是 2 點鐘。




6 小時後



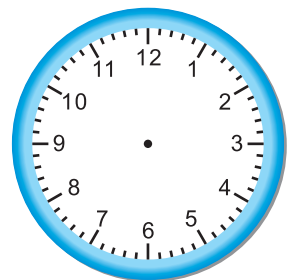
2 時 0 分

\_\_\_ 時 \_\_\_ 分

- 3 毛毛再過 7 小時要餵貓，現在是 9 點鐘。




7 小時後



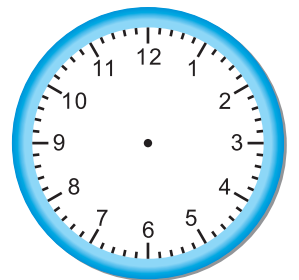
9 時 0 分

\_\_\_ 時 \_\_\_ 分

- 4 毛毛再過 9 小時起床，現在是 10 點鐘。



9 小時後



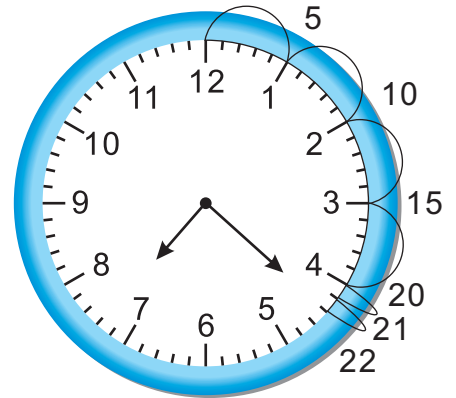
10 時 0 分

\_\_\_ 時 \_\_\_ 分

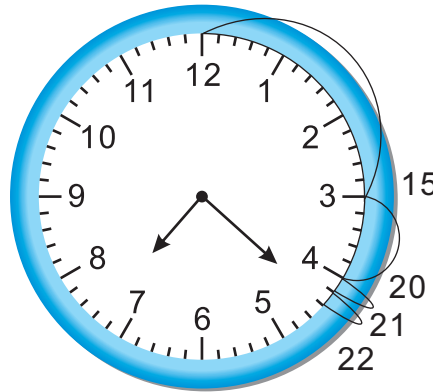


合併時間。

右圖是你點算時刻的方法。

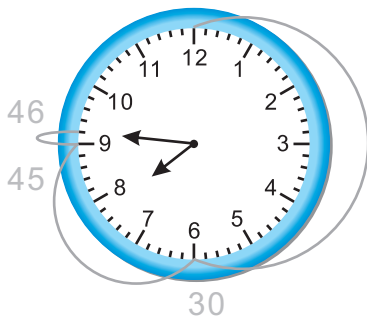


還有更簡單一點的方法，例如：你可以用 15 個一數，先數一個 15 分鐘，再數一個 5 分鐘，剩下的做一個一數。

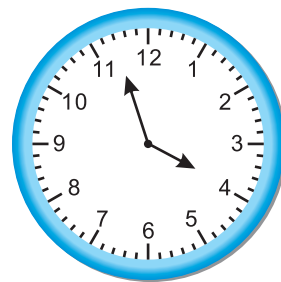


利用 15 分鐘或 30 分鐘來點數時刻，你可以試著畫出你的數法。


1




2



3



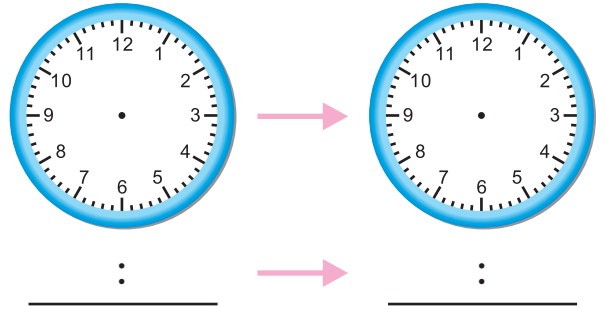
4



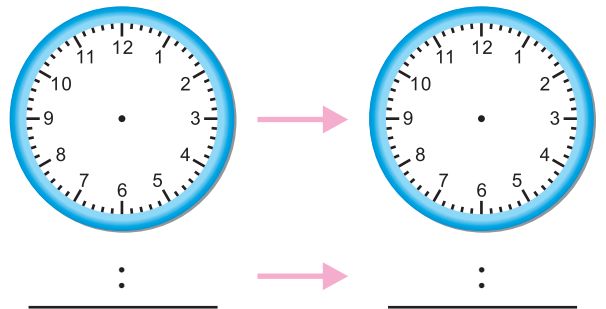


畫出指針並寫出時刻。

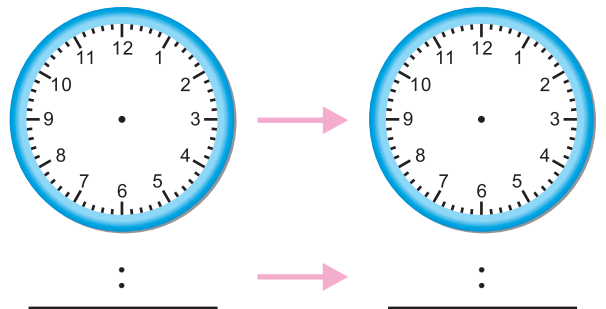
1 毛毛中午12點吃午餐，  
一個小時後，他在喝牛奶。  
喝牛奶是幾點鐘？



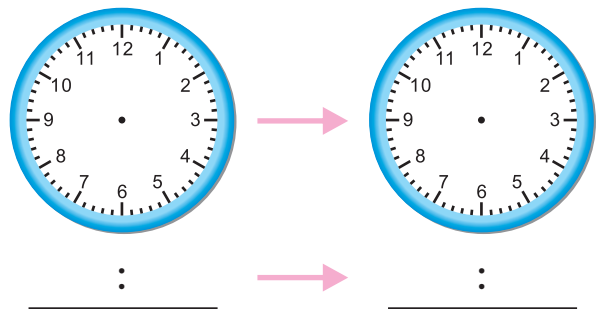
2 毛毛下午2點打電話給小可，  
一個小時後，他們在公園見面。  
在公園見面是幾點鐘？



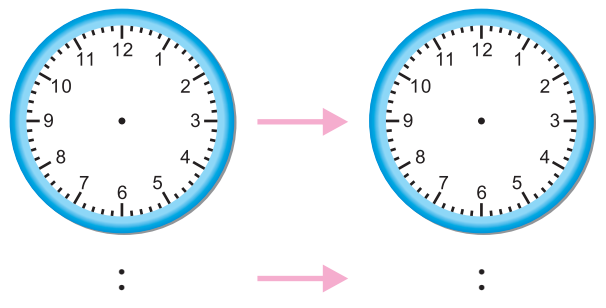
3 上午10:00 毛毛在院子裡  
幫爸爸的忙，他們清掃落葉  
花了1小時，掃完的時候是  
幾點鐘？



4 毛毛和东东在圖書館待  
了2小時，他們3點鐘到  
達圖書館，他們什麼時候  
離開的？



5 毛毛下午5:00在廚房幫  
媽媽的忙，他們一家人  
在2小時後吃完晚餐，  
吃完晚餐是幾點鐘？





你的好朋友星期六要來拜訪你，他會在下午1:00到達。你必須在下午3:30把他送回家。你想安排一些特別的活動，所以你看報了，發現下面事項：

- 圖書館下午2:00開始有「說故事時間」，時間是30分鐘。
- 市中心玩具特賣會12:30開始，持續1個小時又30分鐘。
- 電影2:00開始播放，播放時間是2小時。
- 學校的空手道表演3:15開始，表演時間是1小時。



- 1 「說故事時間」幾點結束？ \_\_\_\_\_ : \_\_\_\_\_
- 2 「玩具特賣會」幾點結束？ \_\_\_\_\_ : \_\_\_\_\_
- 3 「電影播放」幾點結束？ \_\_\_\_\_ : \_\_\_\_\_
- 4 「空手道表演」幾點結束？ \_\_\_\_\_ : \_\_\_\_\_
- 5 你和你的朋友可以參加那項活動？



東東和小威約好星期六去看電影，參考右邊的放映時間表，回答下面的問題。

片名：布丁狗大戰果凍貓

片長：80分鐘

- 1 第二場電影什麼時候結束？

場次	開始時間
一	下午 1:00
二	下午 3:00
三	下午 5:00
四	下午 7:00

- 2 東東和小威本來約好要看第二場，可是小威遲到了25分鐘，小威是幾點到的？

- 3 因為小威遲到的關係，他們決定改看第三場，兩人還要等多久的時間？