





寫_寫出_出時_時刻_刻。

1




2 時_時 _____ 分_分

2




3 時_時 _____ 分_分

3



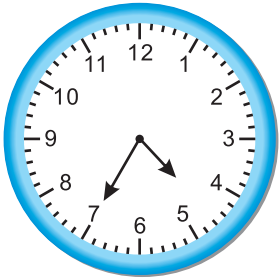
6 時_時 _____ 分_分

4




2 時_時 _____ 分_分

5



_____ 時_時 35 分_分

6




_____ 時_時 55 分_分

7



_____ 時_時 45 分_分

8



_____ 時_時 0 分_分



1 東_東東_東看_看了_了他_他最_最喜_喜歡_歡的_的影_影片_片 30 分_分鐘_鐘，接_接著_著又_又花_花了_了30 分_分鐘_鐘看_看故_故事_事書_書，他_他做_做完_完這_這兩_兩件_件事_事花_花了_了多_多少_少時_時間_間？

_____ 分_分鐘_鐘。

2 上_上面_面的_的答_答案_案還_還有_有另_另一_一種_種記_記法_法：

_____ 小_小時_時。




寫出時刻不同的記法。



1 _____ 時 _____ 分

2 _____ : _____


3 _____ 點 _____ 分



1 _____ 時 _____ 分

2 _____ : _____

3 _____ 點 _____ 分



1 _____ 時 _____ 分

2 _____ : _____

3 _____ 點 _____ 分












看著鐘面數數看。

1 現在是 3 點 52 分，
東東在 4 點 15 分要
參加躲避球練習，
請問還要幾分鐘？

2 小可和毛毛下午 5:00
開始慢跑，小可跑到
5 點 45 分，毛毛跑到
5 點 50 分，誰跑的比較
久？



寫出時刻，找出經過的時間。


活動	開始時刻	結束時刻	經過的時間
	 上午 11:00	 下午 1:00	經過 _____ 小時
	 上午 _____ : _____	 下午 _____ : _____	經過 _____ 小時
	 上午 _____ : _____	 下午 _____ : _____	經過 _____ 小時
	 下午 _____ : _____	 下午 _____ : _____	經過 _____ 小時
	 下午 _____ : _____	 下午 _____ : _____	經過 _____ 小時



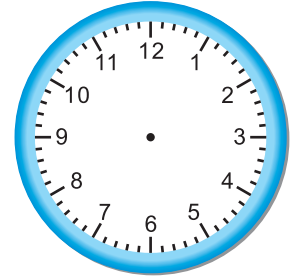
利用時鐘解決每一個問題，先畫出指針，再寫出時間。

- 1 毛毛在早上 9:30 到海邊水浴場，他在那裡待了 3 小時又 30 分鐘，請問他離開的時刻。

到達




離開



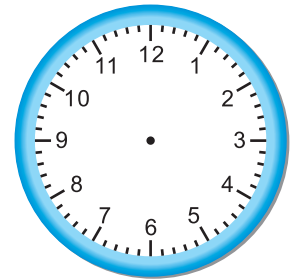
想法：他在海邊水浴場待了多久？

- 2 棒球練習 10:00 開始，練習花了 1 小時又 30 分鐘。請問棒球練習結束的時刻？

開始




結束



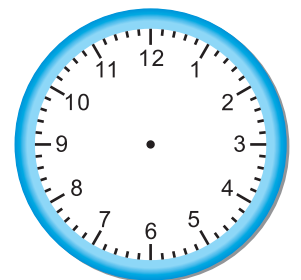
想法：幾點開始練習？

- 3 小可 2:30 開始練習彈琴，她彈了一個小時，然後又出門一個小時，回來的時候是幾點鐘？

開始



回來的時刻



_____ : _____



1 玩具拍賣會從下午3:30開始，持續1小時又45分鐘。玩具拍賣會是在什麼時候結束？

2 足球比賽分成上半場、下半場，每個半場各45分鐘，兩個半場之間休息15分鐘。下午1:00開始的足球比賽是在什麼時候結束？

3 音樂練習一次需要90分鐘的時間，奇奇要在中午12:00以前練習完，他最晚應該在什麼時候開始練習？