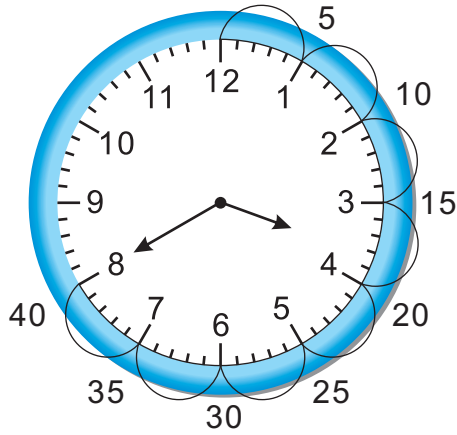
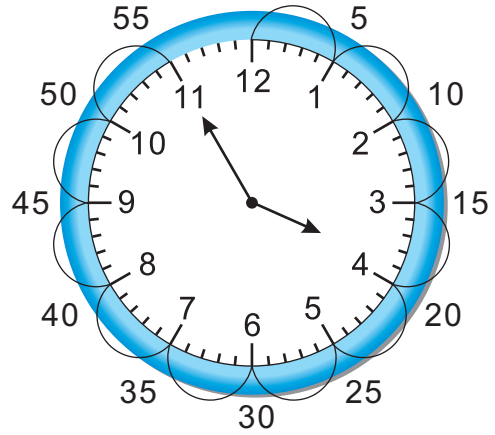




用 5 個一、數的方法來報讀時刻。




3 時 40 分



3 時 55 分

寫出時刻。

1




8 時 _____ 分

2



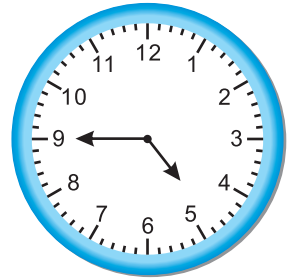
11 時 _____ 分

3




2 時 _____ 分

4




4 時 _____ 分

5



_____ 時 55 分

6




_____ 時 40 分

7



_____ 時 50 分

8



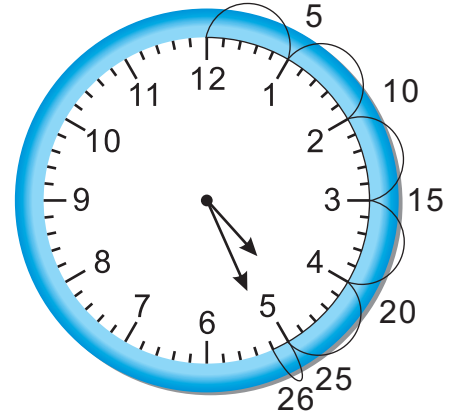
_____ 時 45 分



讀出時刻。

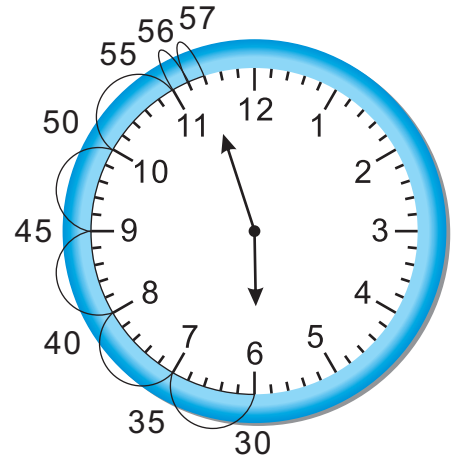
- 先看時針，時間在 4 和 5 之間，所以是 4 時多。
- 再看分針，從 12 開始，做五個一。
- 再數剩下的，用一個一。

4 : 26




- 先看時針，時間在 5 和 6 之間，所以是 5 時多。
- 再看分針，從 6 開始，做五個一。
- 再數剩下的，用一個一。

5 : 57



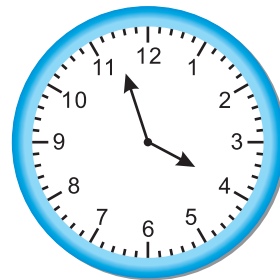
寫出時刻。

1




_____ 時 _____ 分

2




_____ 點 _____ 分

3



_____ : _____


4




_____ : _____



同樂會從上午 11:00
開始，下午 3:00 結束。
同樂會一共花了多少
時間？
看著鐘面數數看。



11:00 開始




3:00 結束

4 小時

先寫出時刻，再寫出經過多少時間。


1

開始



:

結束




:

經過 _____ 小時


3

開始



:

結束




:

經過 _____ 小時


5

開始



:

結束

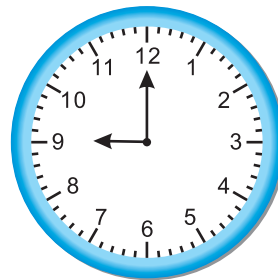


:

經過 _____ 小時

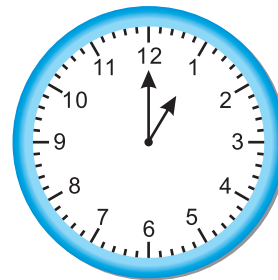
7

開始



:

結束



:

經過 _____ 小時




你可以利用時鐘來幫你解決問題。

烤肉會下午 2:00 開始，經過 2 小時又 30 分鐘才結束，請找出烤肉會結束的時刻。

計畫 拿出一個時鐘來表示這個問題，先將指針調整在烤肉會開始的時刻。

解題 從2點開始，先數 2 個小時，再數 30 分鐘。烤肉會在 4:30 結束。





利用時鐘解每一個問題，畫出結束的時刻，並寫出經過多少時間。

1 小可受邀參加烤肉會，她中午 12 點就提早到了，請問她還要等多久時間烤肉會才開始？

到達的時刻

烤肉會開始時刻

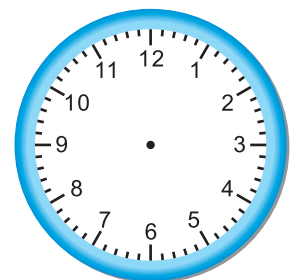



_____ 小時

2 烤肉會開始，東東遲到了 30 分鐘，請問東東到達的時刻？

烤肉會開始時刻

到達的時刻




_____ : _____

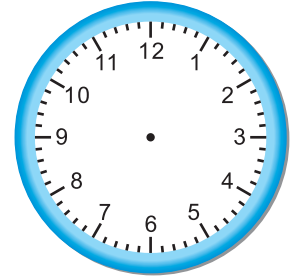


- 1 音樂比賽從上午9:00開始，經過2小時45分鐘結束。音樂比賽什麼時候結束？

開始




結束




- 2 書展從下午1:15開始，說故事時間從下午3:00開始。奇奇兩項活動都想參加，他在書展會場最多可以停留多久時間？

書展
開始



說故事
開始



- 3 小可假日出門，她花了40分鐘騎車，花了25分鐘跑步，她做完這兩項運動花了多少分鐘？寫出算式做做看。