




1



小華的鉛筆



小英的直尺

小華用鉛筆量繩子，量得繩子有 8 枝鉛筆長。
小英用直尺量綵帶，量得綵帶有 8 支直尺長。
(繩子，綵帶) 比較長。


2 小玉家的桌子有 3 條紅繩長，小明的家有 4 條黑繩長，那麼誰家的桌子比較長？
圈圈看。(小玉家，小明家，不知道)。






拿 出 公 分 尺 量 每 樣 東 西 的 長 度。

1




_____ 公 分

2



_____ 公 分

3



大 概 _____ 公 分

4



大 概 _____ 公 分



1 把 最 長 的 鉛 筆 塗 上 顏 色。

2 在 最 短 的 鉛 筆 上 畫 叉。

3 把 6 公 分 的 鉛 筆 圈 起 來。





用尺畫畫看。

1 1 公分

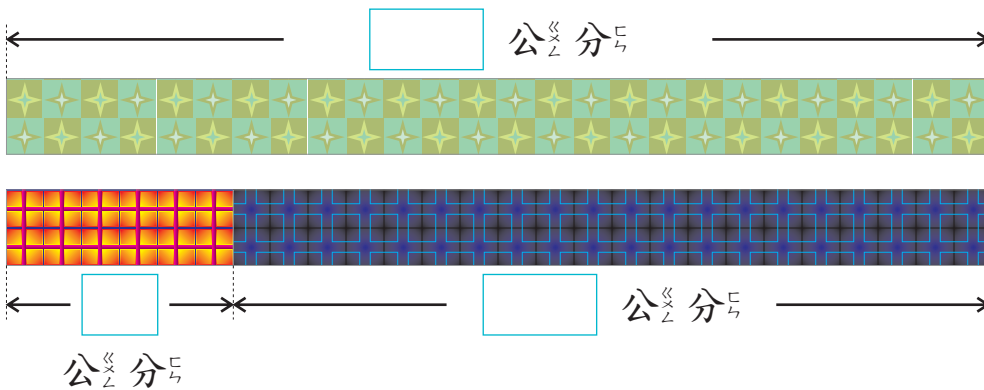


2 5 公分

3 8 公分

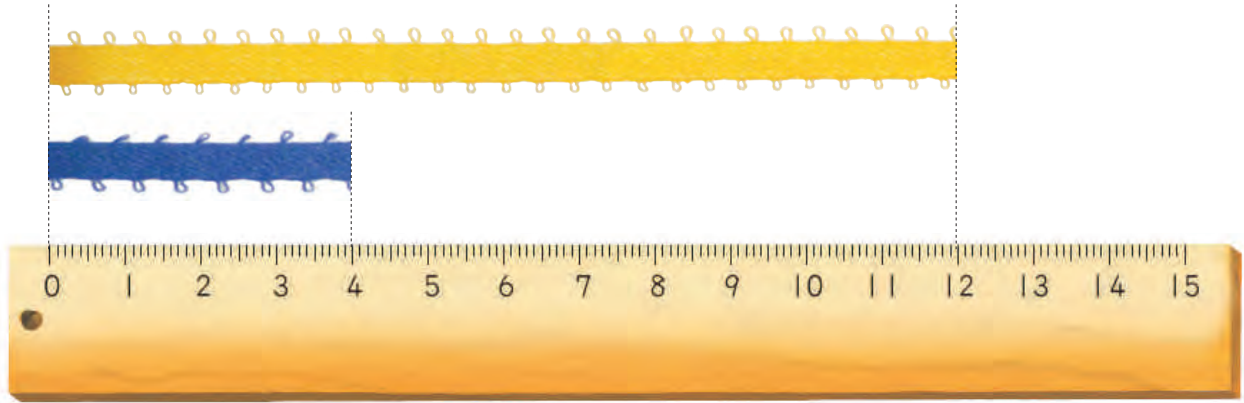
4 4 公分

有多長？量量看。





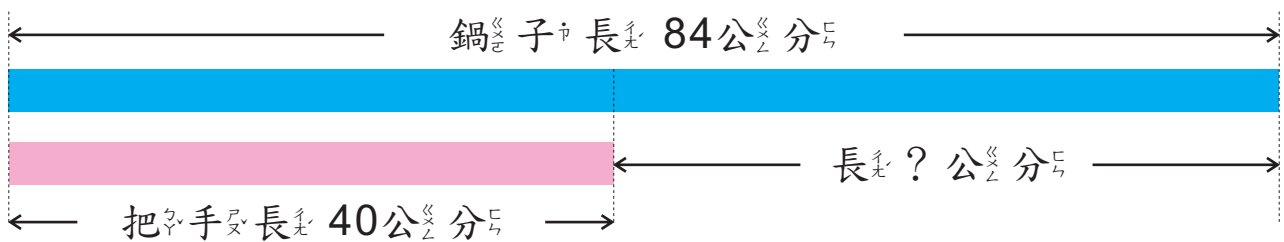
- 1 黃帶子比藍帶子長多少公分？



橫式：

答：

- 2 鍋子的一圈有 84 公分長，鍋子的把手有 40 公分長，鍋子的一圈比把手長多少公分？




橫式：

答：



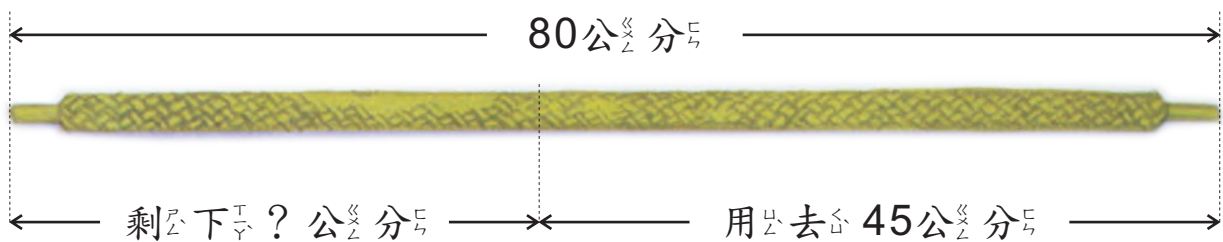
- 1 紅繩長48公分，紅繩比橘繩短12公分，橘繩長多少公分？



橫式：

答：

- 2 綠繩長80公分，綁東西用去45公分，還剩下幾公分？



橫式：

答：