



- 1 拿出一枝筆來，量一量你在教室裡的桌子有多高？



小明

小英

答：大概有 _____ 枝鉛筆那麼高。

- 2 誰的桌子比較高？

我的桌子有
4 枝鉛筆那麼
高。

我的桌子有
5 枝鉛筆那麼
高。




小明

小英

兩人的桌子明明一樣高，
為什麼量出來不一樣呢？



你_ら可_い以_ま用_い直_し尺_さ測_ち量_か東_之西_之的_か長_い度_か。



1 公_分分_分

這_こ條_の繩_の子_の的_か長_い度_か是_あ 11 公_分分_分。

量_か量_か看_ま。

1



_____ 公_分分_分

2



_____ 公_分分_分

3



_____ 公_分分_分

4



_____ 公_分分_分

5



_____ 公_分分_分

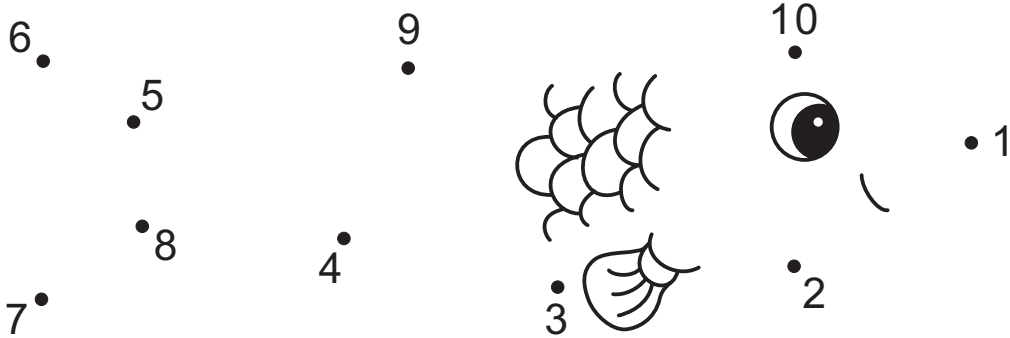
6



_____ 公_分分_分



- 從點 1 開始，按照數字順序，用直尺連線。
- 量量看点 9 到點 10 的長度，大概是 _____ 公分。



說說看，連起來的圖形像什麼呢？

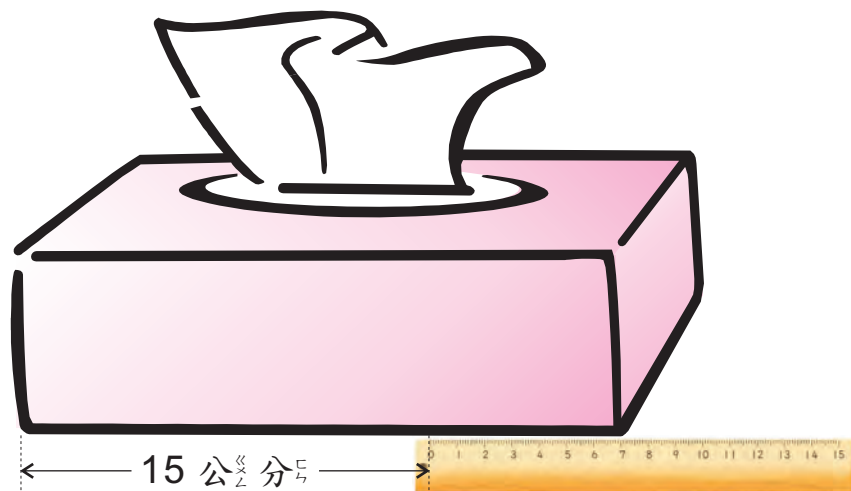


- 1 用 15 公分的尺量故事書的邊長，故事書的這一邊有多長呢？



答：_____ 公分。

- 2 用 15 公分的尺量面紙盒的邊長，量出來是幾公分呢？




橫式：_____ + _____ = _____。

答：面紙盒長_____公分。




1 老鷹的翅膀張開有多長呢？



橫式： $\underline{\quad} + \underline{\quad} + \underline{\quad} = \underline{\quad}$ 。

答： $\underline{\quad}$ 公分。

2 小可和毛毛合作量蛇的長度？小可從左邊量了45公分，毛毛從右邊量了47公分，蛇有多長呢？



橫式： $\underline{\quad} + \underline{\quad} = \underline{\quad}$ 。

答：