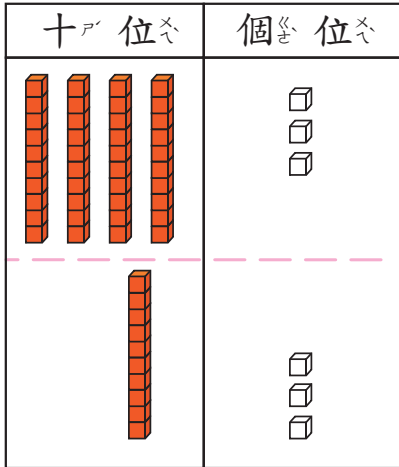




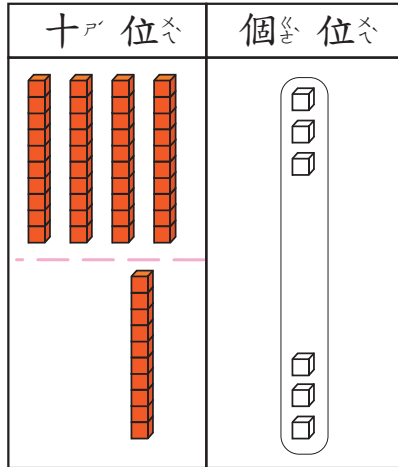
43+13是「多」少？用「直式」算、算、看。

第1步 寫成直式。



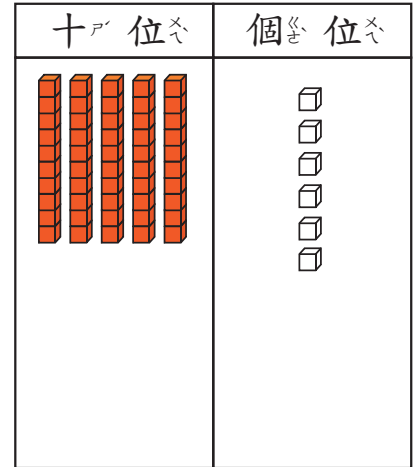
十位	個位
4	3
+ 1	3
<hr/>	

第2步 先加個位。



十位	個位
4	3
+ 1	3
<hr/>	
	6

第3步 再加十位。



十位	個位
4	3
+ 1	3
<hr/>	
5	6

拿出「」和「」來做做看。

1

十位	個位
2	4
+ 7	5
<hr/>	
9	9

2

十位	個位
6	5
+ 3	2
<hr/>	



36+7是多多少？用直式算算看。

第1步 先加個位，  
 $6+7=13$ 。

十位	個位
□	
3	6
+	7
<hr/>	

第2步 13可以換成  
1個十 3個一。

十位	個位
□	
3	6
+	7
<hr/>	
	3

第3步 再加十位。

十位	個位
□	
3	6
+	7
<hr/>	
4	3

加加看，進位時記得要寫出進位的數字。

1

十位	個位
□	
5	6
+	8
<hr/>	
6	4

2

十位	個位
□	
1	9
+	9
<hr/>	

3

十位	個位
□	
3	3
+	6
<hr/>	

4

十位	個位
□	
4	8
+	3
<hr/>	

5

十位	個位
□	
2	6
+	4
<hr/>	

6

十位	個位
□	
3	8
+	9
<hr/>	

7

十位	個位
□	
2	6
+	3
<hr/>	

8

十位	個位
□	
5	2
+	5
<hr/>	



47+17的和是多多少？

第1步：寫成直式，先加個位。

十位	個位
□	
4	7
+1	7
<hr/>	

第2步：個位寫1，進1到十位。

十位	個位
□	
4	7
+1	7
<hr/>	
	4

第3步：再加十位。

十位	個位
□	
4	7
+1	7
<hr/>	
6	4

加加看，要注意，需不需要進位哦！

1

十位	個位
□	
2	4
+3	7
<hr/>	

2

十位	個位
□	
1	7
+1	6
<hr/>	

3

十位	個位
□	
3	3
+1	8
<hr/>	

4

十位	個位
□	
2	1
+4	9
<hr/>	

5

十位	個位
□	
3	8
+1	1
<hr/>	

6

十位	個位
□	
6	5
+1	6
<hr/>	

7

十位	個位
□	
2	7
+5	4
<hr/>	



先加個位，要注意  
需不需要進位。

$$\begin{array}{r} 26 \\ 24 \\ + 4 \\ \hline 54 \end{array}$$

先找出那兩個數加  
起來是10，  
再算  $10+4=14$ 。

$$\begin{array}{r} 26 \\ 24 \\ + 4 \\ \hline 54 \end{array}$$

先做同樣數相加，再  
做  $8+6=14$ 。

$$\begin{array}{r} 26 \\ 24 \\ + 4 \\ \hline 54 \end{array}$$

加加看。

1

$$\begin{array}{r} 50 \\ 17 \\ + 24 \\ \hline \end{array}$$

2

$$\begin{array}{r} 36 \\ 24 \\ + 18 \\ \hline \end{array}$$

3

$$\begin{array}{r} 40 \\ 11 \\ + 14 \\ \hline \end{array}$$

4

$$\begin{array}{r} 25 \\ 21 \\ + 17 \\ \hline \end{array}$$

5

$$\begin{array}{r} 48 \\ 18 \\ + 3 \\ \hline \end{array}$$

6

$$\begin{array}{r} 32 \\ 16 \\ + 14 \\ \hline \end{array}$$

7

$$\begin{array}{r} 51 \\ 21 \\ + 20 \\ \hline \end{array}$$

8

$$\begin{array}{r} 14 \\ 28 \\ + 26 \\ \hline \end{array}$$

9

$$\begin{array}{r} 42 \\ 22 \\ + 28 \\ \hline \end{array}$$

10

$$\begin{array}{r} 21 \\ 34 \\ + 4 \\ \hline \end{array}$$

11

$$\begin{array}{r} 12 \\ 27 \\ + 10 \\ \hline \end{array}$$

12

$$\begin{array}{r} 44 \\ 30 \\ + 19 \\ \hline \end{array}$$

13

$$\begin{array}{r} 59 \\ 11 \\ + 22 \\ \hline \end{array}$$

14

$$\begin{array}{r} 18 \\ 31 \\ + 27 \\ \hline \end{array}$$

15


$$\begin{array}{r} 47 \\ 6 \\ + 30 \\ \hline \end{array}$$



文具店特價拍賣



25元



49元



35元

強強買了一個35元的鑰匙圈，還剩下15元，強強原來有多少元？

$$35 + 15 = 50$$

答：50元。

利用上圖做下面的問題。

- 1 小可買了一本49元的筆記本，還剩下11元，小可原來有多少元？

算式：

答：

- 2 原子筆一枝25元，一枝原子筆比一個鉛筆盒少9元，一個鉛筆盒要多少元？

算式：

答：