



走迷宮。

按照下面提示的順序，一直走到終點(如果你走錯一步，可能就有麻煩了)。你走過的路要用線畫出來。

1 走到「1個百
1個十」

2 走到「1個百
5個十」

3 走到「1個百
3個十」

4 走到「11+11」

5 走到「1個百
4個十」

6 走到「1個百
6個十」

7 走到「1個百
2個十」

8 走到「1個百
9個十」

9 走到「100-1」

10 走到「6個十
5個一」

11 走到「1個百
7個十」

12 走到「20個十」

125

65

170

200

終點

111

99

190

175

143

128

120

160

150

130

22

140

起點

110

115

135

180

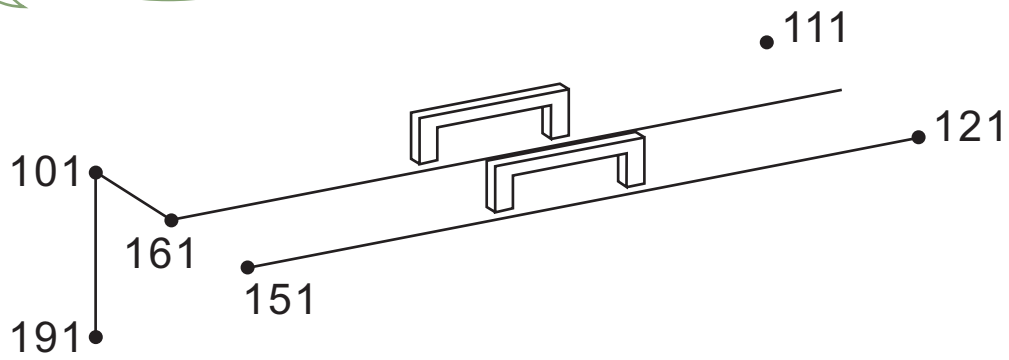


猜謎。

從101開始按照順序向上做10個一、數，完成點和點的連線，找出謎底來。

謎題：

我在出門時總是裝的飽飽的，
回家時，我的肚子就清空了，
猜猜我是誰？



寫出謎底：

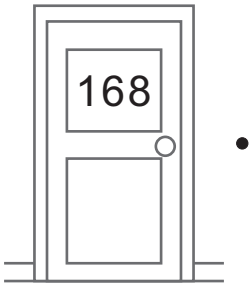
我是一個_____。



動物的小秘密。



有五隻小动物住在動物旅館中。利用提示的線索找到動物們的房間號碼。畫線將每一扇門連到正確的動物身上去。

1




我的房間號碼有 1 個百
6 個十 8 個一。
我的房間號碼是 _____。

2





我的房間號碼有 1 個百
7 個十 6 個一。
我的房間號碼是 _____。

3




我的房間號碼有 1 個百
6 個十 5 個一。
我的房間號碼是 _____。

4



我的房間號碼有 1 個百
7 個十 2 個一。
我的房間號碼是 _____。

5



我的房間號碼有 1 個百
7 個十 9 個一。
我的房間號碼是 _____。



二
上

挑戰篇

1-4

用符號表示大小


二年 班 號

姓名：

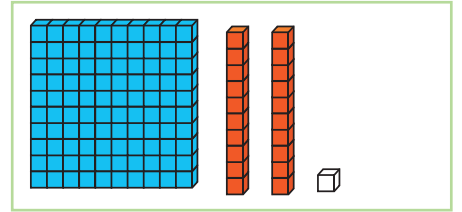
畫畫看看，比大小。

在□中填入一個數字，使得每一個式子是正確的。
畫出代表「百」、「十」和「一」的積木來表示你填入的數字。


1 □ > 121



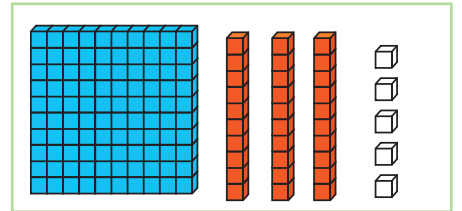
>




2 □ < 135



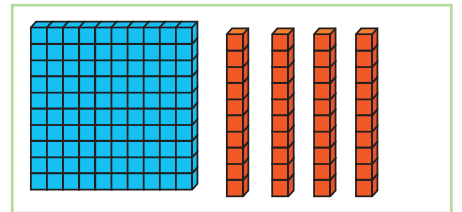
<



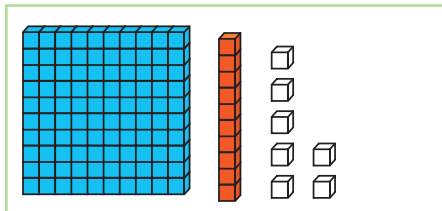
3 □ = 140




=



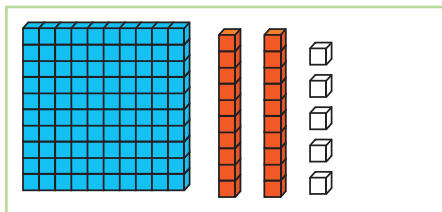
4 117 > □




>



5 125 < □



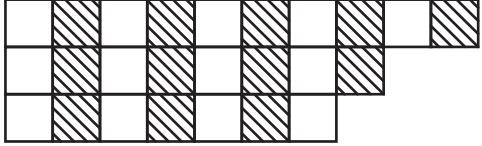


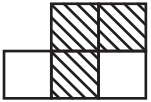
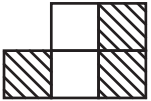


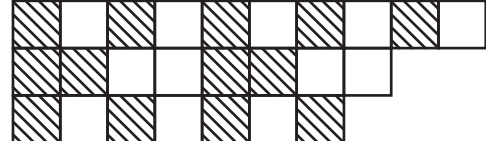
<





找規律。

左邊的每個題目都可以在右邊的題目中找到相匹配的，把他們用線連起來。

- 1  • • 11,13,15,17,19
- 2  • • C D A A B C D A
- 3 1,3,5,7,9 • • 
- 4 3,6,9,12 • • A B B C C D
- 5 A A B C D A A B • • 
- 6 A A B B C C D A • • 
- 7  • • 25,30,35,40
- 8  • • 15,18,21,24
- 9  • • 