



罐 子 裡 有 60 顆 彈 珠 。

從 60 往 上 數 5 個 十

60 → 70 → 80 → 90 → 100 → 110



共 有 110 顆 。

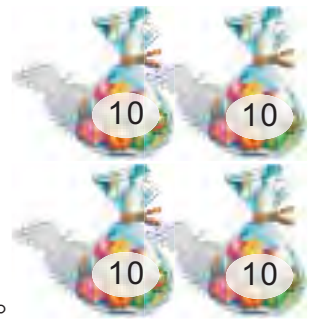
有 多 少 ？ 數 數 看 。

1



共 有 \_\_\_\_\_ 顆 。

2




共 有 \_\_\_\_\_ 顆 。

3



共 有 \_\_\_\_\_ 顆 。

4



共 有 \_\_\_\_\_ 顆 。

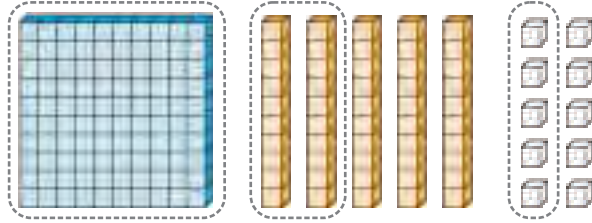
罐 子 裡 已 有 140 顆 彈 珠 ， 還 要 幾 袋 彈 珠 合 起 來 是 200 顆 ？ 圈 圈 看 。





按照數字把積木圈起來，再填填看。

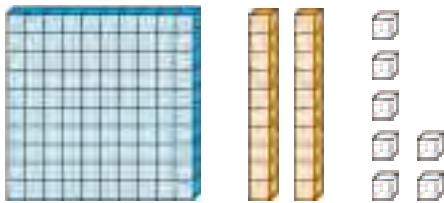
125



有 1 個百 2 個十 5 個一

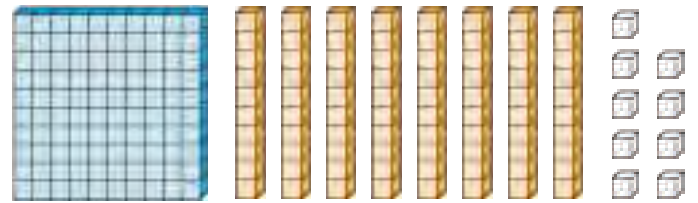
按照數字把積木圈起來，再填填看。

1 106



有      個百      個十      個一

2 160



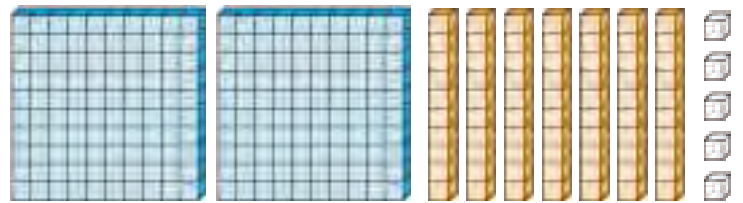
有      個百      個十      個一

3 125



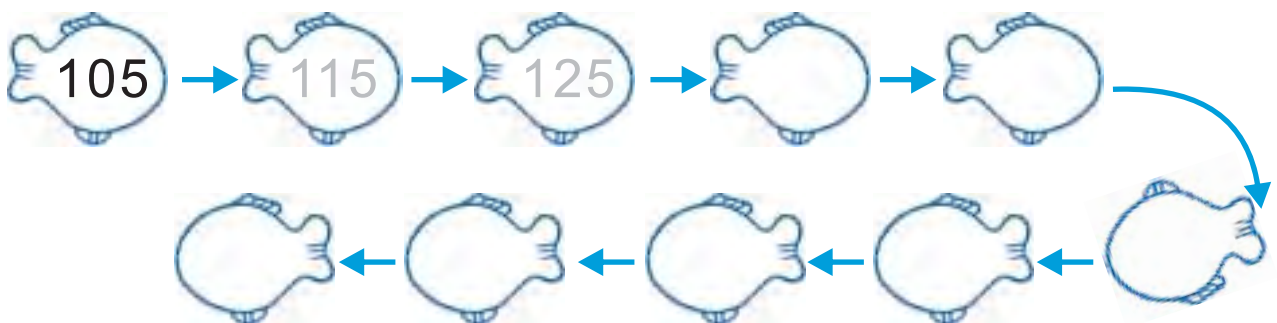
有      個百      個十      個一

4 152



有      個百      個十      個一

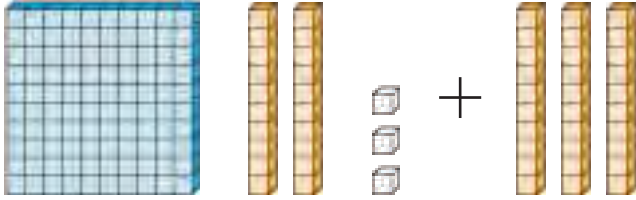
十個一、數，按照數的順序填填看。





用、積、木、做、做、看。

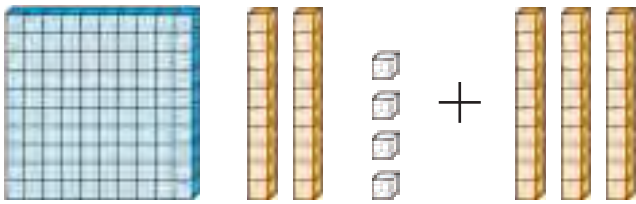
$123 + 30$



123 + 30 有 1 個 百、  
5 個 十、 3 個 一。  
所 以  $123 + 30 = 153$

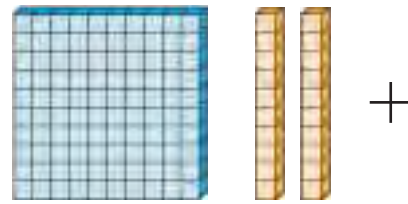
$123 + 30 = 153$

①  $124 + 30$



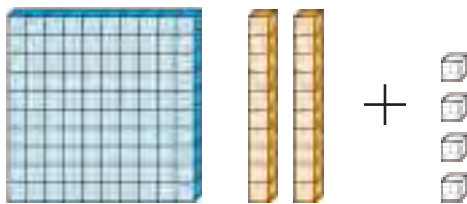
$124 + 30 = \underline{\quad}$

②  $120 + 0$



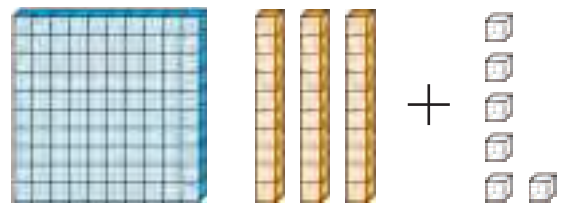
$120 + 0 = \underline{\quad}$

③  $120 + 4$



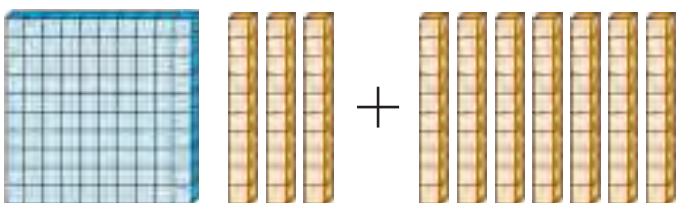
$120 + 4 = \underline{\quad}$

④  $130 + 6$



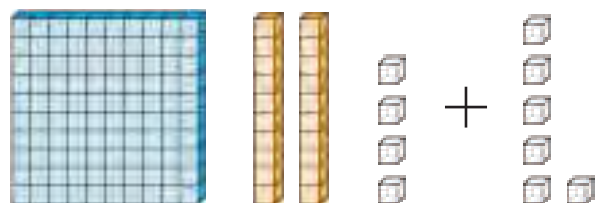
$130 + 6 = \underline{\quad}$

⑤  $130 + 70$



$130 + 70 = \underline{\quad}$

⑥  $124 + 6$

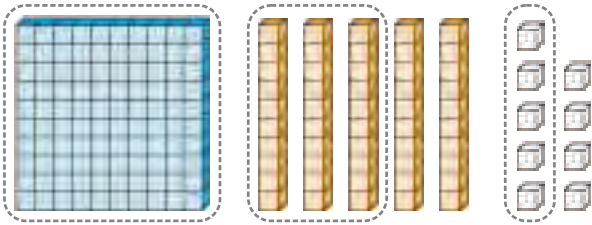


$124 + 6 = \underline{\quad}$



依照指示把積木圈起來。

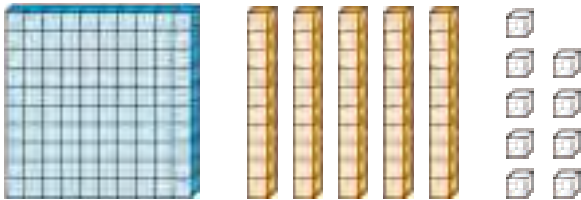
比125多10的數。



125是1個百、2個十、5個一。  
比125多10就有1個百、3個十、5個一。

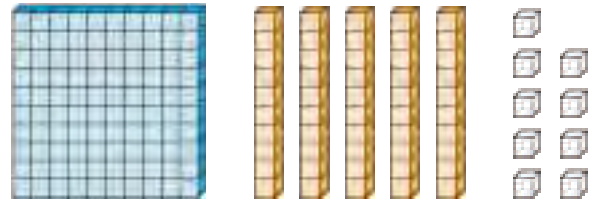
比125多10是 135。

1 比132多10的數。



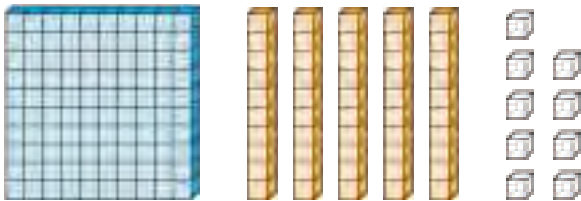
比132多10是 \_\_\_\_\_。

2 比132少10的數。



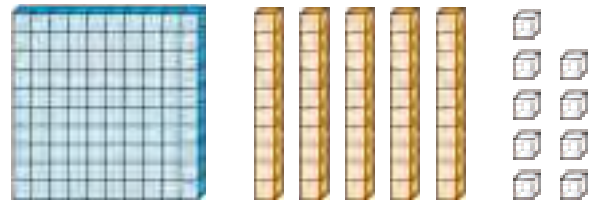
比132少10是 \_\_\_\_\_。

3 比125多20的數。



比125多20是 \_\_\_\_\_。

4 比125少20的數。



比125少20是 \_\_\_\_\_。

比比看，用 <、> 表示大小。

1 32  23

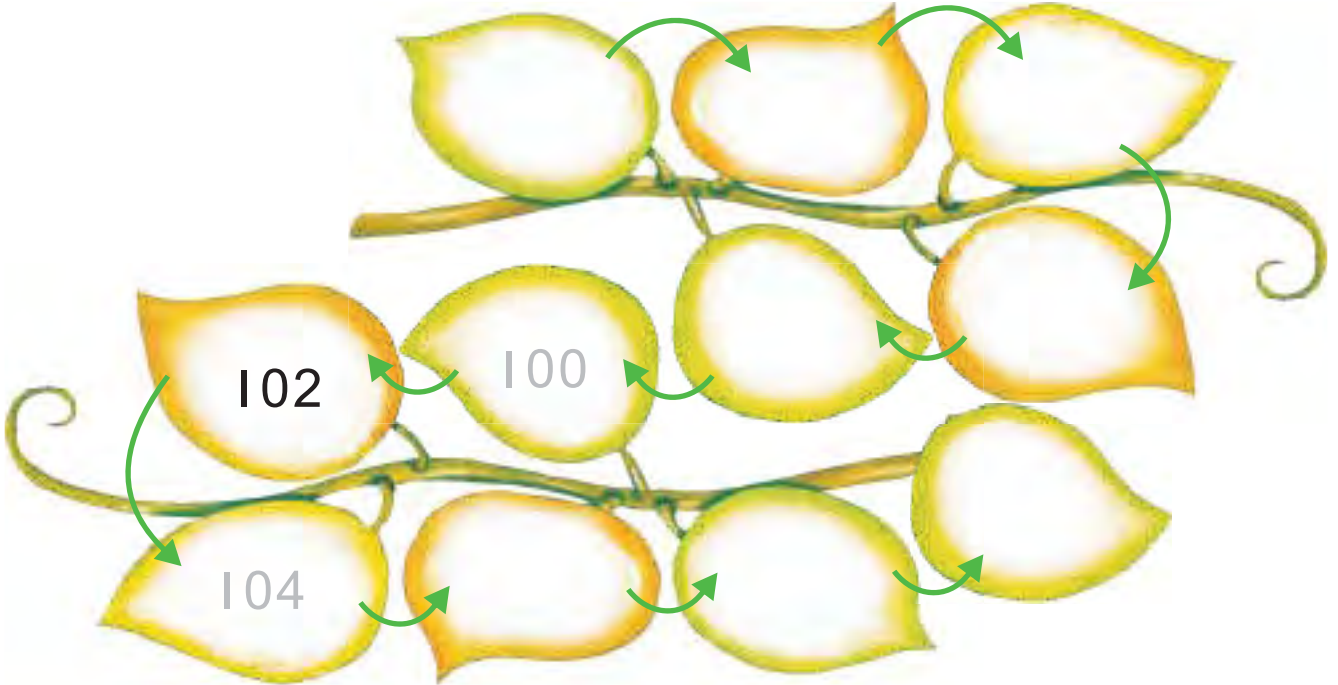
2 110  101

3 105  15


4 89  102



兩個一數，按照數的順序填填看。



五個一數，按照數的順序填填看。



填填看。

1 比120多5的數是\_\_\_\_\_。

2 比120少5的數是\_\_\_\_\_。