





有 多 少 ？ 填 填 看 。



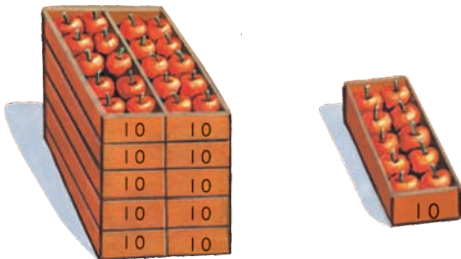
1 個 百



2 個 十

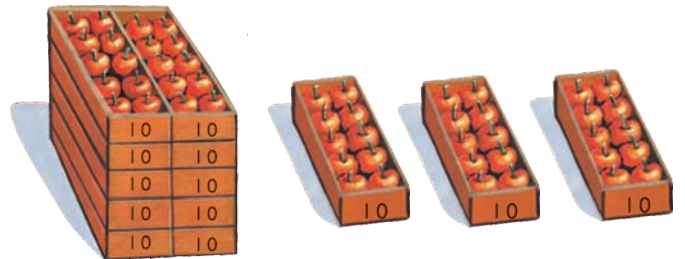
1 個 百 2 個 十
是 120

1



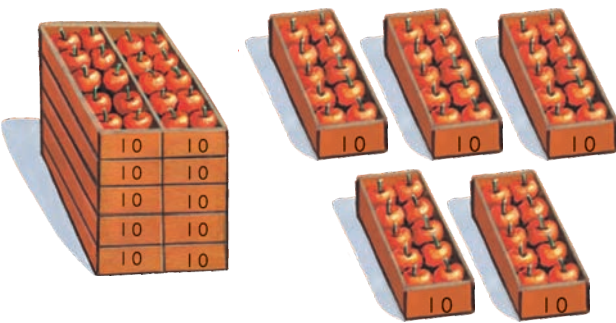
個 百 個 十 是

2



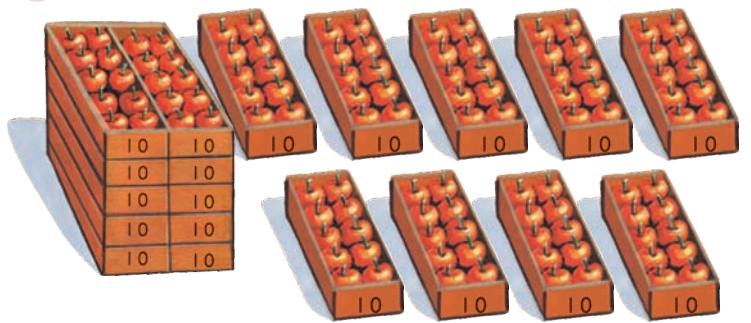
個 百 個 十 是

3



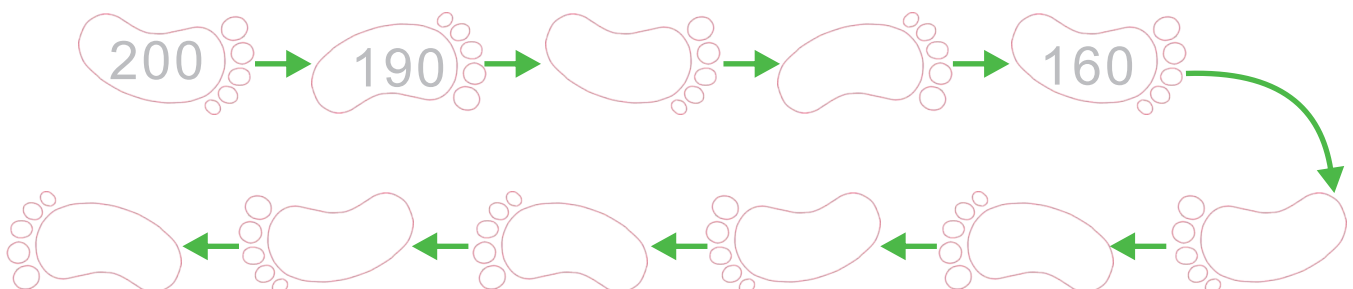
個 百 個 十 是

4



個 百 個 十 是

十 個 一 數 ， 按 照 數 字 順 序 填 填 看 。

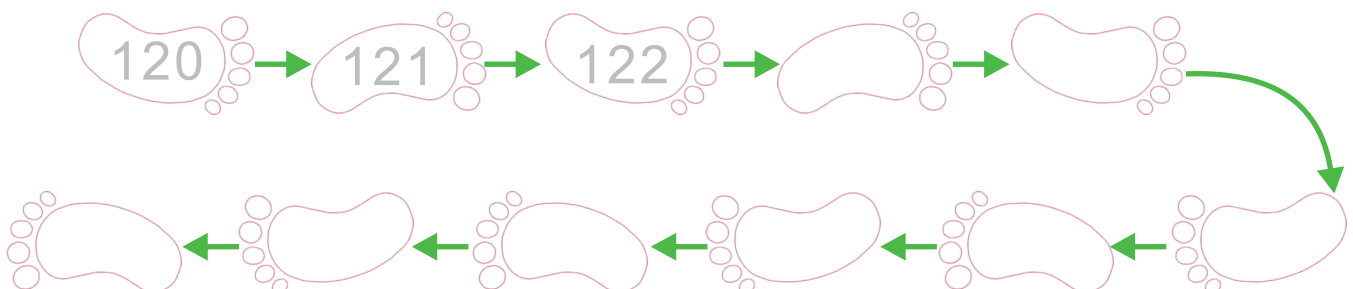




填、填、看。

	積木	幾個百 幾個十 幾個一	寫出這個數
1		____ 個百 ____ 個十 ____ 個一	_____
2		____ 個百 ____ 個十 ____ 個一	_____
3		____ 個百 ____ 個十 ____ 個一	_____
4		____ 個百 ____ 個十 ____ 個一	_____
5		____ 個百 ____ 個十 ____ 個一	_____

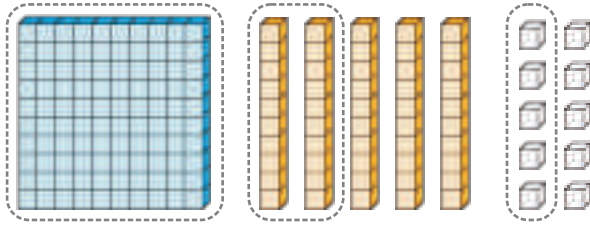
按、照、數、字、的、順、序、填、填、看。





按照數字把積木圈起來。

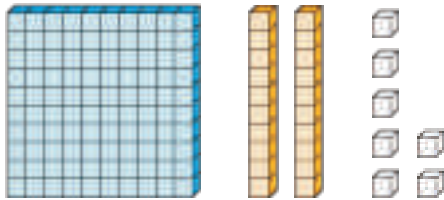
125



有 1 個百 2 個十 5 個一。

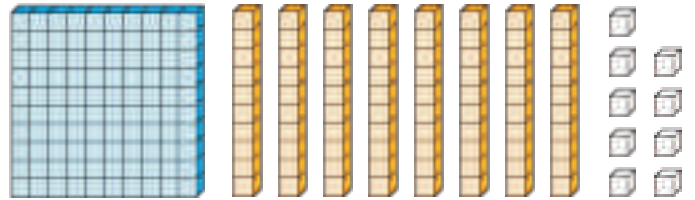
按照數字把積木圈起來。

1 105



有 個百 個十 個一。

2 150



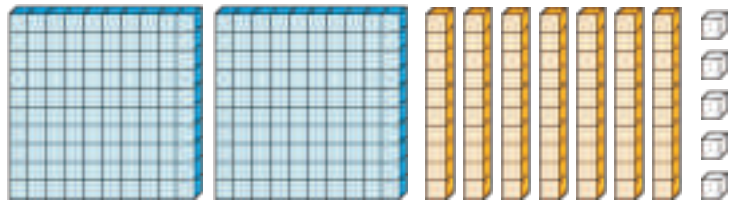
有 個百 個十 個一。

3 127



有 個百 個十 個一。

4 172



有 個百 個十 個一。

把數字記在位值表。

1 102

百位	十位	個位

2 120

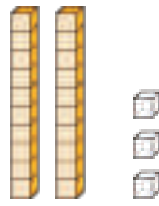
百位	十位	個位



比比看，用 $>$ 、 $<$ 來表示比較的結果。




101

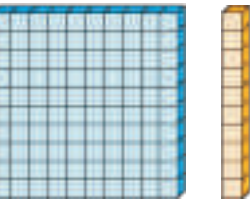


23

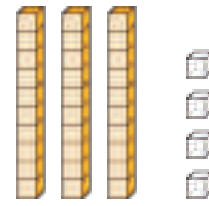
1



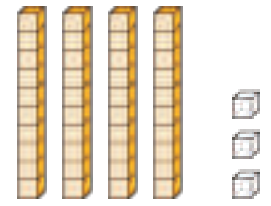
104



110

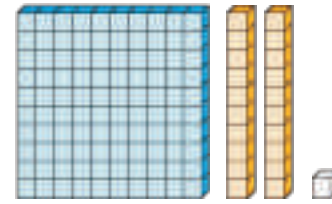


34

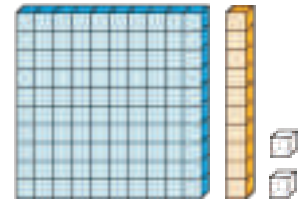


43

2

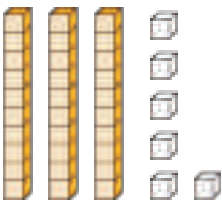


121

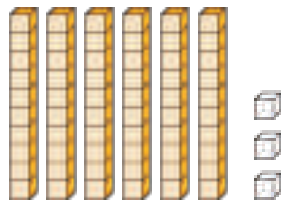


112

3

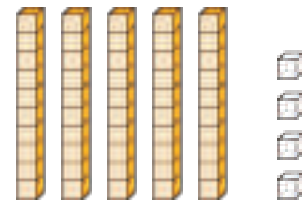


36

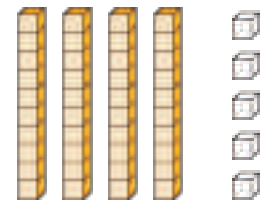


63

4



54



45

5

7



107

6

100



99

7

105



85

8

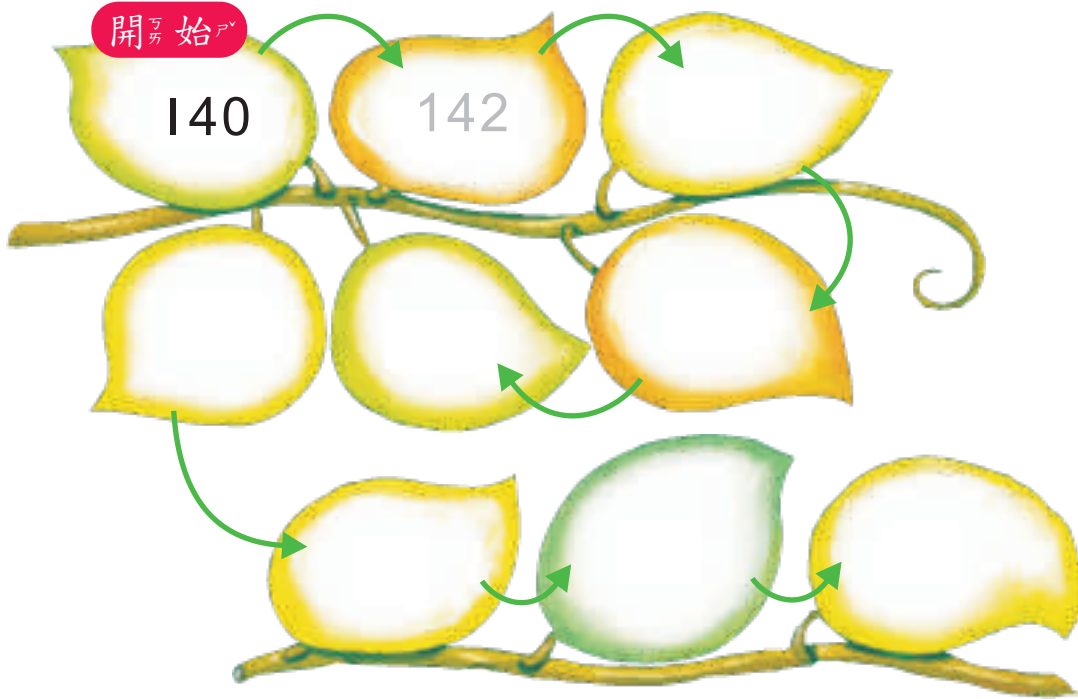
79



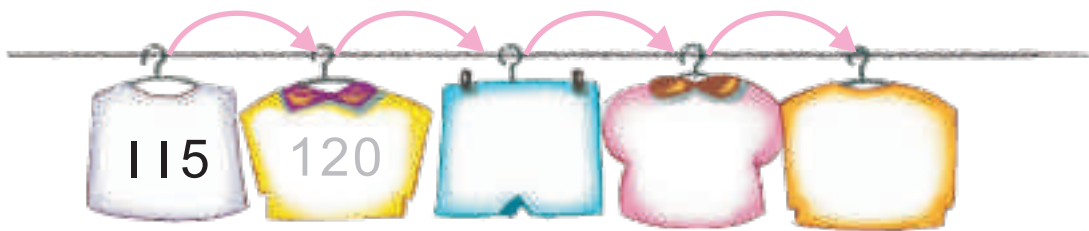
120



兩個一數，按照數字順序填填看。



五個一數，按照數字順序填填看。



填填看。

1 比145多10的數是_____。

2 比145少10的數是_____。