



習作目次

1 毫米

1-1	認識毫米	4
1-2	單位的換算	5
1-3	解題	6
1-4	公分、毫米的加法	8
1-5	公分、毫米的減法	10



2 重量



2-1	認識公克	12
2-2	認識公斤	14
2-3	換算與比較	16
2-4	解題	17

3 分數

3-1	幾個四分之一	21
3-2	解題	23
3-3	同分母的加法	26
3-4	同分母的減法	28
3-5	分數與量	30

複習一 33



4 小數



4-1	認識小數	35
4-2	小數與長度	38
4-3	小數的大小比較	39
4-4	小數的加法	41
4-5	小數的減法	43

5 周長和面積

5-1	圖形的內部、外部與周界	46
5-2	認識周長	47
5-3	面積(1)	49
5-4	面積(2)	51



6 乘法



6-1	乘法與倍數	53
6-2	整十、整百倍	55
6-3	一位數乘以二位數	57
6-4	二位數乘以二位數	59
6-5	解題	61

複習二 63

7 時間

7-1	認識秒	65
7-2	時、分、秒的換算	66
7-3	一日有24時	67
7-4	解題(1)	69
7-5	解題(2)	71



8 除法



8-1	兩位數除以一位數	75
8-2	三位數除以一位數	78
8-3	解題	81
8-4	乘除算式填充題	84
8-5	算出括號中的數(1)	85
8-6	算出括號中的數(2)	87

9 統計圖表

9-1	報讀表格(1)	88
9-2	報讀表格(2)	89
複習三		90

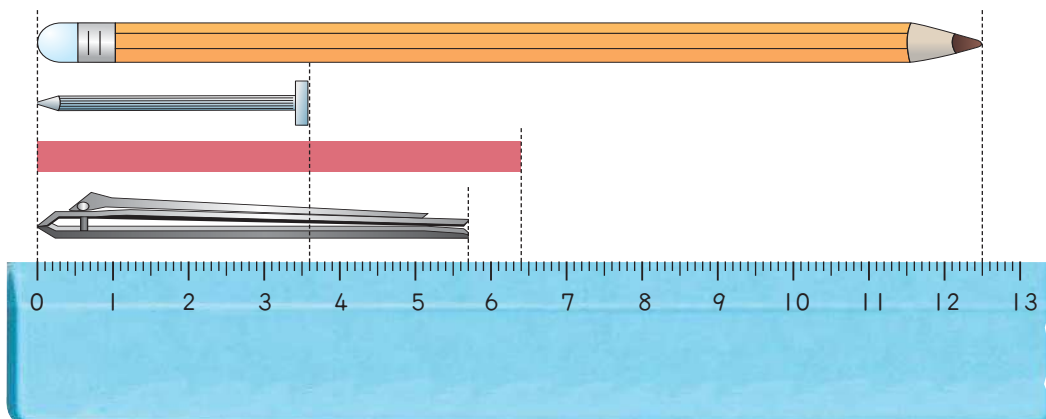




1 毫米

習作1-1 認識毫米

1 有多長？填填看。



- 鉛筆有 公分 毫米。
- 釘子有 公分 毫米。
- 帶子有 公分 毫米。
- 指甲刀有 公分 毫米。

2 長的打✓。

鉛筆長7公分3毫米

粉筆長6公分7毫米

3 短的打○。

紅繩長13公分5毫米

黑繩長14公分

4 在 內填填入 <、>。

① 17公分6毫米 18公分

② 17公分6毫米 17公分

習作1-2 單位的換算

1 填填看。

① 1公分 = 毫米

② 20毫米 = 公分

③ 600毫米 = 公分

④ 950毫米 = 公分

⑤ 8公尺 = 毫米

⑥ 5000毫米 = 公尺

2 填填看。

① 3公分5毫米

= 毫米

② 5公分5毫米

= 毫米

③ 70毫米

= 公分

④ 78毫米

= 公分 毫米


⑤ 4公尺50公分

= 毫米

⑥ 6400毫米

= 公尺 公分

習作1-3 解題

 1 寫出算式，做做看看。

- ① 5天前小白貓有135毫米長，今天小白貓有142毫米長，小白貓今天比5天前多幾毫米長？

答：_____毫米



- ② 今天小花貓有151毫米長，小花貓今天比10天前多了18毫米，10天前小花貓有多長？



- ③ 一星期前，小黑貓有118毫米長，小黑貓今天比一星期前多了14毫米，小黑貓今天有多長？



- ④ 一節火車車廂模型有7公分長，6節排在第一起有多長？



- ⑤ 一顆珠子長7毫米，圓圓用了35顆做了一條手鍊，小可用了39顆做了一條手鍊，小可的手鍊比圓圓的手鍊長幾毫米？

先算：

再算：

答：



- ⑥ 東東用一條繩子圍出一個三角形，這個三角形的3邊長分別是139毫米、149毫米、159毫米，這條繩子有多長？



習作1-4 公分、毫米的加法

1 用直式做做看。

①

$$\begin{array}{r} \text{公分 毫米} \\ 3 \quad 5 \\ + 7 \quad 2 \\ \hline \end{array}$$

答：

③

$$\begin{array}{r} \text{公分 毫米} \\ 6 \quad 5 \\ 5 \quad 6 \\ + 4 \quad 8 \\ \hline \end{array}$$

答：

⑤ $8 \text{ 公分} + 2 \text{ 公分} + 5 \text{ 毫米}$

答：

②

$$\begin{array}{r} \text{公分 毫米} \\ \quad \quad 8 \\ + 9 \quad 2 \\ \hline \end{array}$$

答：

④

$$\begin{array}{r} \text{公分 毫米} \\ 5 \quad 8 \\ 4 \quad 8 \\ + 3 \quad 8 \\ \hline \end{array}$$

答：

⑥ $12 \text{ 公分} + 7 \text{ 毫米} + 3 \text{ 毫米}$

答：

2 寫出算式做做看。

① 蟻蠶剛孵出時只有6毫米長，一星期後牠多長了1公分8毫米，一星期後蟻蠶有幾公分幾毫米長？



② 一條糖果棒，東東吃了10公分3毫米後還剩下19公分7毫米，糖果棒原來有多長？



③ 做勞作時，圓圓將一枝竹籤切下兩段後還剩下4毫米，如果每段都是14公分6毫米長，竹籤原來有多長？

切下來的第一段 切下來的另一段



剩下4毫米

習作1-5 公分、毫米的減法

1 用直式做做看。

①

	公分	毫米
	7	8
-	6	8
<hr/>		

答：

③ $20\text{公分} - 9\text{公分}$
 4毫米

答：

②

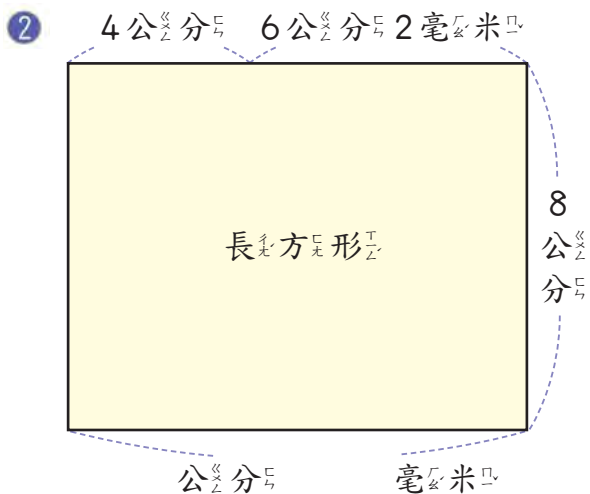
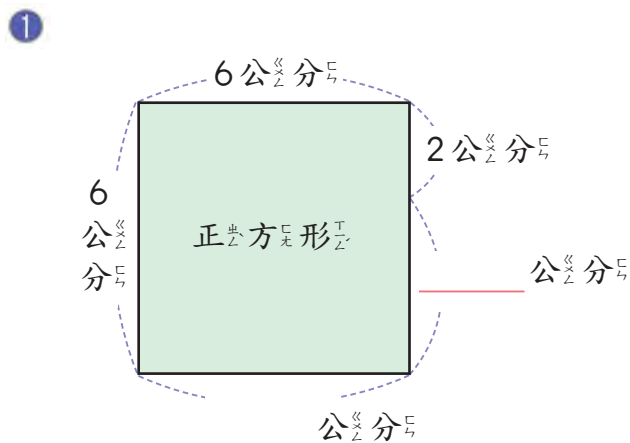
	公分	毫米
	11	3
-	9	8
<hr/>		

答：

④ $7\text{公分} - 1\text{毫米}$
 8毫米

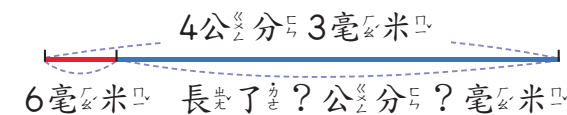
答：

2 不能用尺量，將沒有寫出長度的邊長算出來，並填填看。

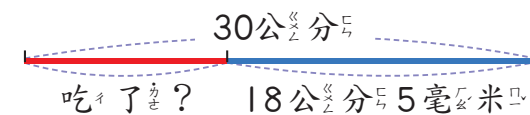


3 寫出算式做做看。

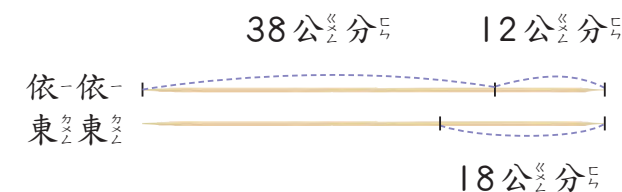
① 剛孵出的蟻蠶只有6毫米長，兩個星期後，牠有4公分3毫米長，這兩個星期蟻蠶長了幾公分幾毫米？



② 一條30公分的糖果棒，小杰吃了一些後，還剩下18公分5毫米長，小杰吃了多長的糖果棒？



③ 做勞作時，每位小朋友分一枝一樣長的竹籤。依依用了38公分，還剩下12公分，東東剩下18公分，東東用去多少公分的竹籤？



2 重量



習作2-1 認識公克


1 水果有多重？

1 櫻桃



_____ 公克

2 草莓



_____ 公克

3 葡萄柚



_____ 公克

4 楊桃



_____ 公克

5 小西瓜



_____ 公克

6 哈密瓜



_____ 公克

2 圈圈看。

1 下面那一個水果比200公克重，而且比300公克輕？

葡萄柚



哈密瓜




香蕉



2 媽媽買了一種水果，重量是835公克。媽媽買的是下面那一種？

葡萄



香蕉



草莓



媽媽買的是（葡萄，香蕉，草莓）。

習作2-2 認識公斤

1 水果有多重？



_____ 公_斤



_____ 公_斤




_____ 公_斤

2 圈圈看。

1 下面那一個蔬果比2公_斤重，而且比3公_斤輕？



2 一顆蘋果比較輕？還是一顆芒果比較輕？



一顆(蘋果, 芒果) 比較輕

3 做做看看。

1 一包4公_斤的砂糖和幾公_克的砂糖一樣重？

4公_斤 = _____ 公_克

答：



2 一包5公_斤的鹽和幾公_克的鹽一樣重？

5公_斤 = _____ 公_克

答：



3 7000公_克的糖，1公_斤裝一袋，最多可裝幾袋？

7000公_克 = _____ 公_斤

答：



4 9000公_克的葡萄，1公_斤裝一盒，最多可裝幾盒？

9000公_克 = _____ 公_斤

答：



習作2-3 換算與比較

1 下面的物品，那一個最重？那一個最輕？

甲、收音機



2 公斤 100 克

乙、書包



2 公斤 230 克

丙、桌燈



860 克

最重的是 ，最輕的是 。(填出代號)

2 1 顆西瓜重 4 公斤，2 顆鳳梨重 3 公斤 900 克，1 顆西瓜重還是 2 顆鳳梨重？



4 公斤

3 公斤 900 克

答：

3 填填看。

① 3 公斤 600 克 = 公斤

② 2100 克 = 公斤 克

③ 7 公斤 250 克 = 公斤

④ 4850 克 = 公斤 克

習作2-4 解題

1 用直式做做看。

①

公斤	公克
	850
+ 2	100

答：

②

公斤	公克
	2 250
+ 1	450

答：

③

公斤	公克
	5 500
+ 5	250

答：

④

公斤	公克
	7 520
+ 4	260

答：

⑤ 6 公斤 + 3 公斤 420 公克

答：

⑥ 2 公斤 800 克 + 1 公斤 150 克

答：

2 用直式做做看。

- ① 一袋米用了3公_斤200公_克後，還剩下5公_斤300公_克，這袋米原來有幾公_斤幾公_克重？



- ② 一顆南瓜重2公_斤125公_克，2顆南瓜重多少公_斤多少公_克？



- ③ 一顆西瓜重5公_斤650公_克，一顆南瓜重2公_斤125公_克，西瓜比南瓜重幾公_斤幾公_克？



- ④ 一袋蘋果2公_斤500公_克，吃了_{一些}後，還有1公_斤425公_克，吃掉_的蘋果有幾公_斤幾公_克重？



- ⑤ 小杰昨天上學的書包有6公_斤752公_克重，其中書有4公_斤532公_克，書包不裝書時有多重？



- ⑥ 承上題⑤，小杰今天帶的書有3公_斤108公_克重，他今天上學的書包有多重？



不裝書的書包有多重？

3 寫出算式做做看。

- ① 一個空的米桶重2公_斤485公_克，媽媽買了一些米裝入米桶後，米桶有15公_斤重，媽媽做晚餐時，用掉1公_斤的米，裝米的米桶還有多重？

- 2 3 袋一樣重的馬鈴薯共重 18 公斤，1 袋馬鈴薯重多少公斤？



- 3 一顆芒果重 300 公克，8 顆芒果重多少公斤多公克？



- 4 56 公斤的米要平均裝到 8 個袋子中，每個袋子裝有多少公斤的米？



- 5 一桶肥料重 85 公斤，一輛貨車可載 8 桶肥料，一輛貨車載的肥料有多重？



△ 3 分 數 ○



習作3-1 ▲ 幾個四分之一



1 一組飲料有6罐，
下面幾組飲料？



1



組

2



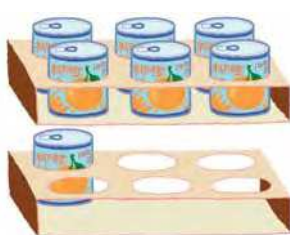
組

3



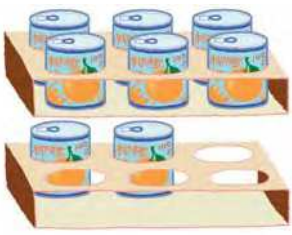
組

4



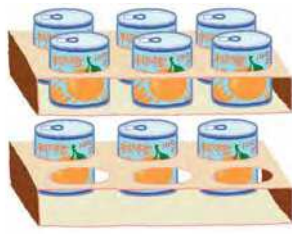
組

5



組

6



組



2 一盒牛奶糖有10塊。



1



1塊牛奶糖是
盒。

2



5塊牛奶糖是
盒。

3



12塊牛奶糖是
盒。

4



19塊牛奶糖是
盒。

3 一箱醬油有9瓶，
下面幾箱醬油？



1



箱

2



箱

3



箱

4



箱

4 小籠包1籠有8個。



1 1個是幾分之幾籠？

籠。



2 12個是幾籠。



5 1打鉛筆有12枝，下面幾打鉛筆？

1 1枝鉛筆是

打。

2 15枝鉛筆是

打。

習作3-2 解題

1 一瓶可樂可以倒滿4個玻璃杯。

1 小威喝了1杯，他喝了幾分之幾瓶可樂？

瓶。



2 東東喝了2杯，他喝了幾分之幾瓶可樂？

瓶。

3 小威的球隊喝了15杯，他們喝了幾分之幾瓶？

瓶。

2 1個披薩平分成10片。



1 3片是幾個披薩？

個。

2 14片是幾個披薩？

個。

3 $\frac{7}{10}$ 個披薩有幾片？

片。

4 $\frac{15}{10}$ 個披薩有幾片？

片。

3 1條繩子的長度是和6節玩具車廂一樣長。



1 1節玩具車廂長是幾分之幾條繩子長？
_____條。

2 5節車廂接起來是幾分之幾條繩子長？
_____條。

3 8節車廂接起來是幾分之幾條繩子長？
_____條。

4 露營晚餐後，每2個小隊可以分到1桶冰淇淋。

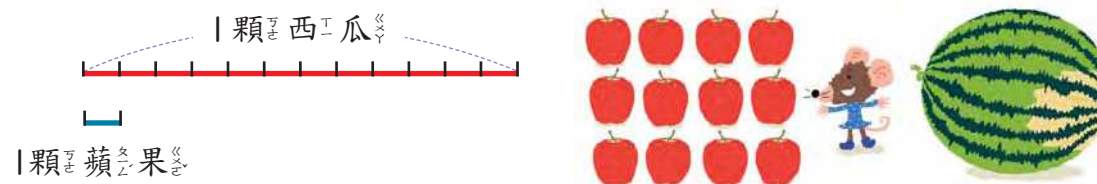


1 1小隊分到幾分之幾桶冰淇淋？
_____桶。

2 3小隊可以分到幾分之幾桶冰淇淋？
_____桶。

3 幾個小隊可以分到得 $\frac{8}{2}$ 桶冰淇淋？
_____個小隊。

5 12顆蘋果和1顆西瓜一樣重。

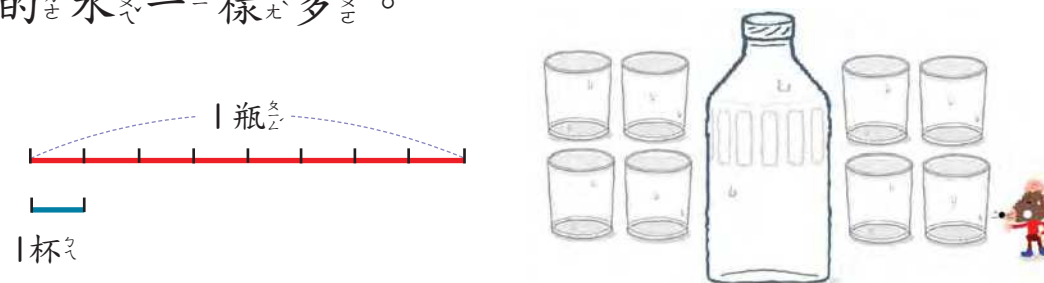


1 1顆蘋果的重量是西瓜的幾分之幾？
_____。

2 3顆蘋果的重量是西瓜的幾分之幾？
_____。

3 18顆蘋果的重量是西瓜的幾分之幾？
_____。


6 1個塑膠瓶裝的水和8個玻璃杯裝的水一樣多。



1 2個玻璃杯裝的水是塑膠瓶的幾分之幾？
_____。

2 12個玻璃杯裝的水是塑膠瓶的幾分之幾？
_____。

習作3-3 同分母的加法

 **1** 算一算。

① $\frac{2}{5} + \frac{3}{5}$


② $\frac{1}{3} + \frac{4}{3}$

③ $\frac{2}{3} + 1$

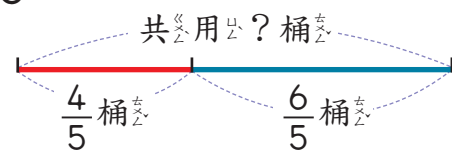
④ $\frac{3}{7} + \frac{4}{7}$

⑤ $0 + \frac{5}{6}$

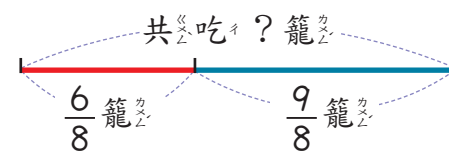
⑥ $\frac{1}{6} + \frac{3}{6} + \frac{5}{6}$

 **2** 寫出算式，做做看。

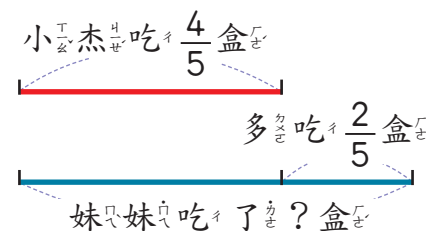
① 澆花時，小英用了 $\frac{4}{5}$ 桶的水，小華用了 $\frac{6}{5}$ 桶的水，他們共用了幾桶的水？



② 爸爸吃了 $\frac{6}{8}$ 籠蒸餃，小朋友吃了 $\frac{9}{8}$ 籠蒸餃，大家一共吃了幾籠蒸餃？

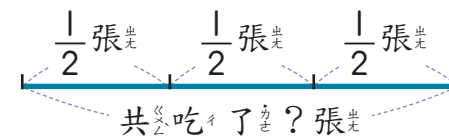


③ 小杰吃了 $\frac{4}{5}$ 盒牛奶糖，妹妹比小杰多吃了 $\frac{2}{5}$ 盒，妹妹吃了幾盒牛奶糖？




④ 哥哥吃了 $\frac{1}{2}$ 張蔥油餅，姊姊吃了 $\frac{1}{2}$ 張蔥油餅，弟弟吃了 $\frac{1}{2}$ 張蔥油餅。三人共吃了幾張蔥油餅？

寫成一個算式，做做看。



習作3-4 同分母的減法

 **1** 算一算。

① $\frac{4}{5} - \frac{1}{5}$


② $\frac{3}{4} - \frac{1}{4}$

③ $\frac{5}{4} - 1$

④ $\frac{8}{6} - \frac{3}{6} - \frac{2}{6}$

⑤ $\frac{9}{8} - \frac{5}{8} - \frac{4}{8}$

⑥ $\frac{1}{10} - 0$

 **2** 算一算。

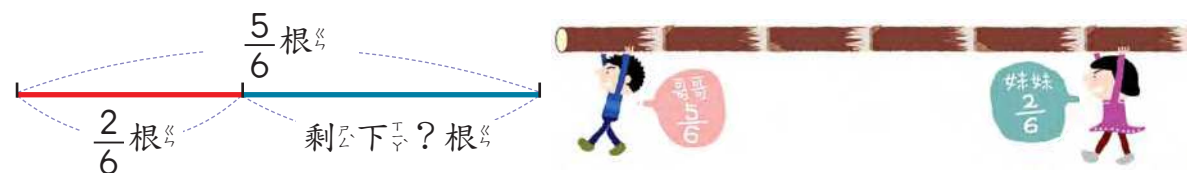
① $1 - \frac{1}{5}$

② $1 - \frac{2}{5}$

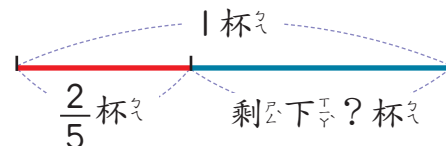
③ $1 - \frac{3}{5}$

 **3** 寫出算式做做看。

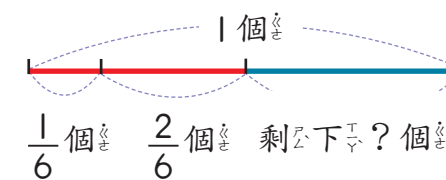
- ① 哥哥分到 $\frac{5}{6}$ 根甘蔗，他分給妹妹 $\frac{2}{6}$ 根，哥哥還剩多少根甘蔗？



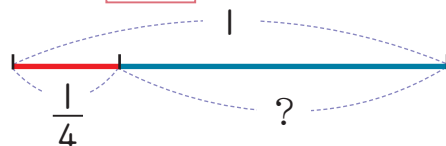
- ② 1杯裝滿水的茶杯，小杰喝了 $\frac{2}{5}$ 杯後，還剩下多少杯水？



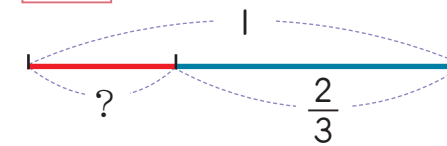
- ③ 1個蛋糕，小玉吃了 $\frac{1}{6}$ 個，小玲吃了 $\frac{2}{6}$ 個，還剩下幾個蛋糕？



④ $\frac{1}{4} + \square = 1$

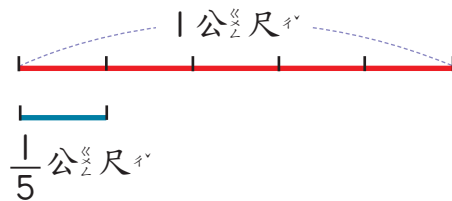


⑤ $\square + \frac{2}{3} = 1$



習作3-5 ▲ 分數與量

1 包 1 份 禮物 要用 去 $\frac{1}{5}$ 公尺 的 緞帶。



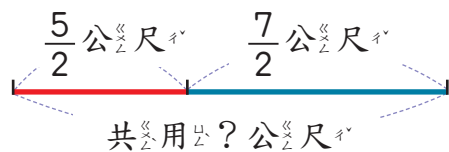
1 包 2 份 禮物 要用 去 _____ 公尺 的 緞帶。

2 包 6 份 禮物 要用 去 _____ 公尺 的 緞帶。

3 $\frac{3}{5}$ 公尺 的 緞帶 可以 包 _____ 份 禮物。

4 $\frac{6}{5}$ 公尺 的 緞帶 可以 包 _____ 份 禮物。

2 裝飾 各 班 教室 時，三年 1 班 用 去 $\frac{5}{2}$ 公尺 的 彩帶，三年 2 班 用 去 $\frac{7}{2}$ 公尺 的 彩帶。兩 班 共 用 了 多 少 公 尺 的 彩 帶？



3 1 瓶 的 水 是 $\frac{1}{10}$ 公 升。

1 $\frac{4}{10}$ 公 升 的 水 是 _____ 瓶。

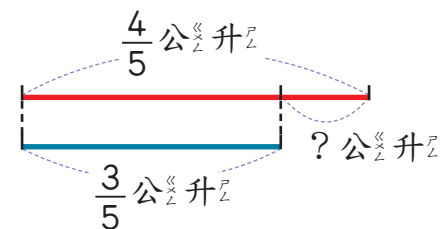
2 1 公 升 的 水 是 _____ 瓶。

4 量 杯 裡 的 水 是 幾 公 升？

1  是 _____ 公 升。

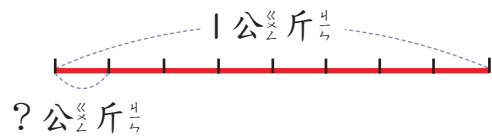
2  是 _____ 公 升。

5 打 完 球，弟 弟 喝 了 $\frac{4}{5}$ 公 升 的 水，姊 姊 喝 了 $\frac{3}{5}$ 公 升 的 水，誰 喝 的 比 較 多？多 喝 幾 公 升？



複 習 一

6 1包瓜子重1公斤，平均分成8份。

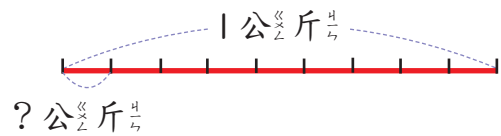


① 8份是 _____ 公斤。

② 10份是 _____ 公斤。

③ 陳阿姨買了10份的瓜子，林阿姨買了 $\frac{12}{8}$ 公斤的瓜子，林阿姨比陳阿姨多買了幾公斤？

7 9顆同樣重的奇異果共重1公斤。



① 8顆奇異果是 _____ 公斤。

② 10顆奇異果是 _____ 公斤。

③ 1顆木瓜重 $\frac{11}{9}$ 公斤，1顆木瓜和7顆奇異果共重幾公斤？

1 填填看看。

① $1\text{kg}35\text{g} = \underline{\hspace{2cm}}\text{g}$

② $2\text{kg}700\text{g} = \underline{\hspace{2cm}}\text{g}$

③ $3010\text{g} = \underline{\hspace{1cm}}\text{kg} \underline{\hspace{1cm}}\text{g}$

④ $9905\text{g} = \underline{\hspace{1cm}}\text{kg} \underline{\hspace{1cm}}\text{g}$

2 寫成直式算算看看。


① $8\text{公分}5\text{毫米} - 6\text{公分}6\text{毫米}$


② $15\text{公分}3\text{毫米} + 4\text{公分}7\text{毫米}$

3 寫成直式算算看看。

① $4\text{公斤}68\text{克} + 2\text{公斤}265\text{克}$

② $6\text{公斤}400\text{克} - 2\text{公斤}15\text{克}$

 **4** 一個米桶裝了 $\frac{25}{5}$ 公斤的米後，共重 $\frac{32}{5}$ 公斤，空的米桶重幾公斤？

 **5** 一個水桶原來有 $\frac{15}{3}$ 公升的水，用掉 $\frac{10}{3}$ 公升後，小英 再倒了一些水進去，水桶裡的水有 $\frac{10}{3}$ 公升，小英 倒了多少公升的水？

 **6** 那兩個分數合起來是 1？連連看。



$\frac{1}{7}$.
 $\frac{5}{12}$.
 $\frac{4}{7}$.
 $\frac{9}{12}$.



$\frac{3}{7}$.
 $\frac{3}{12}$.
 $\frac{6}{7}$.
 $\frac{7}{12}$.

4 小數



習作4-1

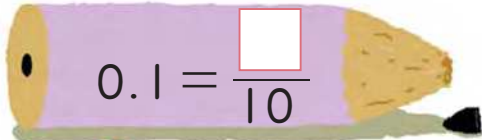
10000

認識小數




1 填填看看。

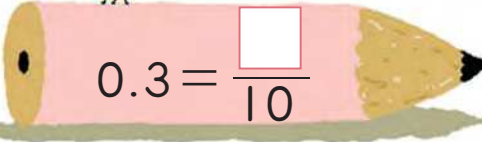
1




2



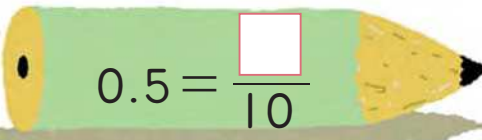
3




4



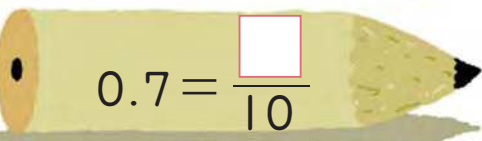
5




6



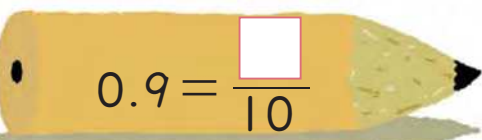
7




8



9

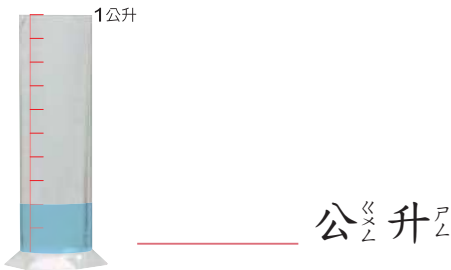


10



2 下面各題有幾公升？用小數填填看看。

1



2



3



4



3 將下列各數記在位值表中。

① 40.2

十位	個位	十分位

40.2 的十分位數字是 。

② 6.3

個位	十分位

6.3 的個位數字是 。

③ 35.4

十位	個位	十分位

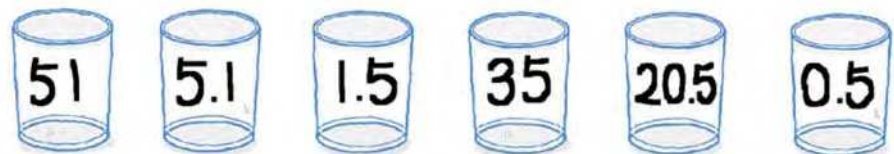
35.4 的十位數字是 。

④ 123.4

百位	十位	個位	十分位

123.4 的百位數字是 。

4 將十分位數字是 5 的小數圈起來。



5 填填看。

① 20 個 0.1 是 。

② 50 個 0.1 是 。

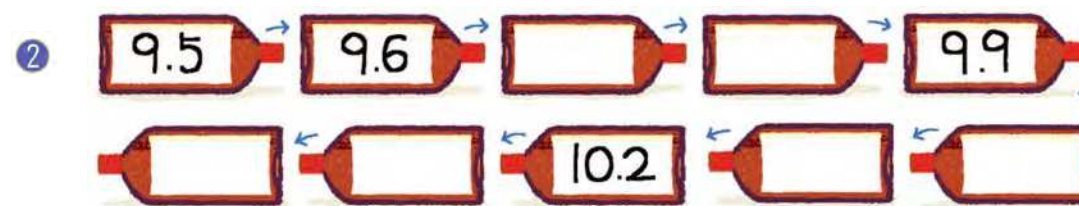
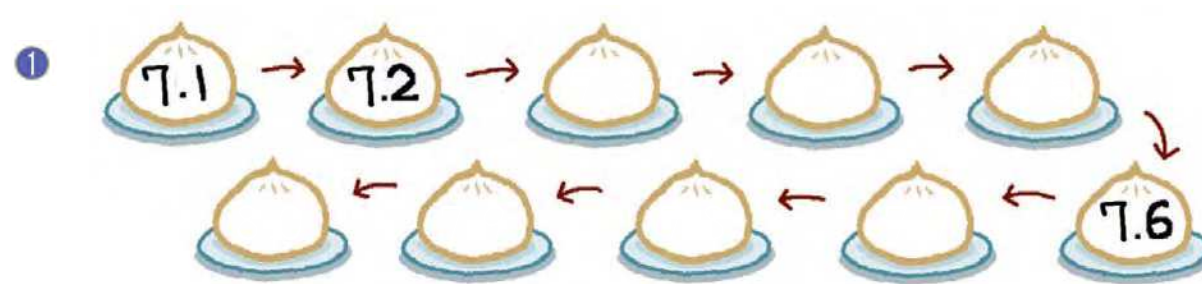
③ 31 個 0.1 是 。

④ 99 個 0.1 是 。

個位	十分位

個位	十分位

6 按照數字的順序填填看。



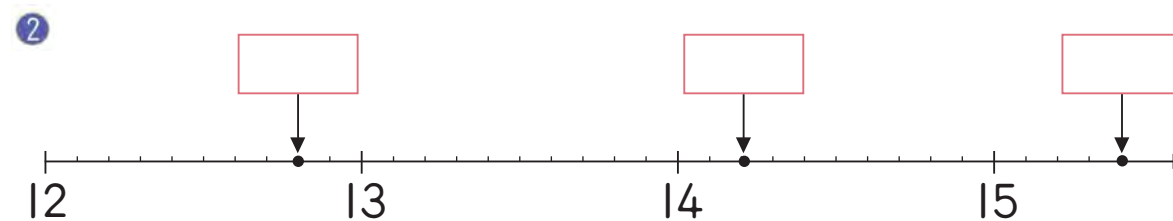
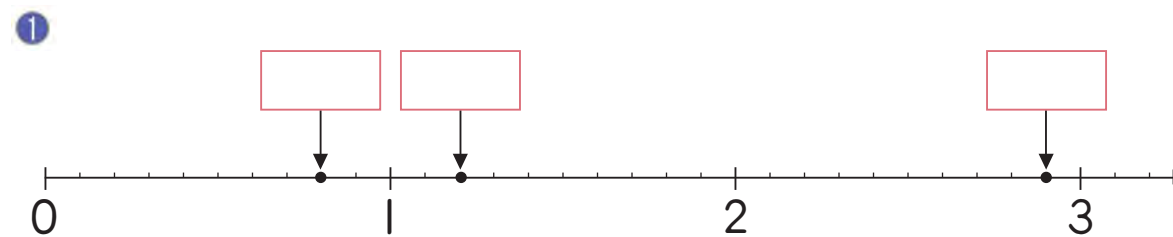
7 填填看。

① 2.9 再多 0.1 是 。

② 9.9 再多 0.1 是 。

③ 19.9 再多 0.1 是 。

8 在 中填入小數。



習作4-2

小數與長度

1 用小數記記看。

① 5 毫米 = _____ 公分

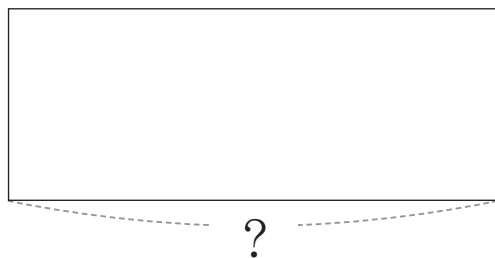
② 1 公分 7 毫米 = _____ 公分

③ 10 公分 7 毫米 = _____ 公分

④ 100 公分 7 毫米 = _____ 公分

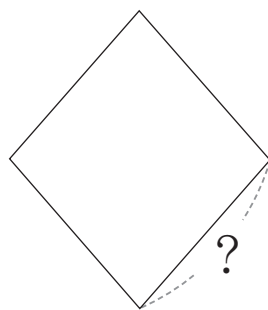
2 量一量，「？」表示的長度是多少公分，用小數記下來。

①



_____ 公分

②



_____ 公分

3 填填看。

① 0.4 公分 = _____ 毫米

② 5.4 公分 = _____ 公分 _____ 毫米

③ 10.4 公分 = _____ 公分 _____ 毫米

習作4-3

小數的大小比較

1 在下列 中填入 $<$ 或 $>$ 。


①



②




③




④



⑤



⑥



2 下面那些數比 0.9 大，而且比 3.1 小？圈圈看。



3 將下列的數字從小到大重新排列。



重新排列： $<$ $<$ $<$ $<$

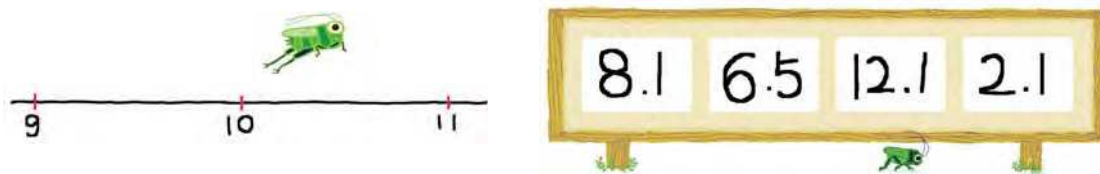
4 有一個數，比3大但是比4小，它可能是下面那一個數？圈圈看。



5 在數線上，有一個數是在2.3的右邊，在3.3的左邊，它可能是下面那一個數？圈圈看。



6 在數線上，小蚱蜢從10的位置向右跳，落下的小蚱蜢可能是在下面那一個數字？圈圈看。



7 有一個一位小數，比3大但是比4小，如果它的個位數字加上十分位數字是9，這個數是多多少？



習作4-4 小數的加法

1 用直式算算看。

1 $0.3 + 0.5$	2 $0.7 + 0.6$	3 $4 + 2.6$
4 $1.2 + 12.3$	5 $6.5 + 4.2$	6 $15.7 + 2.6$
7 $10.4 + 30.7$	8 $9.9 + 0.1$	9 $9.8 + 0.2$
10 $\begin{array}{r} 6.6 \\ 6.6 \\ + 6.6 \\ \hline \end{array}$	11 $\begin{array}{r} 3.4 \\ 4.5 \\ + 5.6 \\ \hline \end{array}$	12 $\begin{array}{r} 17.9 \\ 17.9 \\ + 17.9 \\ \hline \end{array}$

2 下列那些算式是錯的？圈圈看。

- ① $2 + 3.7 = 5.7$
- ② $4 + 0.2 = 4.2$
- ③ $1.8 + 6.2 = 80$
- ④ $24.5 + 5 = 25$
- ⑤ $3.1 + 0.9 = 4$
- ⑥ $12 + 3.6 = 15.6$

想一想，不一定要用直式計算喔！



3 寫出算式做做看。

- ① 一張矮桌高45.8公分，一張凳子高23.6公分，將凳子疊在矮桌上，共高幾公分？



- ② 阿惠小吃店的客人午餐時共喝了10.3公升的麥茶，還剩下6.7公升，原來有幾公升的麥茶？



習作4-5 小數的減法

1 算算看。

- ①
$$\begin{array}{r} 8.5 \\ - 4 \\ \hline \end{array}$$
- ②
$$\begin{array}{r} 3.5 \\ - 0.5 \\ \hline \end{array}$$
- ③
$$\begin{array}{r} 2.1 \\ - 1.8 \\ \hline \end{array}$$
- ④
$$\begin{array}{r} 7.5 \\ - 5.7 \\ \hline \end{array}$$
- ⑤
$$\begin{array}{r} 10 \\ - 2.5 \\ \hline \end{array}$$
- ⑥
$$\begin{array}{r} 11.1 \\ - 2.2 \\ \hline \end{array}$$

2 寫成直式算算看。

- ① $10 - 2.3$
- ② $12.5 - 5$
- ③ $11 - 8.1$
- ④ $9.3 - 6.4$

3 下列那些算式是錯的？圈圈看。

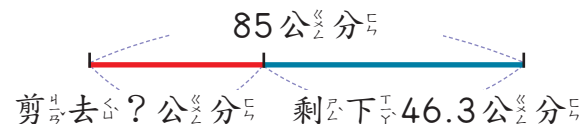
- ① $10 - 0.1 = 9.9$
- ② $10 - 3.8 = 62$
- ③ $11.1 - 1 = 11$
- ④ $10 - 0.2 = 8$
- ⑤ $8.7 - 2.7 = 6$
- ⑥ $10.8 - 8 = 2.8$

想一想，不一定要用直式計算喔！



4 寫出算式做做看。

① 一條長85公分的緞帶，小麗剪去一段後剩下46.3公分，小麗剪去幾公分的緞帶？



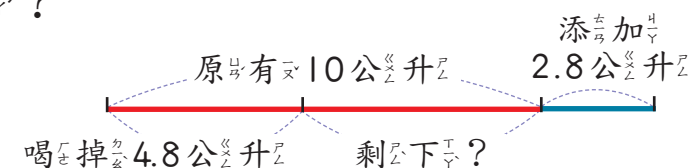
② 7.8減掉多少後會等於3.9？

③ 7.8要加多少才會等於10？

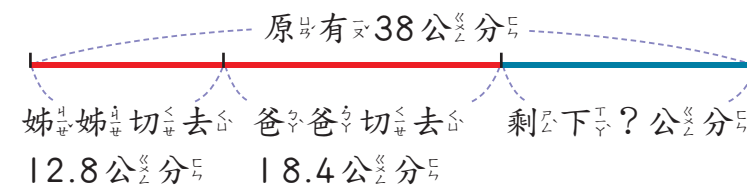
4 小青蛙在數線上從7.1的位置向左跳了2.5，小青蛙停在那一個數字上？

5 列成一個算式做做看。

① 愛心茶一桶有10公升，喝掉4.8公升的茶後，再添加2.8公升的茶，桶內現在有多少公升的茶？



② 一條法國麵包長38公分，姊姊切去12.8公分後，爸爸又切去18.4公分，麵包剩下幾公分？

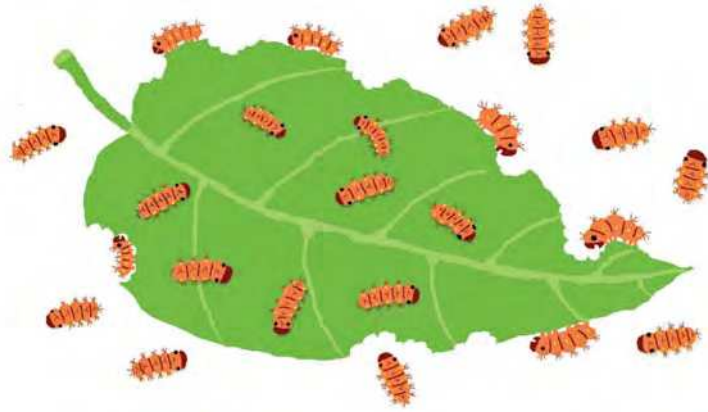


5 周長和面積



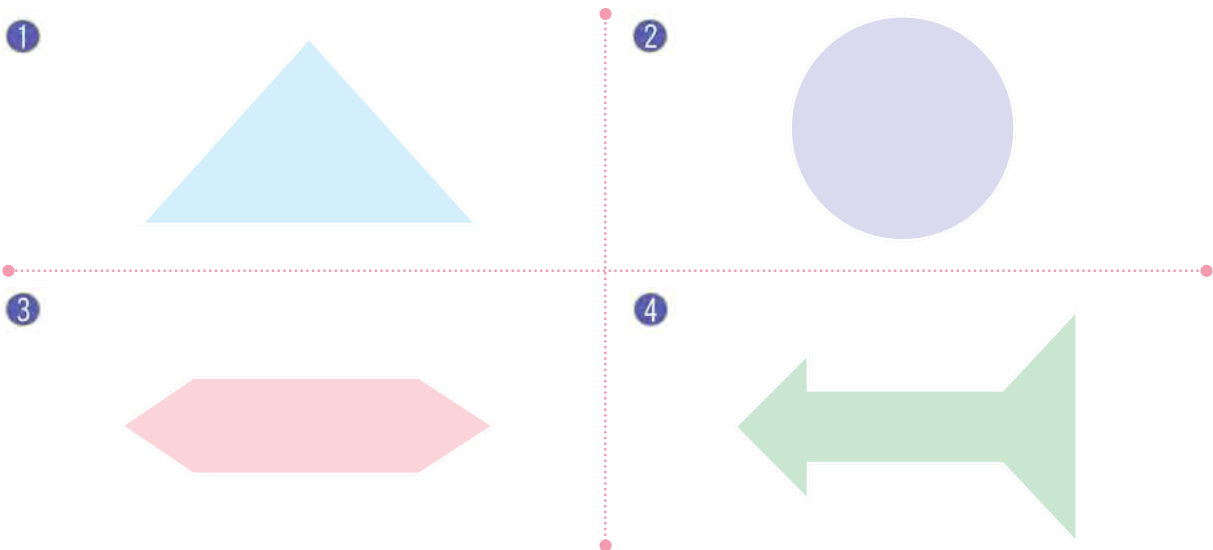
習作5-1 圖形的內部、外部與周界

1 看圖填填看。



- 圖形的內部有_____隻毛毛蟲。
- 圖形的外部有_____隻毛毛蟲。
- 圖形的周界上有_____隻毛毛蟲。

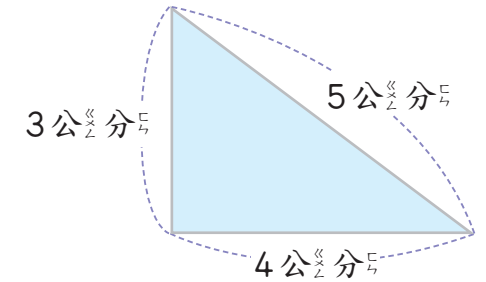
2 用筆將下面圖形的周界描出來。



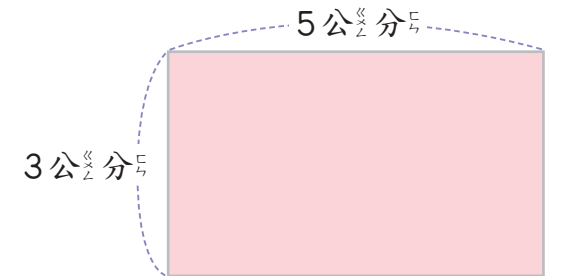
習作5-2 認識周長

1 依照下面圖形每邊的長度，求出周長。

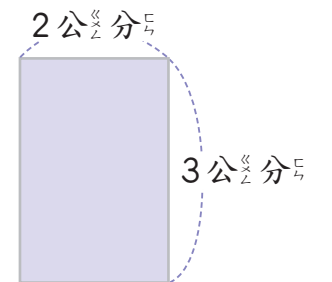
① 三角形



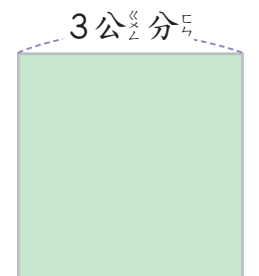
② 長方形



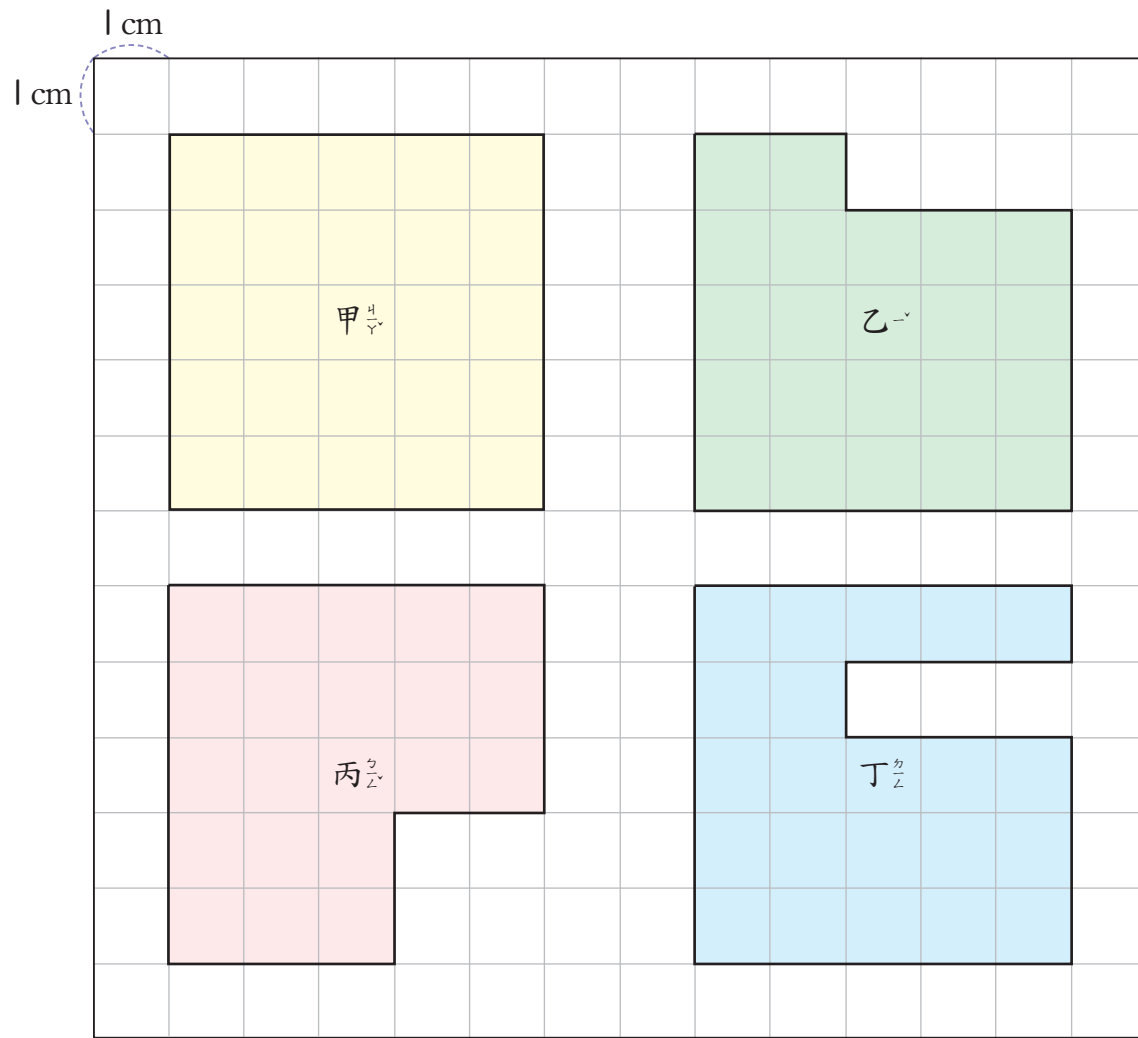
③ 長方形



④ 正方形



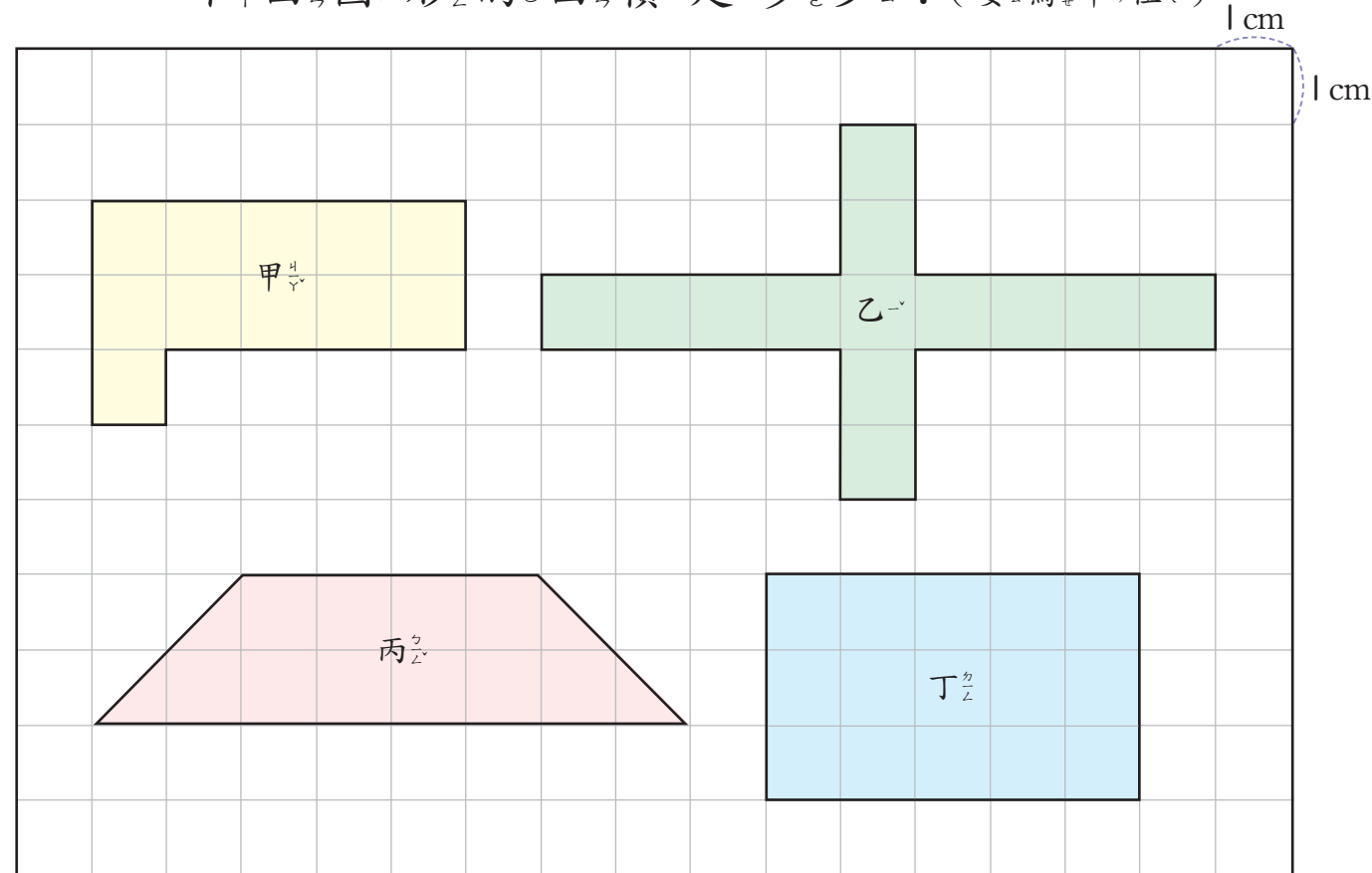
2 下面每個格子子的邊長是1公分，回答下面問題。



- 圖形甲的周長是_____公分。
- 圖形乙的周長是_____公分。
- 圖形丙的周長是_____公分。
- 圖形丁的周長是_____公分。
- 那一個圖形周長最大？_____。

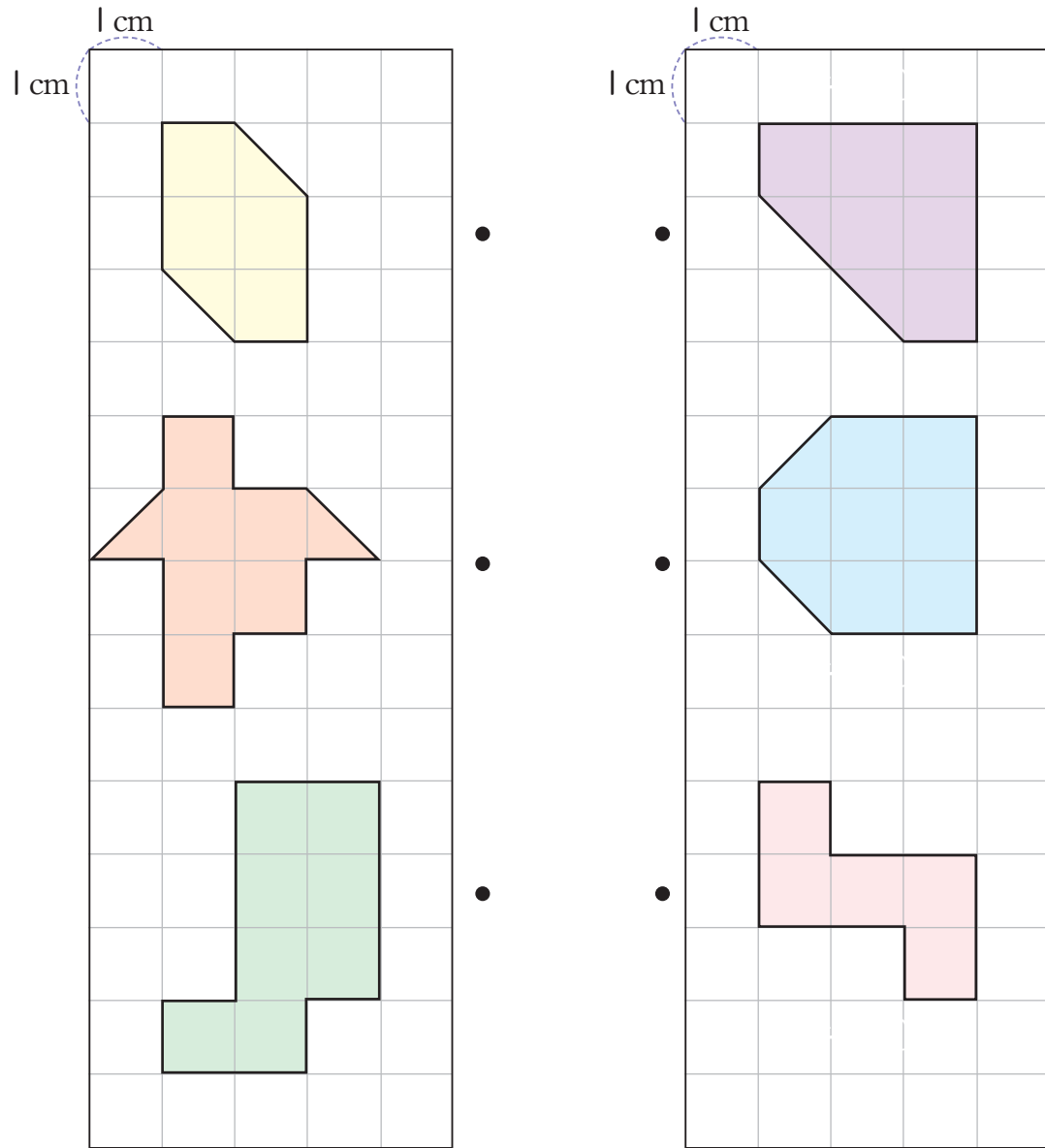
習作5-3 面積(1)

1 每個方格的面积都是1平方公分，下面圖形的面积是多少？(要寫單位)



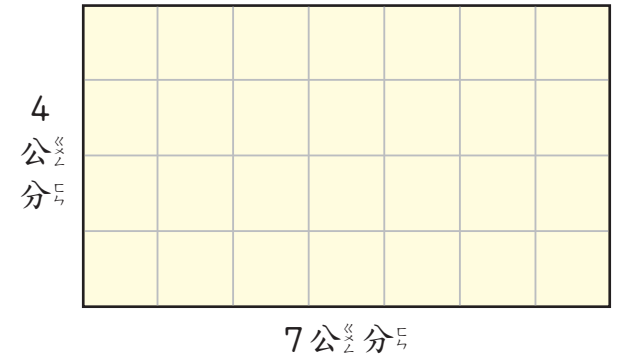
- 圖形甲的面积是_____。
- 圖形乙的面积是_____。
- 圖形丙的面积是_____。
- 圖形丁的面积是_____。
- 圖形甲和圖形乙的面积合起來是_____。
- 圖形丙和圖形丁，那一個的面积比較大？_____。

2 連連看，將面積相同的圖形連起來。

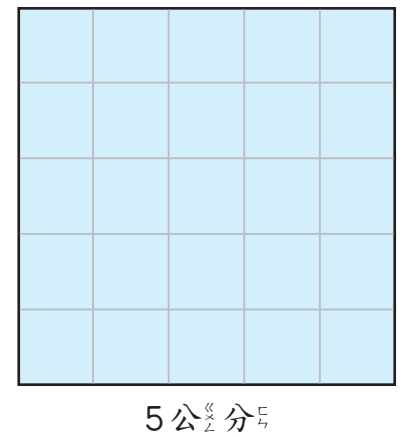


習作5-4 面積(2)

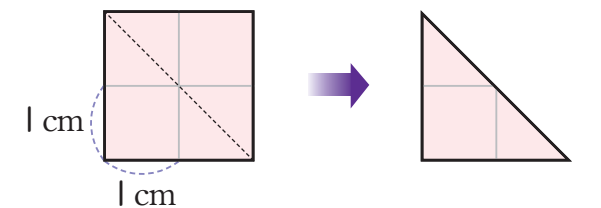
1 長方形兩邊長是7公分和4公分，面積是多少？



2 邊長是5公分的正方形，面積是多少平方公分？

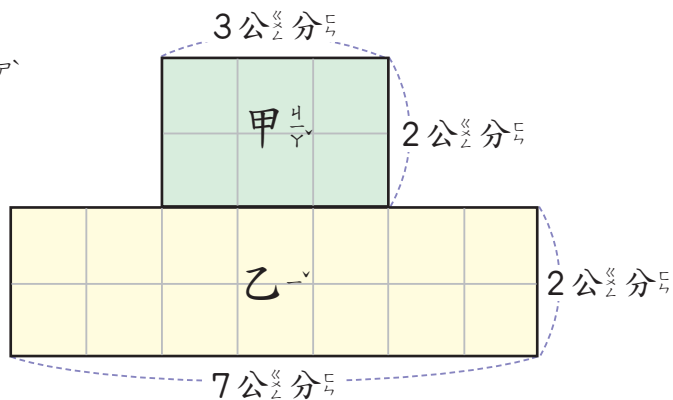


3 將面積是4平方公分的正方形沿著虛線對摺，對摺後的三角形面積是多少？



4 如右圖，回答下列問題。

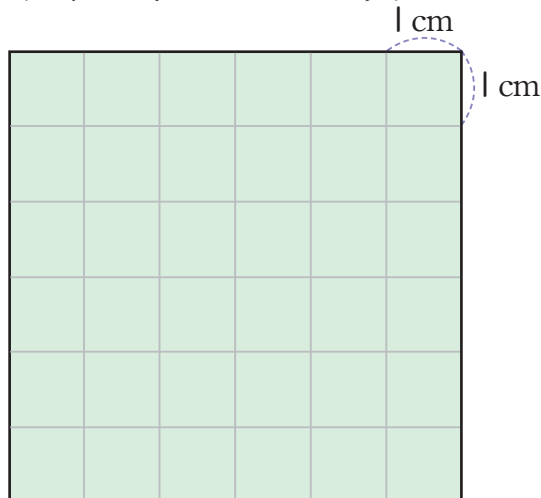
1 圖形甲的面積是多少平方公分？




2 圖形乙的面積是多少平方公分？

3 圖形甲和圖形乙合起來的面積是多少平方公分？

5 在下方的方格紙畫出一個面積是 25 平方公分的正方形。



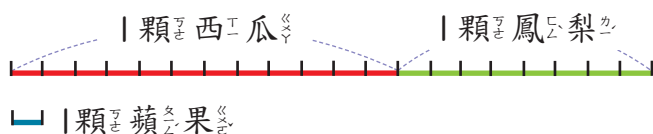
6 乘法



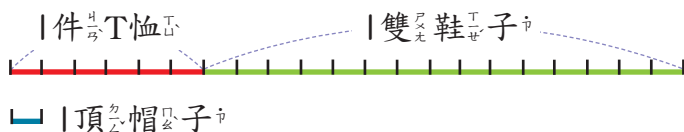
習作6-1 乘法與倍數

1 寫出算式做做看。

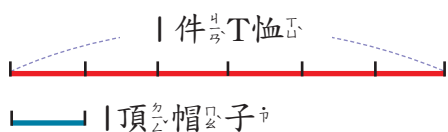
- ① 一顆西瓜是 12 倍重，一顆鳳梨是 8 倍重，一顆西瓜和 1 顆鳳梨合起來是 1 顆蘋果的幾倍重？



- ② 一件T恤的價錢是 1 頂帽子的 6 倍，一雙鞋子的價錢是 1 頂帽子的 15 倍，一件T恤和 1 雙鞋子合起來的價錢是 1 頂帽子的幾倍？



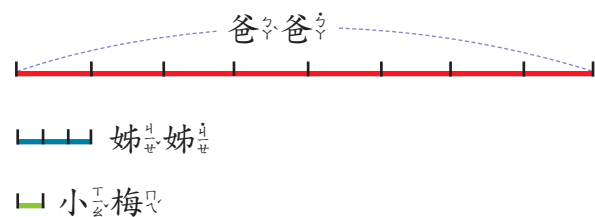
- ③ 一件T恤的價錢是 1 頂帽子的 6 倍， 10 件T恤的價錢是 1 頂帽子的幾倍？



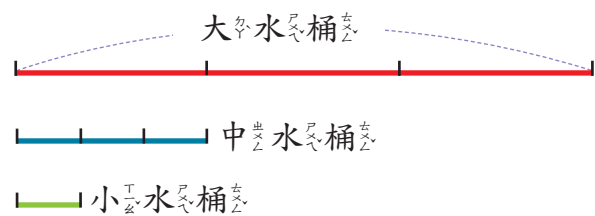
- 4 甲繩是乙繩的3倍長，乙繩是丙繩的2倍長，甲繩是丙繩的幾倍長？



- 5 爸爸的錢是姊姊的8倍，姊姊的錢是小梅的3倍，爸爸的錢是小梅的幾倍？



- 6 大、中、小三種水桶，大水桶的容量是中水桶的3倍，中水桶的容量是小水桶的3倍，一個大水桶裝滿水可以倒滿幾個小水桶？



習作6-2 整十、整百倍



1 算算看。

1

$$\begin{array}{r} 3 \\ \times 70 \\ \hline \end{array}$$

2

$$\begin{array}{r} 4 \\ \times 30 \\ \hline \end{array}$$

3

$$\begin{array}{r} 5 \\ \times 60 \\ \hline \end{array}$$

4

$$\begin{array}{r} 6 \\ \times 90 \\ \hline \end{array}$$

5

$$\begin{array}{r} 7 \\ \times 80 \\ \hline \end{array}$$

6

$$\begin{array}{r} 8 \\ \times 30 \\ \hline \end{array}$$

7

$$\begin{array}{r} 4 \\ \times 200 \\ \hline \end{array}$$

8

$$\begin{array}{r} 4 \\ \times 400 \\ \hline \end{array}$$

9

$$\begin{array}{r} 6 \\ \times 600 \\ \hline \end{array}$$

10

$$\begin{array}{r} 5 \\ \times 400 \\ \hline \end{array}$$

11

$$\begin{array}{r} 5 \\ \times 600 \\ \hline \end{array}$$

12

$$\begin{array}{r} 8 \\ \times 500 \\ \hline \end{array}$$

2 內的數是多多少少？填填看看。

1

$$5 \times 3 = \square$$

$$5 \times 30 = \square$$

$$50 \times 30 = \square$$

2

$$\square \times 5 = 20$$

$$\square \times 50 = 200$$

$$\square \times 50 = 2000$$

3 算算看看。

1

$$\begin{array}{r} 40 \\ \times 20 \\ \hline \end{array}$$

2

$$\begin{array}{r} 30 \\ \times 80 \\ \hline \end{array}$$

3

$$\begin{array}{r} 50 \\ \times 60 \\ \hline \end{array}$$

4

$$\begin{array}{r} 50 \\ \times 80 \\ \hline \end{array}$$

5

$$\begin{array}{r} 60 \\ \times 90 \\ \hline \end{array}$$

6

$$\begin{array}{r} 70 \\ \times 70 \\ \hline \end{array}$$

習作6-3 一位數乘以二位數

1 算算看看。

1

$$\begin{array}{r} 3 \\ \times 21 \\ \hline \end{array}$$

2

$$\begin{array}{r} 6 \\ \times 24 \\ \hline \end{array}$$

3

$$\begin{array}{r} 7 \\ \times 64 \\ \hline \end{array}$$

4

$$\begin{array}{r} 8 \\ \times 32 \\ \hline \end{array}$$

5

$$\begin{array}{r} 6 \\ \times 45 \\ \hline \end{array}$$

6

$$\begin{array}{r} 8 \\ \times 25 \\ \hline \end{array}$$

2 寫成直式算算看看。

1 7×33

2 5×44

3 9×25

3 寫出算式做做看看。

1 一些糖果平均分給24位小朋友，每人分到6顆，糖果共有幾顆？

2 一個小饅頭賣5元，60個小饅頭賣幾元？

3 毛毛蟲的長度是2公分，繩子的長度是毛毛蟲的15倍，繩子有多長？

4 一箱木瓜有16顆，每一顆木瓜平分成4份，每一位小朋友分一份，小朋友共有幾位？

5 一些小朋友，9人分成一組，共分12組，這些小朋友共有多少人？

習作6-4 二位數乘以二位數

1 算算看。

1
$$\begin{array}{r} 15 \\ \times 31 \\ \hline \end{array}$$

2
$$\begin{array}{r} 23 \\ \times 32 \\ \hline \end{array}$$

3
$$\begin{array}{r} 22 \\ \times 77 \\ \hline \end{array}$$

4
$$\begin{array}{r} 27 \\ \times 35 \\ \hline \end{array}$$

5
$$\begin{array}{r} 36 \\ \times 27 \\ \hline \end{array}$$

6
$$\begin{array}{r} 25 \\ \times 25 \\ \hline \end{array}$$

2 寫出直式算算看。

1 17×28

2 23×46

3 38×24

4 64×50

5 70×64

6 80×90

3 寫成算式算算看。

1 1袋米有15公斤，18袋米共有幾公斤？

2 1公斤的芒果賣75元，15公斤共要多少元？

3 一條繩子平均分成25段，每一段長75公分，繩子原來長幾公分？

4 一塊磁磚的面積是 64 平方公分，正方形的面積是磁磚的 16 倍，正方形的面積是多少平方公分？

習作6-5 解題

1 寫出算式做做看。

1 1瓶兒童雞精是 80 毫升， 50 瓶裝成一箱，一箱兒童雞精有多少毫升？



2 一顆巧克力重 5 公克，一罐巧克力裝 500 顆，一罐巧克力有多重？



3 黃伯伯的一步長為 72 公分，他從走廊這一端走到另一端，共走了 86 步，走廊有多長？



4 食品工廠1分鐘可包裝 16 包餅乾， 40 分鐘可以裝多少包？



5 咳嗽藥水一次喝15毫升，小威三天喝了12次，共喝了多少毫升的藥水？

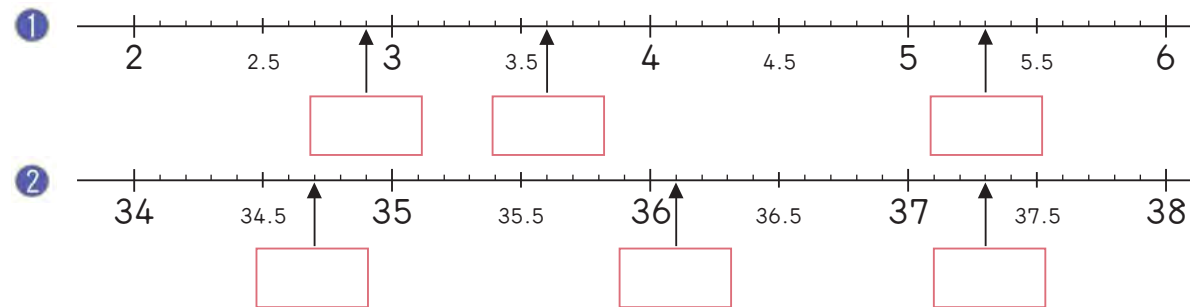
6 1個包子重75公克，16個包子重多少公克？

7 瓶子的容量是茶壺的5倍，茶壺的容量是杯子的6倍，杯子的容量是24毫升，瓶子的容量是杯子的幾倍？瓶子的容量是多少毫升？

8 一盒餅乾平分給24人，每人分到5片，還剩下13片，一盒餅乾有幾片？

複習二

1 在 中填入小數。



2 寫成直式算算看。

1 7×800

2 8×43

3 96×87

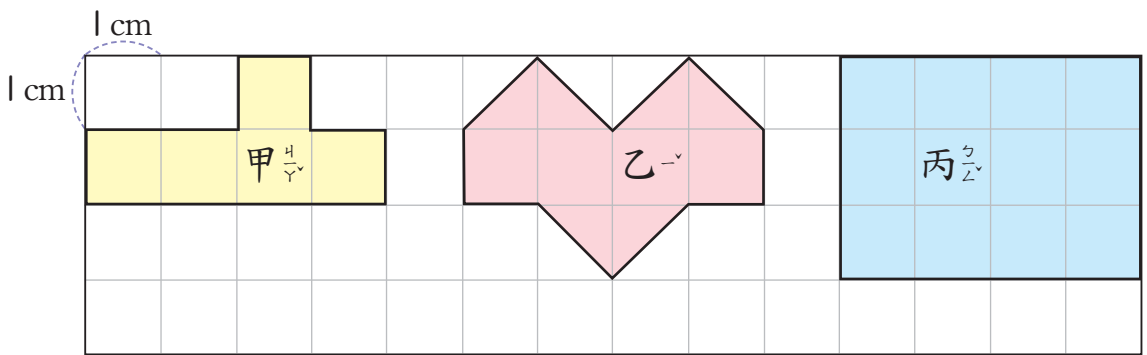
3 列成算式做做看。

1 一盒冰淇淋的價錢是一枝冰棒的15倍，10盒冰淇淋的價錢是一枝冰棒的幾倍？

2 長21公分、寬12公分的長方形，周長是多少公分？

3 蠟筆的長是7公分2毫米，鉛筆的比蠟筆的長是2.9公分，鉛筆的長是幾公分？

4 算出下面每個圖形的面積。(要寫單位)



	甲	乙	丙
面積			

5 將一樣大的數連起來。

$$\frac{2}{10}$$

$$0.7$$

$$\frac{1}{10} + \frac{2}{10}$$

$$6 \text{ 個 } 0.1$$

$$\frac{4}{10}$$

$$6 \text{ 個 } \frac{1}{10}$$

$$0.2$$

$$0.4$$

$$\frac{7}{10}$$

$$0.3$$

7 時間

習作7-1 認識秒

1 圈看。

①



洗全家晚餐用的碗盤需要(15分, 15秒)。

②



洗衣機洗衣服需要(60分, 60秒)。

③



讀一首唐詩需要(10分, 10秒)。

④



從1數到10需要(5分, 5秒)。

2 寫出算式做做看。

① 4分是幾秒?

② 7分是幾秒?

習作7-2 時、分、秒的換算

1 寫出算式做做看。

1 星期天晚上，依依花了10分鐘整理她的書桌，10分鐘是多少秒？



2 姊姊做一朵綵帶花需要3分30秒，3分30秒是多少秒？



3 小威花了2小時15分完成了一幅拼圖，2小時15分是多少分？



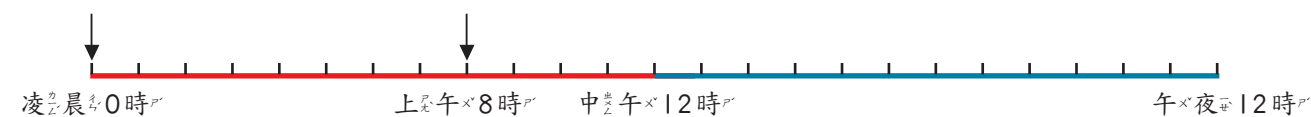
4 李伯伯從日本坐飛機回臺灣，共花了3小時20分，3小時20分是幾分鐘？



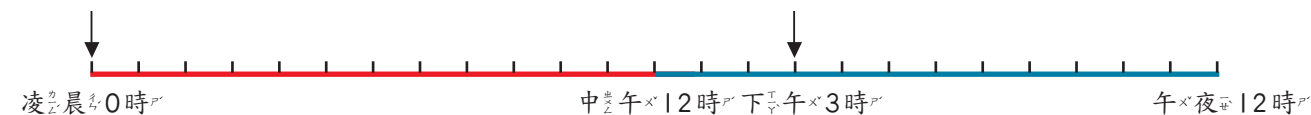
習作7-3 一日有24時

1 看著線段圖做做看。

1 從凌晨0時到上午8時，一共有_____時。
上午8時在24時制記成_____時。



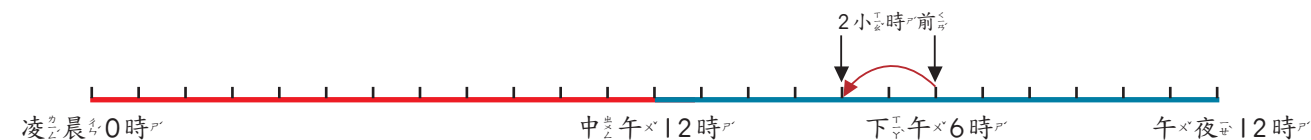
2 從凌晨0時到下午3時，一共經過幾小時？下午3時在24時制怎麼記？



算式：

答：

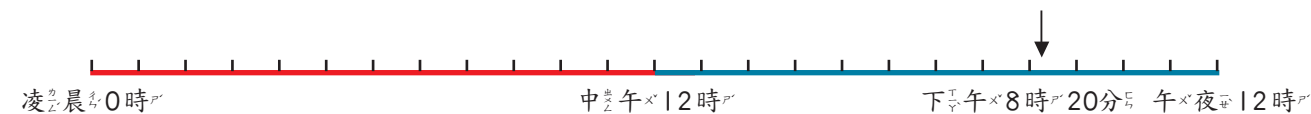
3 現在是下午6時，2小時前是下午幾時？2小時前在24時制怎麼記？



算式：

答：

4 下午8時20分爸爸在看電視，下午8時20分在24時制怎麼記？



算式：

答：

2 寫出算式做做看。

- 1 東東愛看的卡通節目只在 20:00 播出，20:00 是下午幾時？



- 2 媽媽告訴家人今天 19:30 吃晚餐，哥哥在下午 8 時到家。哥哥在晚餐開始前，還是晚餐開始後到家？




- 3 卡通影片在 17 時 30 分播出，依依在下午 5 時 35 分到家，她在卡通影片播出前已經回到家了嗎？



習作 7-4 解題 (1)

1 寫出算式做做看。

- 1 現在是 8 時 35 分，幾分鐘後是 9 時？



- 2 上午第 2 節課在 10 時 10 分下課，第 3 節課在 10 時 30 分上課，第 2 節下課有幾分鐘？



- 3 媽媽 9 時 20 分上市場買菜，10 時回到家，媽媽買菜花了幾分鐘？



- 4 爸爸打電話回家說他在下午 6 時 30 分才能回到家，現在是下午 6 時 13 分，還要幾分鐘爸爸才會到家？



- 5 媽媽在下午4時13分告訴小可，她還要30分鐘後才能到家，媽媽什麼時候到家？



- 6 江伯伯在火車站等火車，聽到廣播說火車會誤點15分鐘，火車原定在上午10時27分進站，火車什麼時候進站？



- 7 圓圓在下午4時45分到公車站等公車，她等了15分鐘公車才來，公車什麼時候到站？



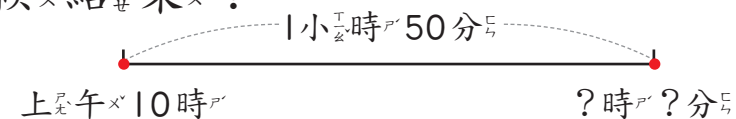
- 8 吳老師快走繞操場1圈需要4分鐘，他從下午5時20分開始，繞完10圈後是什麼時候？



習作7-5 解題(2)

1 寫出算式做做看。

- 1 東東和家人去看早場電影，電影從上午10時開始放映，演了1小時50分，電影什麼時候結束？



- 2 小杰和朋友打棒球，從下午3時30分開始，打了2小時25分，他們什麼時候打完棒球？



- 3 徐阿姨在上午8時25分從花蓮搭火車到臺北，一共花了2小時23分，她什麼時候到臺北？



- 4 媽媽上午搭11時15分的飛機到韓國的首爾，一共花了3小時40分，她什麼時候到達首爾？



- 5 小威8時40分上第1節課，第4節下課是11時55分，從第1節上課到第4節下課共經過多少時間？



- 6 上午8時升旗，第3節下課是上午11時10分，從升旗到第3節下課共經過多少時間？



- 7 蔡小姐上午11時從高雄搭火車，下午4時抵達臺北，火車從高雄到臺北一共開了幾小時？



- 8 媽媽上午6時20分起床，下午11時30分上床睡覺，媽媽從早上起床到晚上上床睡覺，一共經過多少時間？

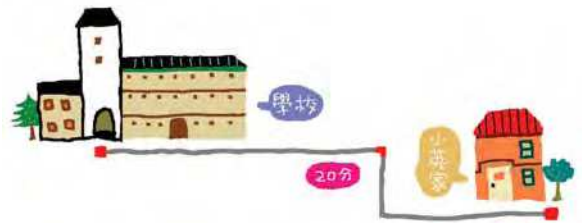


- 9 依依要看下午8時40分的電影，現在離開演還有1小時5分，現在是下午幾時幾分？



10 現在是下午6時20分，1小時10分前是下午幾時幾分？

11 小英從家裡到學校要花20分鐘，她到學校的時間是上午7時50分，她什麼時候出門？



12 現在是下午3時45分，17分前是下午幾時幾分？

8 除法



習作8-1 兩位數除以一位數

1 算算看。

1 $2 \overline{) 24}$

2 $3 \overline{) 63}$

3 $4 \overline{) 48}$

4 $4 \overline{) 88}$

5 $5 \overline{) 50}$

6 $6 \overline{) 60}$

2 算算看。

1 $25 \div 2$
= ...

$2 \overline{) 25}$

2 $34 \div 3$
= ...

$3 \overline{) 34}$

3 $87 \div 4$
= ...

$4 \overline{) 87}$



4 $69 \div 6$
= _____ ...

$$6 \overline{) 69}$$

5 $72 \div 7$
= _____ ...

$$7 \overline{) 72}$$

6 $93 \div 9$
= _____ ...

$$9 \overline{) 93}$$



7 $72 \div 3$

8 $49 \div 4$

9 $75 \div 5$



3 寫成直式算算看。

1 $85 \div 4$

2 $94 \div 3$

3 $58 \div 5$

4 $72 \div 7$

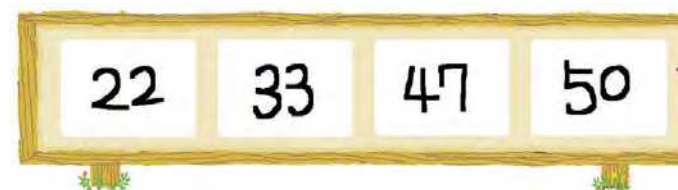
5 $89 \div 8$

6 $93 \div 9$



4 做做看。

1 圈出被2除有餘數的數。



2 上面那些數是奇數？那些數是偶數？

3 圈出不能被5整除的數。



4 圈出可以被3整除的數。



習作8-2 三位數除以一位數

1 算算看看。

1 $2 \overline{) 240}$	2 $3 \overline{) 954}$	3 $4 \overline{) 868}$
4 $2 \overline{) 433}$	5 $3 \overline{) 602}$	6 $4 \overline{) 450}$

2 寫成直式算算看看。

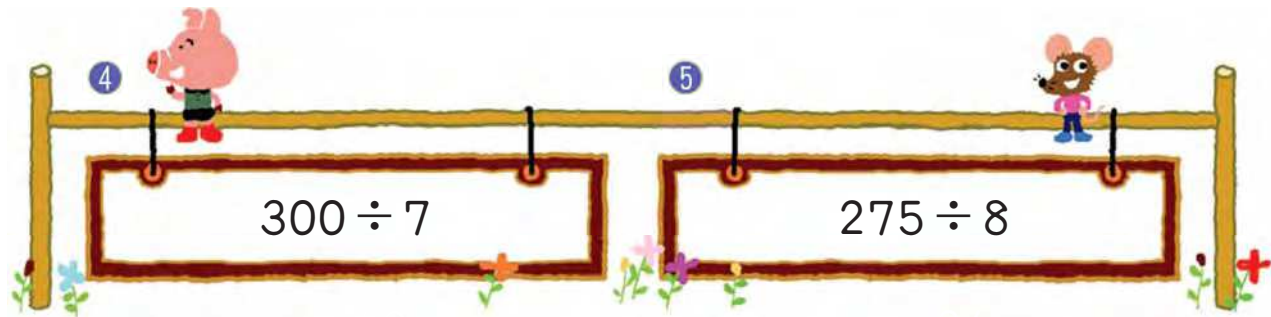
1 $650 \div 6$	2 $750 \div 7$	3 $850 \div 8$
-------------------	-------------------	-------------------

3 算算看看。


1 $8 \overline{) 540}$	2 $8 \overline{) 600}$	3 $4 \overline{) 700}$
4 $4 \overline{) 999}$	5 $5 \overline{) 999}$	6 $6 \overline{) 999}$

4 寫成直式算算看看。

1 $147 \div 7$	2 $189 \div 7$	3 $231 \div 7$
-------------------	-------------------	-------------------



- 5 450被下列那一個數除的商最大？
被那一個數除的商最小？



習作8-3 解題

1 寫出算式，做做看。

- 1 480人參加童軍活動，每6人分成1小隊，共有幾小隊？



- 2 500毫升的牛奶平分成2杯，每一杯是幾毫升？



- 3 姊姊有425元，是依依的5倍，依依有多少元？



- 4 布置花燈，每兩盞花燈間隔一樣長，第1盞到第7盞的花燈相隔240公分，每兩盞花燈間隔幾公分？

- 5 6頂帽子賣720元，1頂帽子賣幾元？
4頂帽子賣幾元？

- 6 一樣蛋糕4個賣380元，1個蛋糕賣多少元？5個蛋糕賣多少元？

- 7 一大桶沙拉油裝85公升，每3公升裝成1瓶，全部裝完需要幾個瓶子？



- 8 小禮堂每排椅子可坐6人，西門國小250位學生坐進小禮堂後還有2個空位，問禮堂中有多少排椅子？



- 9 大雄和5朋友共4人一起吃午餐，每人出一樣多的錢，共花了260元，如果大雄原有320元，付完錢後，他還有多少元？

- 10 文具店週年慶，推出「買4枝筆送1枝筆」的特賣組合，現在文具店有800枝筆，可以組合成幾組特賣品？



習作8-4 乘除算式填充題

1 在 內打 \checkmark 。

1 840 人搭火車，每節車廂可以坐一樣多的人，共坐滿 12 節車廂，如果用 () 表示每節車廂的人數，請問下面那一個算式是正確的？



$840 \div () = 12$

$() \div 12 = 840$

2 哥哥要量家裡到學校的距離，他一步一步走 80 公分，共走了 2000 步，如果用 () 表示這段距離，請問下面那一個算式是正確的？

$2000 \div 80 = ()$

$() \div 80 = 2000$



習作8-5 算出括號中的數(1)

1 () 中的數是多少？寫出算式做做看。

1 $32 + () = 87$

2 $46 + () = 105$

3 $198 + () = 300$

4 $222 + () = 400$

5 $() + 36 = 72$

6 $() + 55 = 110$

7 $() + 345 = 700$

8 $() + 256 = 600$



習作8-6 算出括號中的數(2)

9 () - 67 = 33

10 () - 48 = 96

11 () - 237 = 763

12 () - 819 = 181

13 100 - () = 85

14 96 - () = 29

15 500 - () = 250

16 800 - () = 655

1 () 中的數是多多少少? 寫出算式做做看。

① () × 3 = 630

② () × 3 = 315

③ 5 × () = 520

④ 6 × () = 204

2 () 中的數是多多少少? 寫出算式做做看。

① 125 ÷ () = 5

② 785 ÷ () = 5

③ () ÷ 4 = 82

④ () ÷ 8 = 125

9 統計圖表

習作9-1 報讀表格(1)

1 下面是一各班級的人數表，看圖回答問題。

三年級各班級學生人數表

三年 1 班	35 人	三年 6 班	34 人
三年 2 班	34 人	三年 7 班	35 人
三年 3 班	35 人	三年 8 班	33 人
三年 4 班	34 人	三年 9 班	35 人
三年 5 班	33 人	三年 10 班	33 人

1 人數最多的的是那幾個班級？



2 人數最少的是那幾個班級？



3 三年級共有多少個學生？

習作9-2 報讀表格(2)

1 下面是部分的火車時刻表，看表回答問題。

臺灣鐵路西部幹線對號快車時刻表(下行)

車次 \ 站名	臺北	桃園	中壢	新竹	沙鹿(海) 臺中(山)	彰化	嘉義	臺南	高雄
自強1021 山線 臺北—高雄	13:05	—	—	—	14:59	15:16	—	16:40	17:11
莒光23 山線 臺北—高雄	13:20	13:58	14:09	14:46	16:23	16:42	18:11	19:09	19:56
復興115 海線 臺北—高雄	13:40	14:20	14:36	15:10	16:43	17:05	18:33	19:35	20:45

1 王小姐、林小姐、陳小姐三人都要從臺北到高雄，查時刻表填出她們出發和到達的時刻。

姓名	車次	出發時刻	到達時刻
王小姐	第115車次		
林小姐	第23車次		
陳小姐	第1021車次		

2 誰最先從臺北出發？

3 誰最後到達高雄？

4 誰在車上的時間最短？

複習三

1 填填看看。

- 上午9:20到上午10:00是經過_____分。
- 下午3:40到下午7:40經過_____小時。

2 寫出算式做做看看。

- 電影下午8時10分開始放映，下午10時25分結束，電影播放了多久的時間？



- 林媽媽從下午6時20分開始做晚餐，共花了1小時5分，她做完晚餐是下午幾時幾分？



3 算出□中的數。

1 $25 + \square = 100$

2 $\square + 46 = 100$

3 $\square - 75 = 200$

4 $200 - \square = 132$

5 $\square \times 2 = 144$

6 $8 \times \square = 360$

7 $\square \div 13 = 13$

8 $363 \div \square = 3$

4 看餐點價格表，寫出算式做做看看。

菜單

客家小炒 180元

三人份火鍋 360元

梅干扣肉 240元

四人份火鍋 480元

全土雞切塊 450元

六人份火鍋 660元



- 王先生和兩位朋友點了全土雞切塊和三人份火鍋各一份，每人出的錢一樣多，每人要出多少錢？



- 李先生和五位朋友點了客家小炒和六人份火鍋各一份，每人出的錢一樣多，每人要出多少錢？



主編者：國家教育研究院籌備處
 編審者：數學領域部編本教科書編輯委員會
 主任委員：鄭國順
 委員：于靖 吳清山 李慶祥 林世華
 林明碧 林清平 林淑君 林惠雯
 林震燦 林鴻哲 洪志成 洪若烈
 胡志偉 翁秉仁 許世壁 陳宏
 陳昭地 陳俊瑜 陳清溪 程守慶
 張麟偉 葉芳栢 鄭人豪 賴文宗
 盧銘法
 (依姓氏筆畫順序排列)
 編輯小組：李慶祥 林長壽 林淑君 翁秉仁
 陳俊瑜 張麟偉 鄭人豪 盧銘法
 (依姓氏筆畫順序排列)
 審查小組：林世華 林清平 洪志成 陳昭地
 (依姓氏筆畫順序排列)
 本冊修訂：林淑君 翁秉仁 葉芳栢
 (依姓氏筆畫順序排列)
 總訂正：鄭國順
 封面設計：賴馬
 內頁插圖：賴馬
 美術編輯：翰林出版事業股份有限公司
 出版者：國家教育研究院籌備處
 部編教科書網站：<http://mathtext.project.edu.tw>

※本書經國立編譯館99年3月22日
 國教國字第0990001417號函准予修訂

民國九十七年一月初版
 民國九十八年一月初版二刷
 民國九十九年一月初版三刷
 民國一百年一月二版

ISBN：978-986-01-2716-4
 GPN：1009700063

著作財產權歸教育部所有·請勿侵害



營業總部暨營業所在地：
 70248 臺南市新樂路76號(安平工業區)
 電話 / (06)263-1188 (代表號)
 出版登記：新聞局局版臺業字第5853號
 承印者：翰林出版事業股份有限公司
 發行者：翰林出版事業股份有限公司
 讀者訂書專線：電話 / (06)263-7923
 傳真 / (06)264-5852
 客戶服務專用帳號：service@hanlin.com.tw
 郵政劃撥：31376678
 翰林出版事業股份有限公司
 法律顧問：北辰律師事務所 蕭雄淋律師
 嚴裕欽律師 幸秋妙律師
 翰林我的網：<http://www.worldone.com.tw>

政府出版品展售門市：
 國家書店松江門市
 地址：10485 臺北市松江路209號1樓
 電話：(02)2518-0207 (代表號)
 國家網路書店：<http://www.govbooks.com.tw>
 五南文化廣場
 地址：40042 臺中市中區中山路6號
 電話：(04)2226-0330
 網址：<http://www.wunanbooks.com.tw>

國小教科書全國服務中心

北區服務中心 (臺北、基隆、宜蘭、花蓮、金門)
 地址 / 23585 臺北縣中和市建一路136號9樓
 電話 / (02)3234-4718 傳真 / (02)3234-4720
桃竹區服務中心 (桃園、新竹)
 地址 / 32455 桃園縣平鎮市興埔路232之2號
 電話 / (03)468-8066 傳真 / (03)468-8120
中區服務中心 (臺中、苗栗、南投、彰化)
 地址 / 40854 臺中市南屯區東興路一段486號
 電話 / (04)2472-8520 傳真 / (04)2475-1196

雲嘉區服務中心 (雲林、嘉義)
 地址 / 60085 嘉義市西區國賢一街38號
 電話 / (05)281-2656 傳真 / (05)231-2415
南區服務中心 (臺南)
 地址 / 70248 臺南市新樂路76號
 電話 / (06)263-1188 傳真 / (06)264-0416
高屏區服務中心 (高雄、屏東、臺東、澎湖)
 地址 / 80794 高雄市民族一路373巷15號
 電話 / (07)397-2288 傳真 / (07)397-1199

●本書如有缺頁、倒裝、嚴重汙損等情形，請接受本公司誠摯的道歉；並請撥讀者免費服務專線：0800-007-678告知，我們將迅速為您服務。