




1 寫出算式做做看。

- 1 水壺的容量是杯子的 4 倍，熱水瓶的容量是杯子的 10 倍。水壺和熱水瓶合起來的容量是杯子的幾倍？



- 2 一顆哈密瓜的價錢是一顆蘋果的 4 倍，3 顆哈密瓜的價錢是蘋果的幾倍？



- 3 外婆的年齡是媽媽的 2 倍，媽媽的年齡是小梅的 3 倍，外婆的年齡是小梅的幾倍？



- 4 長頸鹿的肩高是斑馬的 2 倍，斑馬的肩高是牧羊犬的 2 倍。長頸鹿的肩高是牧羊犬的幾倍？





2 在下面空格中填入正確的答案。

1

$$5 \times 10 = \square$$

$$50 \times 10 = \square$$

$$5 \times 100 = \square$$

2

$$7 \times 8 = \square$$

$$7 \times 80 = \square$$

$$7 \times 800 = \square$$

3

$$4 \times \square = 36$$

$$4 \times \square = 360$$

$$4 \times \square = 3600$$

4

$$\square \times 7 = 63$$

$$\square \times 70 = 630$$

$$\square \times 700 = 6300$$

5

$$3 \times \square = 15$$

$$\square \times 50 = 150$$

$$30 \times \square = 1500$$

6

$$\square \times 9 = 18$$

$$20 \times \square = 1800$$

$$\square \times 400 = 1800$$

7

$$6 \times \square = 42$$

$$60 \times 70 = \square$$

$$6 \times \square = 4200$$

8

$$\square \times 6 = 48$$

$$\square \times 600 = 4800$$

$$\square \times 60 = 4800$$



3 用乘法直接算看。

1 32 的 3 倍是 _____。

2 420 的 2 倍是 _____。

3 96 的 4 倍是 _____。

4 129 的 3 倍是 _____。

5 231 的 4 倍是 _____。

6 451 的 3 倍是 _____。

7 342 的 6 倍是 _____。

8 513 的 8 倍是 _____。

4 寫出算式，做做看。

- 1 玩具小汽車 1 秒跑 4 公尺，30 秒跑幾公尺？




- 2 一些餅乾平均分裝在 20 個盒子裡，每盒裝 10 片餅乾，原來有幾片餅乾？



- 3 有一桶紅茶，將每 90 毫升紅茶倒入一個紙杯，一共倒了 40 杯，還剩下 300 毫升的紅茶，這桶紅茶原來有多少毫升？

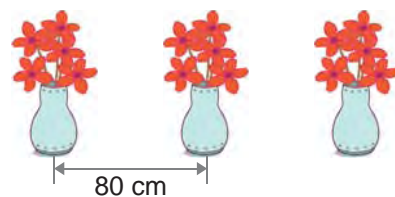


- 4 一顆棗子重 40 公克，6 顆棗子合起來比一顆蘋果多 15 公克，一顆蘋果有多重？



5 寫出算式，做做看看。

- 1 走廊的花台，每隔 80 公分，放一盆小花，第 2 盆到第 12 盆的間隔是多少公分？



- 2 一個正方形磁磚面積是 70 平方公分， 50 個正方形磁磚拼貼起來的面積是多少平方公分？



- 3 長頸鹿的肩高是斑馬的 2 倍，斑馬的肩高是牧羊犬的 2 倍。牧羊犬肩高 75 公分，長頸鹿的肩高是多少？



- 4 一個三角形面積是 16 平方公分，用 4 個一樣大的三角形拼成下面的圖形，拼出來的圖形面積是多少平方公分？

