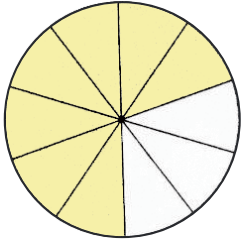




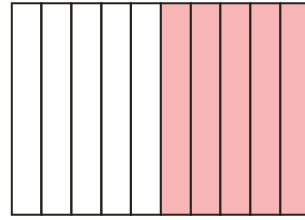
1 先用分數表示下面圖形中塗色全部份，再改寫成小數。

1



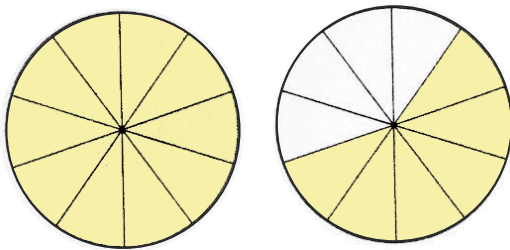
或

2



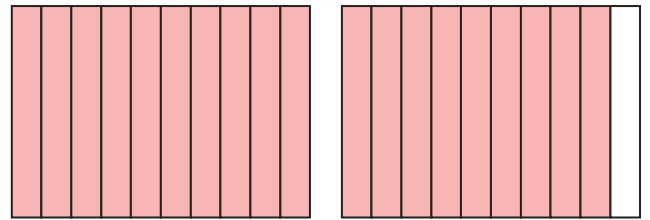
或

3



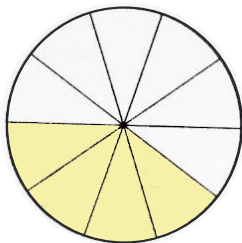
或

4



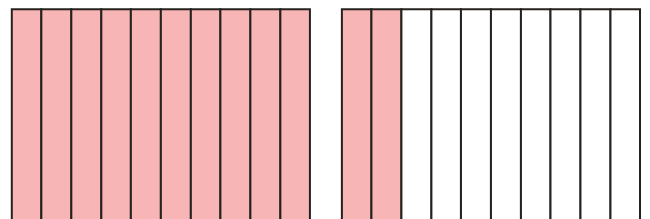
或

5



或

6



或

※教學注意事項：學生尚未學習帶分數的表示方法，但已學過「5個 $\frac{1}{4}$ 是 $\frac{5}{4}$ 」。

2 用小数表示下列各題中的數量。

1

0.1 0.1 0.1 0.1 0.1 0.1 0.1

7 個 0.1

2

0.1 0.1 0.1 0.1 0.1 0.1 0.1

0.1 0.1 0.1 10 個 0.1

3

1 0.1 0.1 0.1 0.1 0.1

1 個 1 5 個 0.1

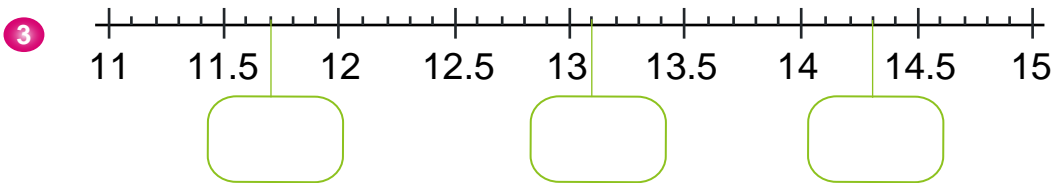
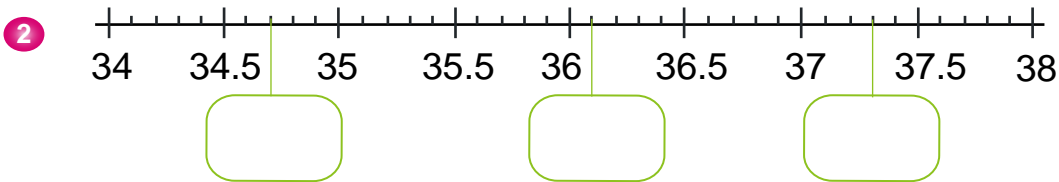
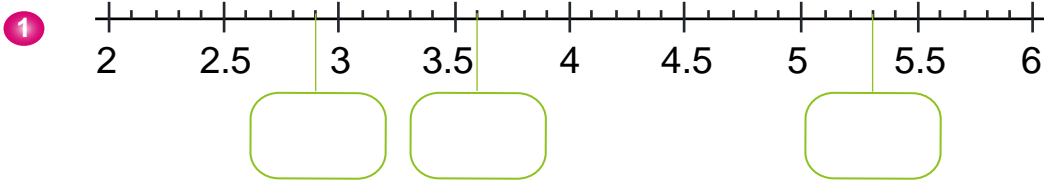
4

1 0.1 0.1 0.1 0.1


1 0.1 0.1 0.1

2 個 1 7 個 0.1

3 在下圖的空格中填入小數。

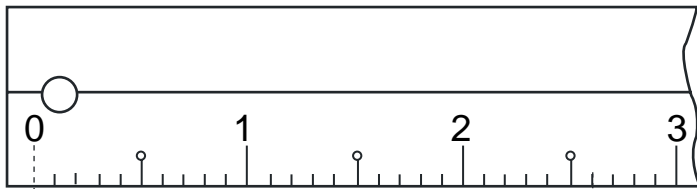


4 用尺量量看這枝鉛筆長幾公分？答案用小數表示。



_____ cm

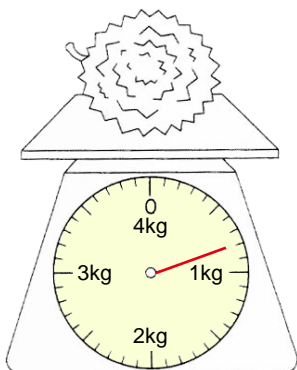
5 下圖中的迴紋針長多少公分？答案用小數表示。



_____ cm

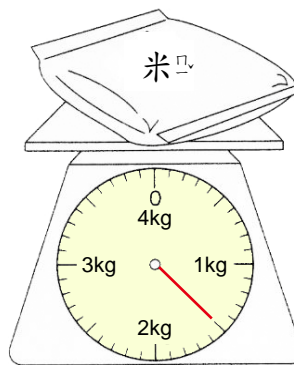
6 秤盤上的東西重多少公斤？答案用小數表示。

1



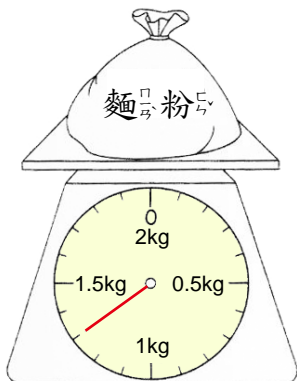
公斤

2




公斤

3

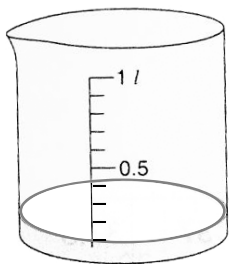


公斤



7 量杯裡裝了多少公升的水？答案用小數表示。

1



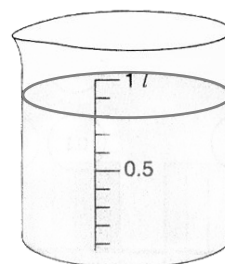
公升

2



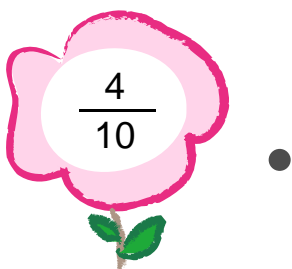

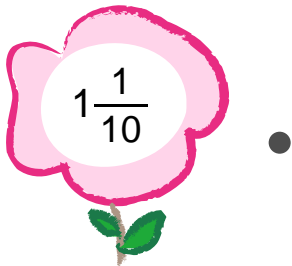


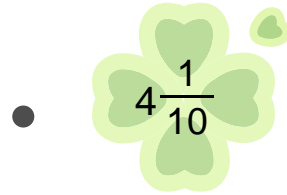
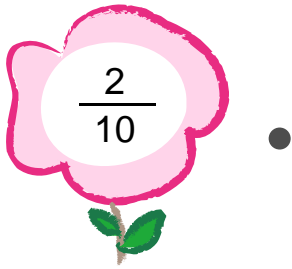
公升

3



公升

8 連_カ連_カ看_マ。



9 將下列小數改成分數表示，或分數改用小數表示。



1 $0.3 =$

2 $0.8 =$



3 $\frac{9}{10} =$

4 $\frac{15}{10} =$

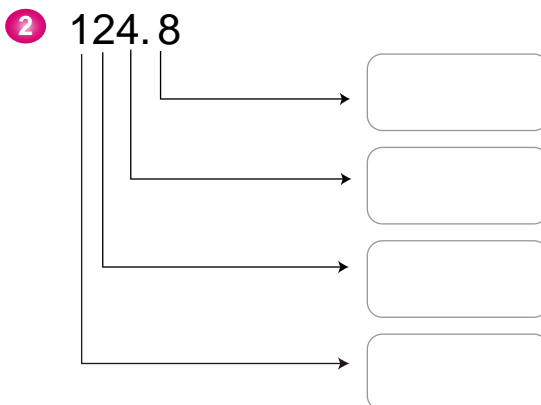
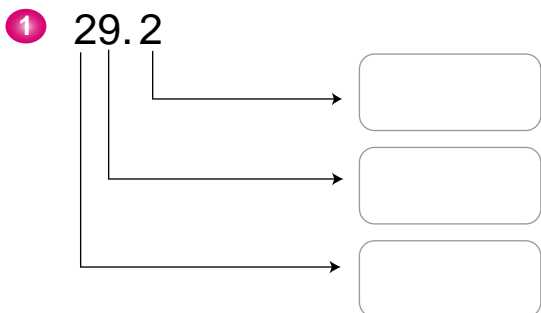
10 在下面方格中填入正確的答數。

1 $20 + 8 + 0.5 =$

2 $300 + 70 + 1 + 0.6 =$



11 寫出下面各個數字中的數值。



12 填填看。

1 $20 + 8 + 0.5 =$

2 $300 + 70 + 1 + 0.6 =$

3 $67.8 = 60 + 7 + \frac{8}{\quad}$

4 $132.1 = 100 + 30 + 2 + \frac{\quad}{10}$

13 在下面方格中填入正確的答案。

1

十位	個位	百分位
2	5	3

上面這個數是 。

數字 3 在 位，表示 。

2

百分位	十位	個位	十分位
3	4	8	7

上面這個數是 。


數字 7 在 位，表示 。

3

百分位	十位	個位	十分位
1	6	0	9

上面這個數是 。

數字 在十分位，表示 。

 14 用 $\frac{1}{10}$ 小數寫寫看。

1 18 個 0.1 是 。

2 6 個 1 和 4 個 0.1 是 。

3 23 個 1 和 7 個 0.1 是 。

 15 在 裡填上 $<$ 或 $>$ 。

1 0.7 0.5

2 0.3 0.6

3 0.8 0.9

4 1 0.1

5 1.4 公尺 1.7 公尺


6 4.8 公尺 5.7 公尺

7 1.3 1.6

8 2.5 公分 1.9 公分

9 8.7 21.1

10 1.4 0.4

 16 填填看。

1 9 公分 6 毫米 = 公分。

2 20 公分 7 毫米 = 公分。

3 14.5 公分 = 公分 毫米。

4 10.2 公分 = 公分 毫米。

 17 讀出下面各數。

1 0.8 , 8 , 80

2 10.1 , 101 , 1.1

2 4.7 公_分分_分 , 14.7 公_分分_分 , 147 公_分分_分


 18 寫出下面各數。

1 二點九

2 零點七公_尺尺

3 二十三分


4 十點三公_升升


 19 $\frac{1}{4}$, 3 , $\frac{7}{10}$, 1.5 , $\frac{1}{3}$, 7 , 2.8 , $\frac{13}{60}$, 0.9

那些是_分分數？ _____

那些是_小小數？ _____

那些是_整整數？ _____

 20 19.7 的_十十分位_數數字是 , 個_位位_數數字是 ,
十_位位_數數字是 。

 21 量_一一量_一 , 各_有有多_長長？

1 
() 公_分分_分 () 毫_米米_分 = () 公_分分_分 。

2 
() 公_分分_分 () 毫_米米_分 = () 公_分分_分 。

 22 把下面各數從大到小排排看。


0.3

1.5

2.9

0.7

3.4

 23 填填看。

1 5 個 0.1 是 _____

2 50 個 0.1 是 _____

3 500 個 0.1 是 _____


4 0.9 是 _____ 個 0.1

5 6.2 是 _____ 個 0.1

6 7.3 可換成 6 個 1 和 _____ 個 0.1


7 8 可換成 7 個 1 和 _____ 個 0.1

8 10 可換成 _____ 個 1 和 10 個 0.1

 24 在數線上有三個數：7.5，8.2，1.9，回答下面的問題。

1 那些數在 7 的右邊？ _____

2 在數線上，7.5，8.2，1.9 三個數中，比 7 小的數在 7 的右邊還是左邊？ _____

 25 下面那些數比 3.3 大，又比 8.3 小？

0.9

23

8

6.6

1.7

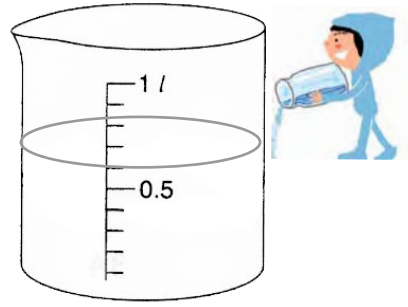
0

26 右圖中的水有

() 公升，再加

() 公升就剛好

是 1 公升。



27 寫出算式做做看。

1 桌上有一瓶豆漿，早餐時小威和哥哥喝了 0.7 公升，還剩 0.8 公升。原來有多少公升？

2 米桶裡原有 6 公斤的米，這星期媽媽煮飯用掉一些，米桶裡剩下 4.2 公斤的米。這星期媽媽煮飯用掉多少公斤的米？

3 姊姊身高是 132.4 公分，妹妹比姊姊矮 8.7 公分，妹妹身高是多少？

4 木瓜一顆重 1.8 公斤，大西瓜比木瓜重 6.9 公斤，大西瓜有多重？