



1

一個喜餅平均分成 6 份，1 份裝 1 盤。

1 2 盤是 _____ 個喜餅。

2 5 盤是 _____ 個喜餅。

3 $\frac{1}{6}$ 個喜餅裝 1 盤，
 $\frac{8}{6}$ 個喜餅可裝 _____ 盤。



2

一顆西瓜平均分成 5 份，1 份分給一個小朋友吃。

1 3 個小朋友吃了 _____ 顆西瓜。

2 5 個小朋友吃了 _____ 顆西瓜。

3 如果有 7 個小朋友，需要 _____ 顆西瓜。



3

一根甘蔗平均分成 3 份，1 份分給一位小朋友吃，5 位小朋友需要幾根甘蔗？



_____ 根

4

4 片土司可以裝一包，5 片土司是「一包」的幾分之幾？



5

6 個小朋友合吃一個蛋糕，每人分的蛋糕一樣多，4 位小朋友合吃了這個蛋糕的幾分之幾？



6

一瓶感冒糖漿剛好可以喝 6 次，1 次喝了幾分之幾瓶糖漿？



_____ 瓶

7

一瓶果汁剛好可以倒滿 5 杯，9 杯是幾瓶果汁？



_____ 瓶

8

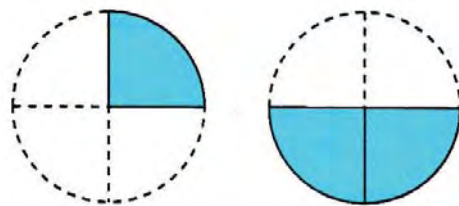
5 個小杯子裝的珠子和 1 個大杯子裝的珠子一樣重，1 個小杯子的珠子重量是大杯子的珠子的幾分之幾？



將答案填入下面的空格裡。

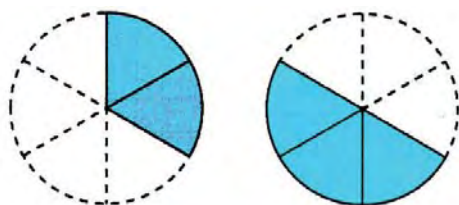
$$1 \quad \frac{1}{4} + \frac{2}{4}$$

$$= \frac{\boxed{}}{4}$$



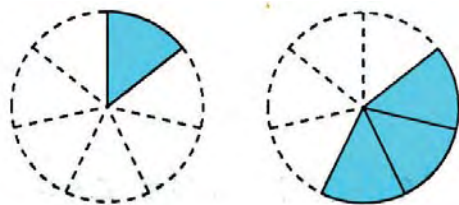
$$2 \quad \frac{2}{6} + \frac{3}{6}$$

$$= \frac{\boxed{}}{6}$$



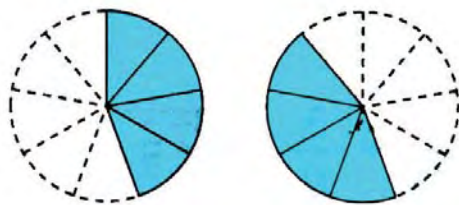
$$3 \quad \frac{1}{7} + \frac{3}{7}$$

$$= \frac{\boxed{}}{7}$$



$$4 \quad \frac{4}{9} + \frac{4}{9}$$

$$= \frac{\boxed{}}{9}$$



10

連_カ連_カ看_マ。

$$\frac{1}{3} + \frac{2}{3} =$$

$$\frac{1}{9} + \frac{5}{9} =$$

$$\frac{4}{8} + \frac{2}{8} =$$

$$\frac{3}{4}$$

$$1$$

$$\frac{2}{3}$$

11

算_カ算_カ看_マ。

$$① \quad \frac{3}{11} + \frac{4}{11} =$$

$$② \quad \frac{2}{10} + \frac{6}{10} =$$

$$③ \quad \frac{2}{6} + \frac{4}{6} =$$

$$④ \quad \frac{4}{12} + \frac{8}{12} =$$

12

算_カ算_カ看_マ。

$$① \quad \frac{1}{6} + \frac{2}{6} + \frac{3}{6} =$$

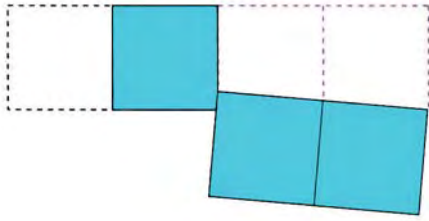
$$② \quad \frac{3}{10} + \frac{1}{10} + \frac{5}{10} =$$

$$③ \quad \frac{3}{11} + \frac{3}{11} + \frac{3}{11} =$$

$$④ \quad \frac{2}{8} + \frac{5}{8} + \frac{1}{8} =$$

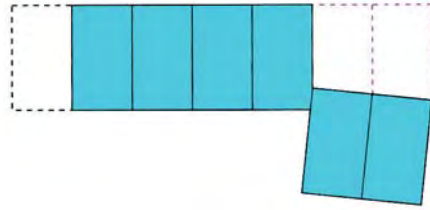
將正確答案填入下面的空格裡。

1



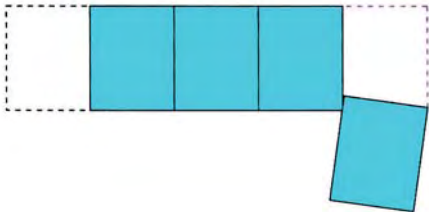
$$\frac{3}{4} - \frac{2}{4} = \boxed{}$$

2



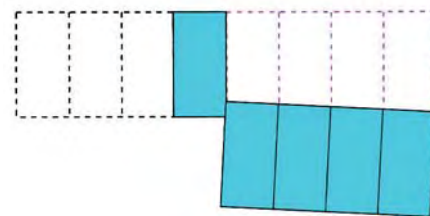
$$\frac{6}{7} - \frac{2}{7} = \boxed{}$$

3



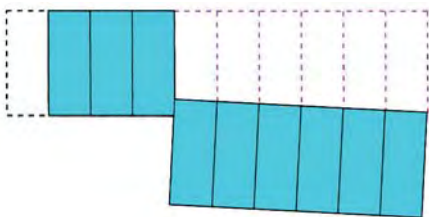
$$\frac{4}{5} - \frac{1}{5} = \boxed{}$$

4



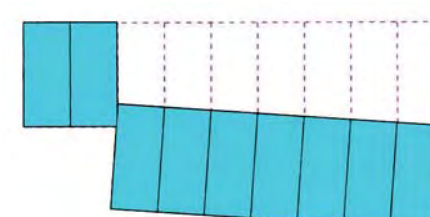
$$\frac{5}{8} - \frac{4}{8} = \boxed{}$$

5




$$\frac{9}{10} - \frac{6}{10} = \boxed{}$$


6




$$1 - \frac{7}{9} = \boxed{}$$


連_カ連_カ看_マ。




$$\frac{9}{12} - \frac{3}{12}$$



●







$$\frac{7}{11} - \frac{2}{11}$$



●





$$1 - \frac{4}{5}$$


●

算_カ算_カ看_マ。

$$① \quad \frac{2}{3} - \frac{1}{3} =$$

$$② \quad \frac{4}{7} - \frac{3}{7} =$$

$$③ \quad \frac{5}{6} - \frac{2}{6} =$$

$$④ \quad 1 - \frac{4}{10} =$$

算_カ算_カ看_マ。

$$① \quad \frac{4}{5} - \frac{1}{5} - \frac{1}{5} =$$

$$② \quad \frac{7}{8} - \frac{3}{8} - \frac{1}{8} =$$

$$③ \quad \frac{10}{11} - \frac{6}{11} - \frac{1}{11} =$$

$$④ \quad \frac{9}{9} - \frac{2}{9} - \frac{1}{9} =$$

一罐奶粉重 1 公斤，平分成 10 次沖泡。

- 1 沖泡 1 次，用掉 _____ 公斤的奶粉。
- 2 沖泡 3 次，用掉 _____ 公斤的奶粉。
- 3 $\frac{7}{10}$ 公斤的奶粉可以沖泡 _____ 次。



媽媽用電鍋煮飯，每煮 1 鍋要用掉 $\frac{1}{5}$ 公斤的米，煮 4 鍋飯要用掉 _____ 公斤的米。



1 公升的綠茶可以倒滿 5 杯。

- 1 1 杯綠茶是 _____ 公升。
- 2 3 杯綠茶是 _____ 公升。
- 3 5 杯綠茶是 _____ 公升，就是 _____ 公升。

