



三  
下

評量示例

第 02 回

第 2 章

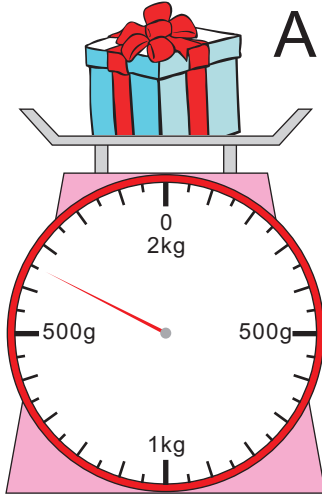
重量

三年 班 號

姓名：

1 有多重？填填看。

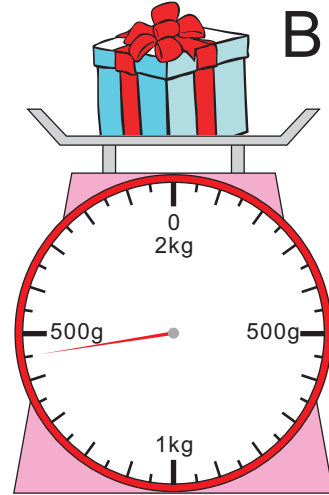
1



A

禮物 A = \_\_\_\_\_ 公 斤 \_\_\_\_\_ 公 克

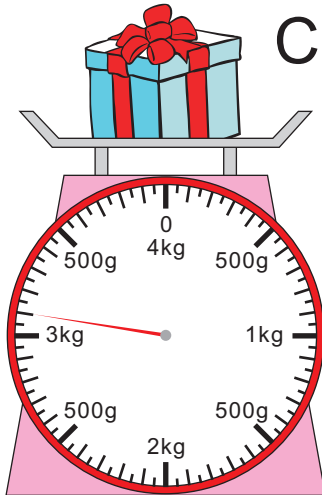
2



B

禮物 B = \_\_\_\_\_ 公 斤 \_\_\_\_\_ 公 克

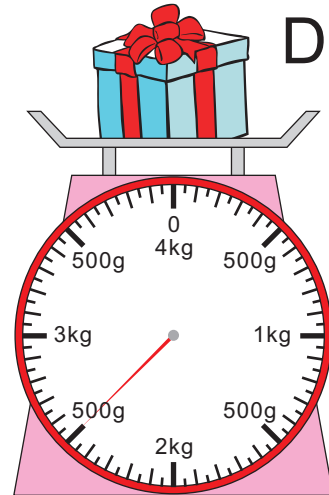
3



C

禮物 C = \_\_\_\_\_ 公 斤 \_\_\_\_\_ 公 克

4






D

禮物 D = \_\_\_\_\_ 公 斤 \_\_\_\_\_ 公 克

5 禮物 \_\_\_\_\_ 是最重的。

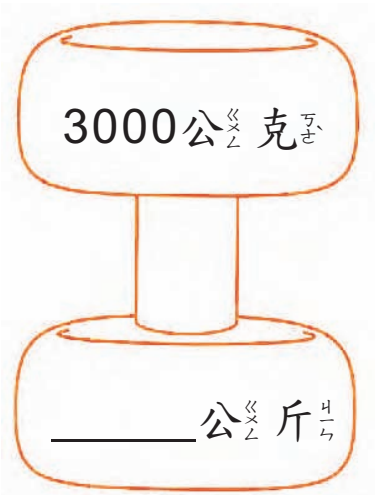
6 禮物 \_\_\_\_\_ 是最輕的。

2 連<sub>カ</sub>連<sub>カ</sub>看<sub>ク</sub>。

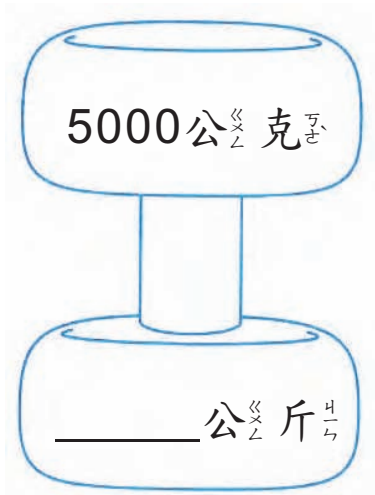


3 用<sub>レ</sub>公<sub>ク</sub>斤<sub>斤</sub>單<sub>タ</sub>位<sub>タ</sub>寫<sub>シ</sub>出<sub>ス</sub>答<sub>コ</sub>案<sub>ア</sub>。

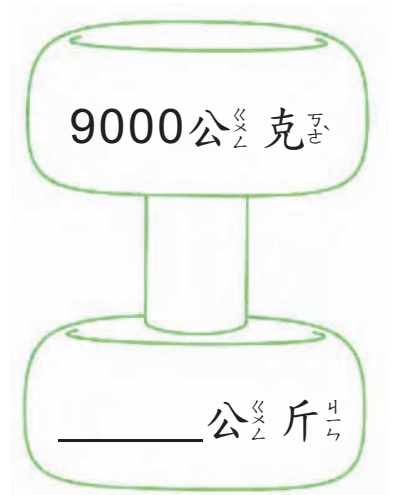
1



2



3



4 用公克單位寫出答案。

1

$$1\text{公斤}35\text{公克} = \underline{\hspace{2cm}}\text{公克}$$

2

$$2\text{公斤}6\text{公克} = \underline{\hspace{2cm}}\text{公克}$$

3

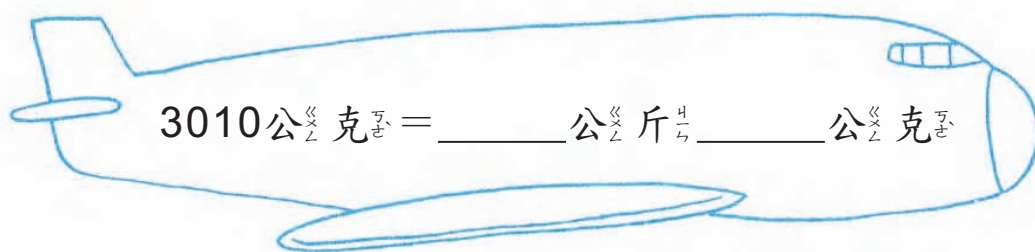
$$3\text{公斤}700\text{公克} = \underline{\hspace{2cm}}\text{公克}$$

4

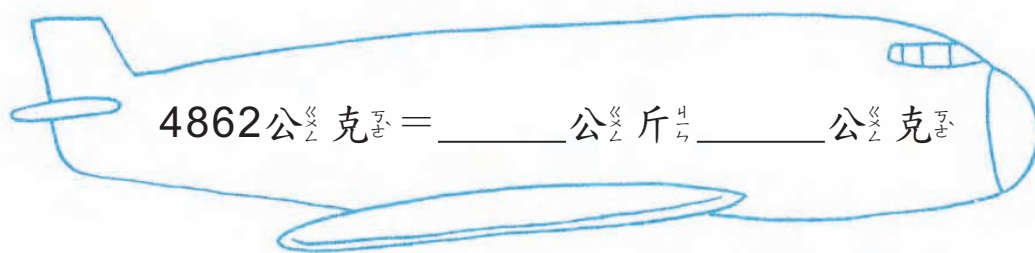
$$7\text{公斤}10\text{公克} = \underline{\hspace{2cm}}\text{公克}$$

5 用公斤和公克單位寫出答案。

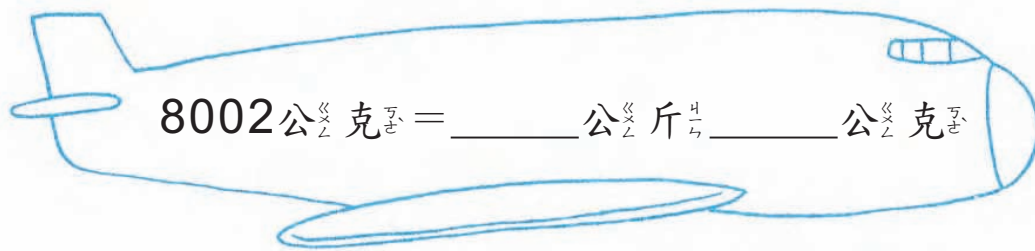
1



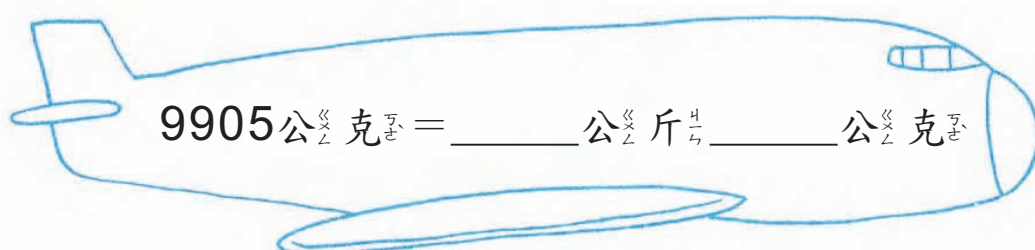
2




3



4



 6 先算公<sub>斤</sub>再算公<sub>克</sub>，做做看。

① 3公<sub>斤</sub>150公<sub>克</sub> + 2公<sub>斤</sub>300公<sub>克</sub> = \_\_\_\_\_公<sub>斤</sub>\_\_\_\_\_公<sub>克</sub>

3公<sub>斤</sub>150公<sub>克</sub>  $\xrightarrow{+2公<sub>斤</sub>}$  \_\_\_\_\_公<sub>斤</sub>150公<sub>克</sub>  $\xrightarrow{+300公<sub>克</sub>}$  \_\_\_\_\_公<sub>斤</sub>\_\_\_\_\_公<sub>克</sub>

② 3公<sub>斤</sub>280公<sub>克</sub> + 1公<sub>斤</sub>470公<sub>克</sub> = \_\_\_\_\_公<sub>斤</sub>\_\_\_\_\_公<sub>克</sub>


3公<sub>斤</sub>280公<sub>克</sub>  $\xrightarrow{+1公<sub>斤</sub>}$  \_\_\_\_\_公<sub>斤</sub>280公<sub>克</sub>  $\xrightarrow{+470公<sub>克</sub>}$  \_\_\_\_\_公<sub>斤</sub>\_\_\_\_\_公<sub>克</sub>

③ 4公<sub>斤</sub>680公<sub>克</sub> - 1公<sub>斤</sub>375公<sub>克</sub> = \_\_\_\_\_公<sub>斤</sub>\_\_\_\_\_公<sub>克</sub>

4公<sub>斤</sub>680公<sub>克</sub>  $\xrightarrow{-1公<sub>斤</sub>}$  \_\_\_\_\_公<sub>斤</sub>680公<sub>克</sub>  $\xrightarrow{-375公<sub>克</sub>}$  \_\_\_\_\_公<sub>斤</sub>\_\_\_\_\_公<sub>克</sub>

④ 3公<sub>斤</sub>535公<sub>克</sub> - 2公<sub>斤</sub>410公<sub>克</sub> = \_\_\_\_\_公<sub>斤</sub>\_\_\_\_\_公<sub>克</sub>

3公<sub>斤</sub>535公<sub>克</sub>  $\xrightarrow{-2公<sub>斤</sub>}$  \_\_\_\_\_公<sub>斤</sub>535公<sub>克</sub>  $\xrightarrow{-410公<sub>克</sub>}$  \_\_\_\_\_公<sub>斤</sub>\_\_\_\_\_公<sub>克</sub>

 7 加加看。

① 2公<sub>斤</sub>45公<sub>克</sub> + 1公<sub>斤</sub>26公<sub>克</sub> = \_\_\_\_\_公<sub>斤</sub>\_\_\_\_\_公<sub>克</sub>

② 3公<sub>斤</sub>167公<sub>克</sub> + 4公<sub>斤</sub>200公<sub>克</sub> = \_\_\_\_\_公<sub>斤</sub>\_\_\_\_\_公<sub>克</sub>

③ 4公<sub>斤</sub>68公<sub>克</sub> + 2公<sub>斤</sub>265公<sub>克</sub> = \_\_\_\_\_公<sub>斤</sub>\_\_\_\_\_公<sub>克</sub>

④ 5公<sub>斤</sub>400公<sub>克</sub> + 3公<sub>斤</sub>150公<sub>克</sub> = \_\_\_\_\_公<sub>斤</sub>\_\_\_\_\_公<sub>克</sub>

 8 減減看。

① 2公<sub>斤</sub>329公<sub>克</sub> - 1公<sub>斤</sub>104公<sub>克</sub> = \_\_\_\_\_公<sub>斤</sub>\_\_\_\_\_公<sub>克</sub>

② 6公<sub>斤</sub>400公<sub>克</sub> - 2公<sub>斤</sub>15公<sub>克</sub> = \_\_\_\_\_公<sub>斤</sub>\_\_\_\_\_公<sub>克</sub>

③ 4公<sub>斤</sub>86公<sub>克</sub> - 3公<sub>斤</sub>562公<sub>克</sub> = \_\_\_\_\_公<sub>斤</sub>\_\_\_\_\_公<sub>克</sub>

④ 9公<sub>斤</sub>755公<sub>克</sub> - 5公<sub>斤</sub>815公<sub>克</sub> = \_\_\_\_\_公<sub>斤</sub>\_\_\_\_\_公<sub>克</sub>

9 用直式加加看。

$$\begin{array}{r} 1 \text{ 公} \frac{\text{公}}{\text{公}} \text{斤} \frac{\text{斤}}{\text{斤}} \quad 365 \text{ 公} \frac{\text{公}}{\text{公}} \text{克} \frac{\text{克}}{\text{克}} \\ + 2 \quad 95 \\ \hline \end{array}$$

答： \_\_\_\_\_ 公  $\frac{\text{公}}{\text{公}}$  斤  $\frac{\text{斤}}{\text{斤}}$   
\_\_\_\_\_ 公  $\frac{\text{公}}{\text{公}}$  克  $\frac{\text{克}}{\text{克}}$

$$\begin{array}{r} 6 \text{ 公} \frac{\text{公}}{\text{公}} \text{斤} \frac{\text{斤}}{\text{斤}} \quad 392 \text{ 公} \frac{\text{公}}{\text{公}} \text{克} \frac{\text{克}}{\text{克}} \\ + 2 \quad 531 \\ \hline \end{array}$$

答： \_\_\_\_\_ 公  $\frac{\text{公}}{\text{公}}$  斤  $\frac{\text{斤}}{\text{斤}}$   
\_\_\_\_\_ 公  $\frac{\text{公}}{\text{公}}$  克  $\frac{\text{克}}{\text{克}}$

$$\begin{array}{r} 3 \text{ 公} \frac{\text{公}}{\text{公}} \text{斤} \frac{\text{斤}}{\text{斤}} \quad 205 \text{ 公} \frac{\text{公}}{\text{公}} \text{克} \frac{\text{克}}{\text{克}} \\ + 1 \quad 340 \\ \hline \end{array}$$

答： \_\_\_\_\_ 公  $\frac{\text{公}}{\text{公}}$  斤  $\frac{\text{斤}}{\text{斤}}$   
\_\_\_\_\_ 公  $\frac{\text{公}}{\text{公}}$  克  $\frac{\text{克}}{\text{克}}$

$$\begin{array}{r} 2 \text{ 公} \frac{\text{公}}{\text{公}} \text{斤} \frac{\text{斤}}{\text{斤}} \quad 470 \text{ 公} \frac{\text{公}}{\text{公}} \text{克} \frac{\text{克}}{\text{克}} \\ + 4 \quad 250 \\ \hline \end{array}$$

答： \_\_\_\_\_ 公  $\frac{\text{公}}{\text{公}}$  斤  $\frac{\text{斤}}{\text{斤}}$   
\_\_\_\_\_ 公  $\frac{\text{公}}{\text{公}}$  克  $\frac{\text{克}}{\text{克}}$

$$\begin{array}{r} 5 \text{ 公} \frac{\text{公}}{\text{公}} \text{斤} \frac{\text{斤}}{\text{斤}} \quad 704 \text{ 公} \frac{\text{公}}{\text{公}} \text{克} \frac{\text{克}}{\text{克}} \\ + 4 \quad 198 \\ \hline \end{array}$$

答： \_\_\_\_\_ 公  $\frac{\text{公}}{\text{公}}$  斤  $\frac{\text{斤}}{\text{斤}}$   
\_\_\_\_\_ 公  $\frac{\text{公}}{\text{公}}$  克  $\frac{\text{克}}{\text{克}}$

$$\begin{array}{r} 5 \text{ 公} \frac{\text{公}}{\text{公}} \text{斤} \frac{\text{斤}}{\text{斤}} \quad 6 \text{ 公} \frac{\text{公}}{\text{公}} \text{克} \frac{\text{克}}{\text{克}} \\ + 2 \quad 208 \\ \hline \end{array}$$

答： \_\_\_\_\_ 公  $\frac{\text{公}}{\text{公}}$  斤  $\frac{\text{斤}}{\text{斤}}$   
\_\_\_\_\_ 公  $\frac{\text{公}}{\text{公}}$  克  $\frac{\text{克}}{\text{克}}$

10 用直式減減看。

$$\begin{array}{r} 4 \text{ 公} \frac{\text{公}}{\text{公}} \text{斤} \frac{\text{斤}}{\text{斤}} \quad 400 \text{ 公} \frac{\text{公}}{\text{公}} \text{克} \frac{\text{克}}{\text{克}} \\ - 2 \quad 170 \\ \hline \end{array}$$

答： \_\_\_\_\_ 公  $\frac{\text{公}}{\text{公}}$  斤  $\frac{\text{斤}}{\text{斤}}$   
\_\_\_\_\_ 公  $\frac{\text{公}}{\text{公}}$  克  $\frac{\text{克}}{\text{克}}$

$$\begin{array}{r} 5 \text{ 公} \frac{\text{公}}{\text{公}} \text{斤} \frac{\text{斤}}{\text{斤}} \quad 200 \text{ 公} \frac{\text{公}}{\text{公}} \text{克} \frac{\text{克}}{\text{克}} \\ - 3 \quad 45 \\ \hline \end{array}$$

答： \_\_\_\_\_ 公  $\frac{\text{公}}{\text{公}}$  斤  $\frac{\text{斤}}{\text{斤}}$   
\_\_\_\_\_ 公  $\frac{\text{公}}{\text{公}}$  克  $\frac{\text{克}}{\text{克}}$

$$\begin{array}{r} 6 \text{ 公} \frac{\text{公}}{\text{公}} \text{斤} \frac{\text{斤}}{\text{斤}} \quad 510 \text{ 公} \frac{\text{公}}{\text{公}} \text{克} \frac{\text{克}}{\text{克}} \\ - 4 \quad 130 \\ \hline \end{array}$$

答： \_\_\_\_\_ 公  $\frac{\text{公}}{\text{公}}$  斤  $\frac{\text{斤}}{\text{斤}}$   
\_\_\_\_\_ 公  $\frac{\text{公}}{\text{公}}$  克  $\frac{\text{克}}{\text{克}}$

4

	公 <sub>斤</sub> 斤	公 <sub>克</sub> 克
	8	825
—	1	598

答<sub>答</sub>： \_\_\_\_\_ 公<sub>斤</sub>斤  
 \_\_\_\_\_ 公<sub>克</sub>克

5


	公 <sub>斤</sub> 斤	公 <sub>克</sub> 克
	9	841
—	5	682


答<sub>答</sub>： \_\_\_\_\_ 公<sub>斤</sub>斤  
 \_\_\_\_\_ 公<sub>克</sub>克


6

	公 <sub>斤</sub> 斤	公 <sub>克</sub> 克
	1	800
—		70


答<sub>答</sub>： \_\_\_\_\_ 公<sub>斤</sub>斤  
 \_\_\_\_\_ 公<sub>克</sub>克

 11 小<sub>可</sub>可<sub>可</sub>將<sub>無</sub>一<sub>個</sub>木<sub>瓜</sub>瓜<sub>放</sub>放<sub>進</sub>籃<sub>子</sub>子<sub>裡</sub>裡<sub>加</sub>，木<sub>瓜</sub>瓜<sub>的</sub>重<sub>量</sub>量<sub>是</sub>是<sub>一</sub>1公<sub>斤</sub>斤<sub>80</sub>80公<sub>克</sub>克<sub>，</sub>籃<sub>子</sub>子<sub>的</sub>重<sub>量</sub>量<sub>是</sub>是<sub>一</sub>870公<sub>克</sub>克<sub>，</sub>請<sub>問</sub>問<sub>木</sub>木<sub>瓜</sub>瓜<sub>加</sub>加<sub>上</sub>上<sub>籃</sub>籃<sub>子</sub>子<sub>總</sub>總<sub>共</sub>共<sub>有</sub>有<sub>多</sub>多<sub>重</sub>重<sub>？</sub>？

 12 小<sub>可</sub>可<sub>的</sub>書<sub>包</sub>包<sub>重</sub>重<sub>3</sub>3公<sub>斤</sub>斤<sub>10</sub>10公<sub>克</sub>克<sub>，</sub>她<sub>的</sub>哥<sub>哥</sub>哥<sub>的</sub>書<sub>包</sub>包<sub>重</sub>重<sub>5</sub>5公<sub>斤</sub>斤<sub>160</sub>160公<sub>克</sub>克<sub>，</sub>請<sub>問</sub>問<sub>兩</sub>兩<sub>人</sub>人<sub>的</sub>書<sub>包</sub>包<sub>的</sub>重<sub>量</sub>量<sub>相</sub>相<sub>差</sub>差<sub>多</sub>多<sub>少</sub>少<sub>？</sub>？

 13 王太太買了2公<sub>斤</sub>300公<sub>克</sub>的蔬菜和4公<sub>斤</sub>550公<sub>克</sub>的絞肉，請問王太太一共買了多重<sub>的</sub>食物？

 14 小威的體重有65公<sub>斤</sub>300公<sub>克</sub>，他比東東重1公<sub>斤</sub>400公<sub>克</sub>，請問東東的體重是多<sub>少</sub>？

 15 一個麵粉桶和3包麵粉共重7公<sub>斤</sub>250公<sub>克</sub>，且每包麵粉重2公<sub>斤</sub>。

(1) 問3包麵粉總共有多重？

(2) 問一個麵粉桶有多重？