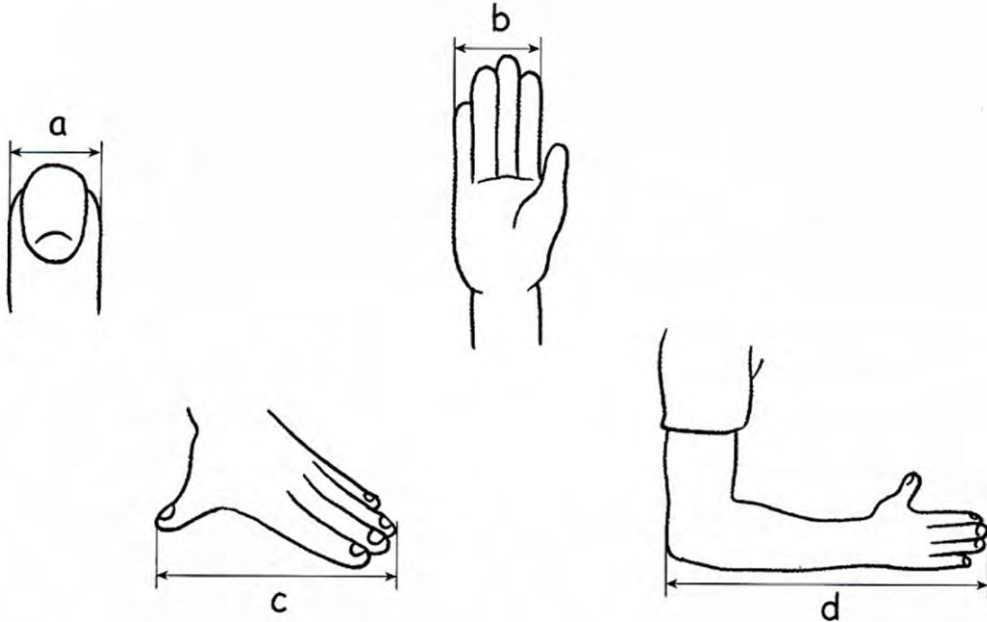




1 先估計你的手有幾公分長，再實際測量看看。



	a	b	c	d
估計的長度				
測量的長度				


2 圈圈看看。

1 長頸鹿的高度大約是 (2公分, 10公分, 7公尺)。

2 姊姊的身高大約是 (10公分, 1公尺, 5公尺)。

3 檔案夾的長度大約是 (2公分, 30公分, 1公尺)。

4 電視的寬度大約是 (60公分, 10公分, 20公尺)。


 5 有幾公分？填填看。

1 $30 \text{ 毫米} = \square \text{ 公分}$

2 $70 \text{ 毫米} = \square \text{ 公分}$

3 $80 \text{ 毫米} = \square \text{ 公分}$

4 $100 \text{ 毫米} = \square \text{ 公分}$


 6 有幾毫米？填填看。

1 $1 \text{ 公分} 1 \text{ 毫米} = \square \text{ 毫米}$

2 $7 \text{ 公分} 7 \text{ 毫米} = \square \text{ 毫米}$

3 $5 \text{ 公分} 5 \text{ 毫米} = \square \text{ 毫米}$

4 $3 \text{ 公分} 2 \text{ 毫米} = \square \text{ 毫米}$

 7 填填看。

1 $42 \text{ 毫米} = \square \text{ 公分} \square \text{ 毫米}$

2 $28 \text{ 毫米} = \square \text{ 公分} \square \text{ 毫米}$

3 $95 \text{ 毫米} = \square \text{ 公分} \square \text{ 毫米}$


4 $103 \text{ 毫米} = \square \text{ 公分} \square \text{ 毫米}$



8 誰跳的最遠？填填看。

1


1 號



3 公分 5 毫米

2

2 號



29 毫米

3


3 號



2 公分 8 毫米

4

4 號



31 毫米

號跳的最遠。



9 寫出算式做做看。

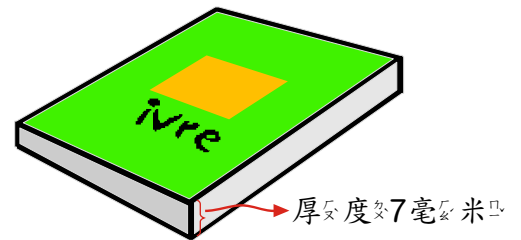
1 昨天小蝌蚪有 17 毫米長，今天小蝌蚪比昨天長了 11 毫米，今天小蝌蚪有多長？



- ② 昨天綠豆芽高47毫米，今天量到綠豆芽高55毫米，綠豆芽一天長高幾毫米？



- ③ 一本作業簿的厚度是7毫米，10本的厚度是多少公分？



- ④ 一枝吸管6毫米，把5枝藍吸管和4枝紅吸管並排貼在圖畫紙上，並排的寬度是多少？

