
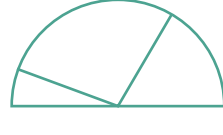
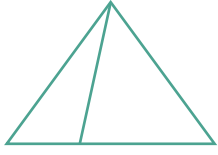





1 下面那一些圖形是被平分的？打✓。

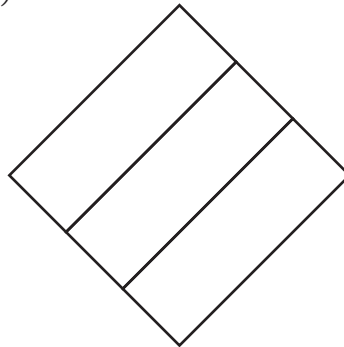


2 將下面每個圖形的 $\frac{2}{3}$ 塗上顏色。

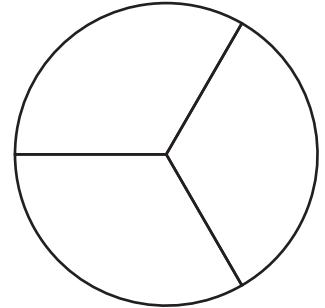
(a)



(b)

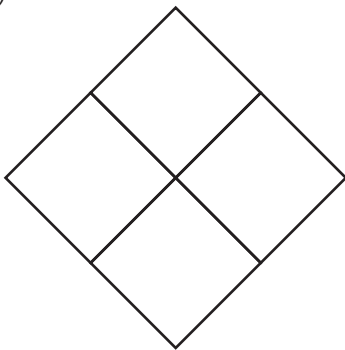


(c)

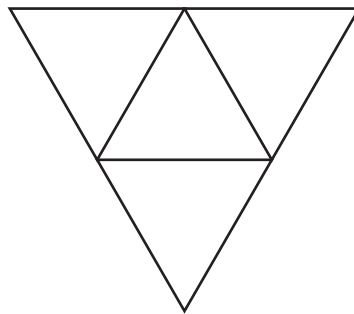


3 將下面每個圖形的 $\frac{3}{4}$ 塗上顏色。

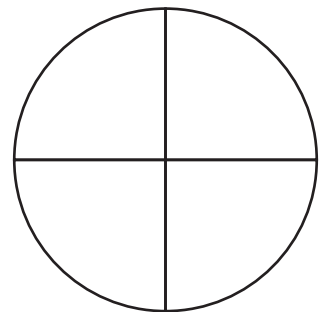
(a)



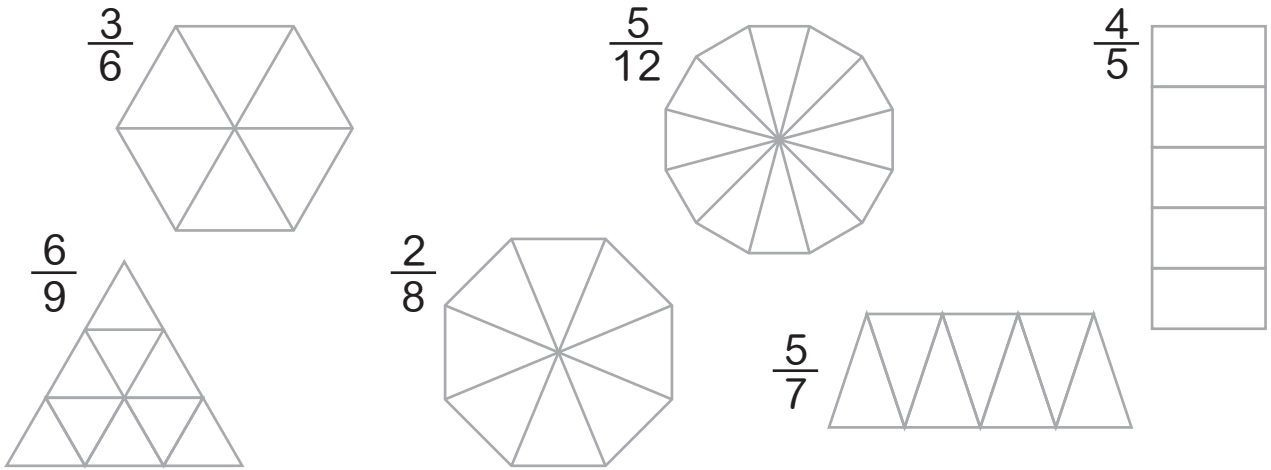
(b)



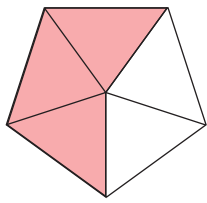
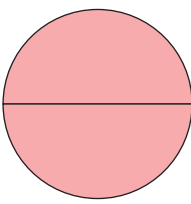
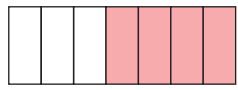
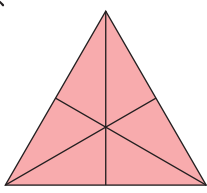
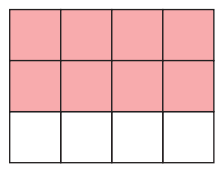
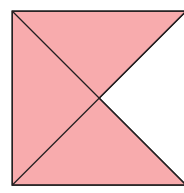
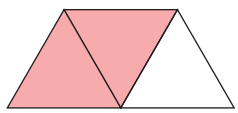
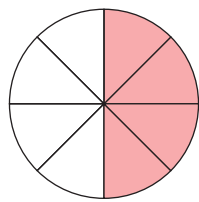
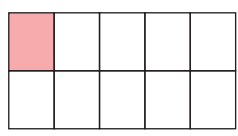
(c)



4 將下面每個圖形依照給定的分數塗上顏色。



5 寫出下面每一個圖形的塗色部分所代表的分數。

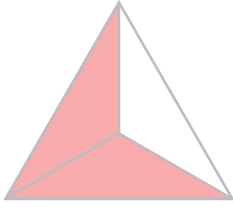
子 	括 	分 
數 	分 	母 
包 	分 	和 

將下面答案對應的國字寫出來。

$\frac{8}{12}$	$\frac{6}{6}$	$\frac{2}{3}$	$\frac{2}{2}$	$\frac{4}{8}$	$\frac{3}{5}$	$\frac{1}{10}$	$\frac{4}{7}$	$\frac{3}{4}$

6 填填看。

1



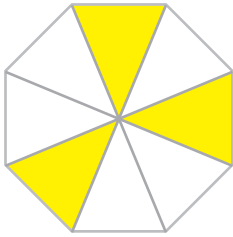
$\frac{\square}{\square}$ 和 $\frac{\square}{\square}$ 合起來等於 $\frac{2}{3}$

2



$\frac{\square}{\square}$ 和 $\frac{\square}{\square}$ 和 $\frac{\square}{\square}$ 合起來等於 $\frac{3}{4}$

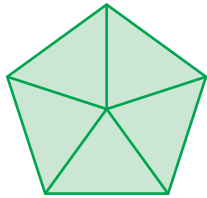
3



$\frac{\square}{\square}$ 和 $\frac{\square}{\square}$ 和 $\frac{\square}{\square}$ 合起來等於 $\frac{3}{8}$

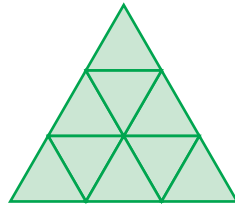
7 填填看。

1



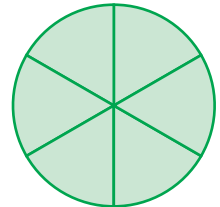
$\frac{\square}{5}$ 和 1 一樣大

2



$\frac{\square}{9}$ 和 1 一樣大

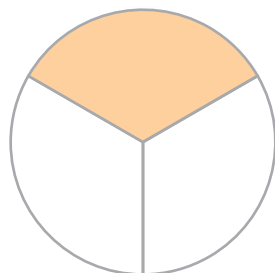
3




$\frac{\square}{\square}$ 和 1 一樣大

8 填填看。

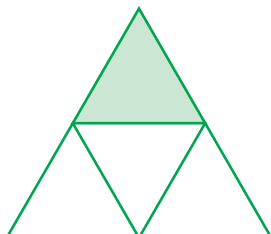
1 個圓平分成 3 份，1 份是 _____ 個圓。



2 1 個長方形平分成 9 份，4 份是 _____ 個長方形。



3 1 個三角形平分成 4 份，1 份是 _____ 個三角形。



4 一盒巧克力有 5 顆，
3 顆是 _____ 盒巧克力。



5 一盒湯圓有 10 顆，
5 顆是 _____ 盒湯圓。



6 一箱果汁有 6 瓶，
2 瓶是 _____ 箱果汁。











7 一條果凍有 3 盒，
吃掉幾分之幾條果凍？



8 一盤奶茶有 4 杯，
喝掉幾分之幾盤奶茶？



9 下面那兩個分數合起來是 1？連連看。




10 填填看。

① $\frac{1}{4}$ 和那一個分數合起來和 1 一樣大？

② 多少個 $\frac{1}{4}$ 合起來是 1？

11 按照由小到大的順序排出下列分數。



--	--	--

最小

 12 回答下面的問題。

① 一條土司平分成 8 份，小強吃了 $\frac{2}{8}$ 條，小新吃了 $\frac{3}{8}$ 條，誰吃的比較多？ _____

② 一條土司平分成 8 份，小強吃了 2 份，小新吃了 3 份，還剩下幾分之幾條土司？ _____

③ 一瓶鮮奶平分成 5 杯，小捷喝了 1 杯，小予喝了 $\frac{2}{5}$ 瓶，誰喝得比較多？ _____

④ 一籠包子有 10 粒，小真吃了 5 粒，小琪吃了 $\frac{4}{10}$ 籠，誰吃的比較多？ _____