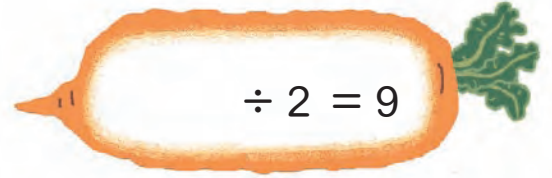



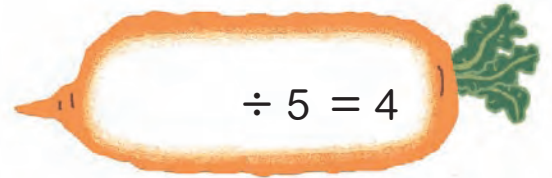



1 填 填 看。

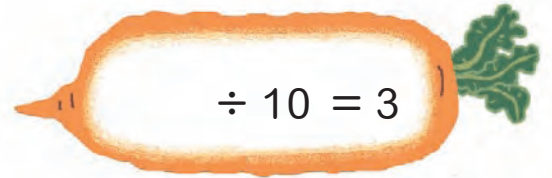

1



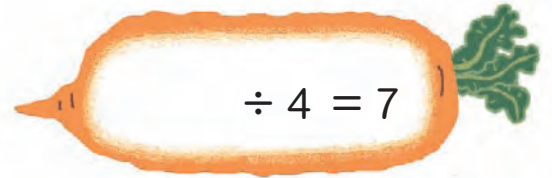

2



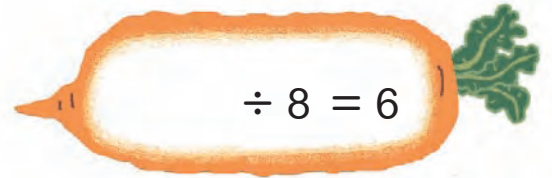

3



4



5



2 填填看。

1

$$25 \div 5 = \underline{\quad}$$

2

$$20 \div 4 = \underline{\quad}$$

3

$$56 \div 8 = \underline{\quad}$$

4

$$40 \div 5 = \underline{\quad}$$

5

$$8 \div 2 = \underline{\quad}$$

6

$$36 \div 4 = \underline{\quad}$$

7

$$64 \div 8 = \underline{\quad}$$

8

$$14 \div 2 = \underline{\quad}$$

9

$$30 \div 10 = \underline{\quad}$$

10

$$90 \div 10 = \underline{\quad}$$

3 填填看。

1 依照下圖，寫出除法算式。



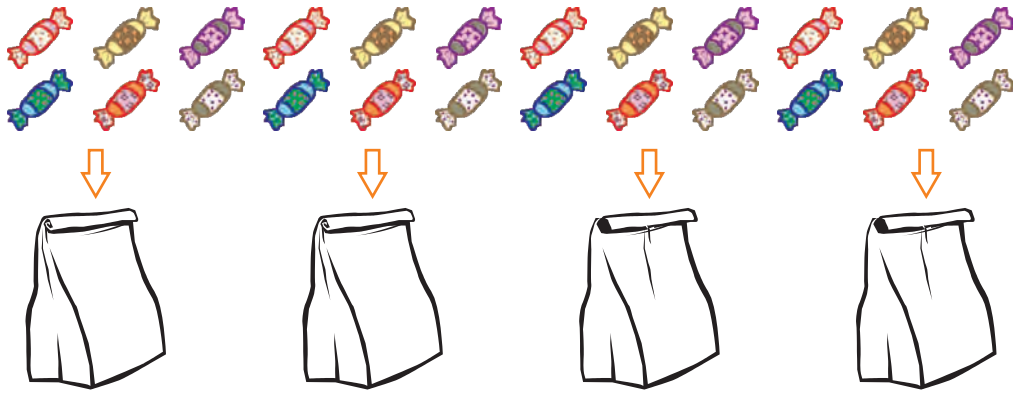
① 32 枝蠟燭平分插到 4 個蛋糕上，每個蛋糕插幾枝蠟燭？

$$32 \div \underline{\quad} = \underline{\quad}$$

② 8 枝蠟燭插在一個蛋糕上，32 枝蠟燭需要幾個蛋糕？

$$32 \div \underline{\quad} = \underline{\quad}$$

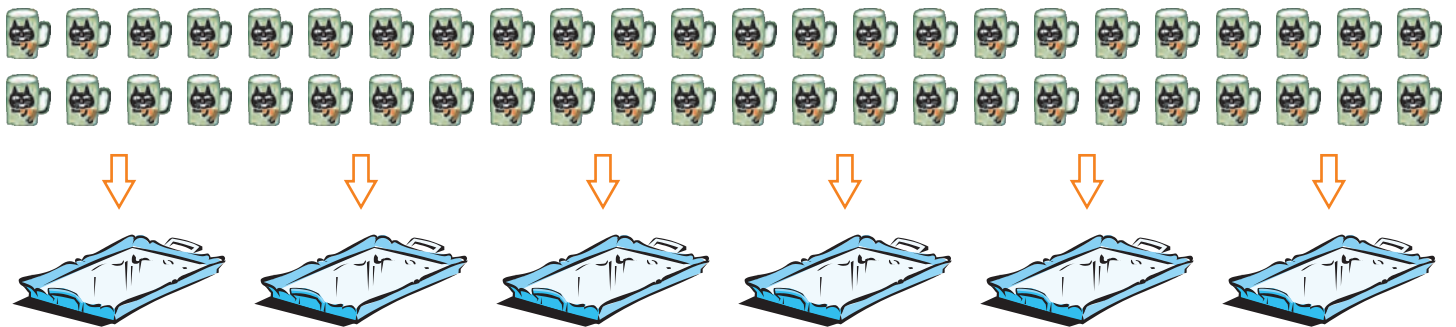
2 24 顆糖果，平分成 4 袋，每袋有幾顆？



$$24 \div 4 = \underline{\quad}$$

每袋有 糖果。

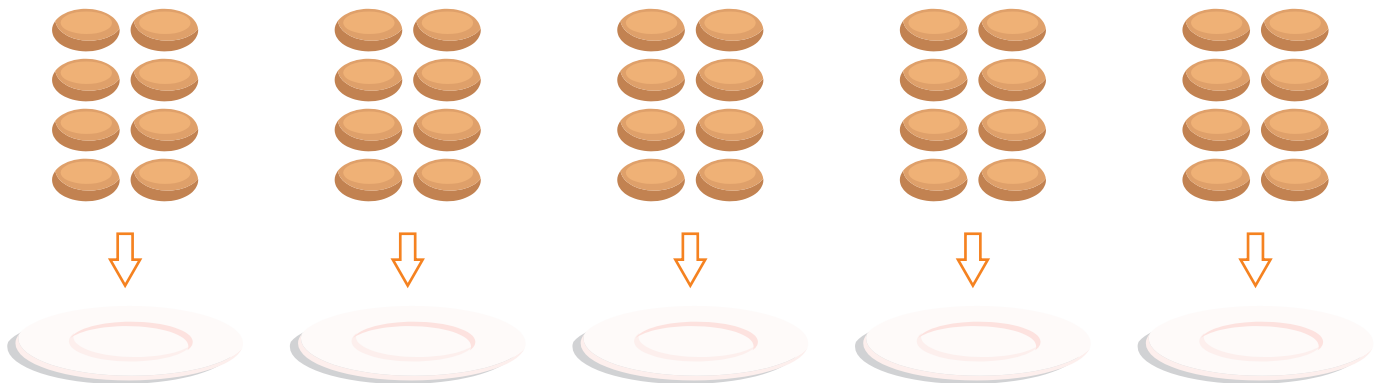
3 48 個杯子，平分成 6 個托盤上，每個托盤有幾個杯子？



$$\underline{\quad} \div 6 = \underline{\quad}$$


每個托盤有 個杯子。

4 40 片餅乾，平分成 5 盤，每盤有幾片？



$$40 \div 5 = \underline{\quad}$$

每盤有 片餅乾。

 4 寫出算式，做做看。

1 小可將 72 公分的繩子，8 公分剪一段，可以剪幾段？

算式：

答：

2 90 公分的紙條，平分成 9 段，每段長幾公分？

算式：

答：

3 雜貨店有 45 公斤的麵粉，每 5 公斤裝一個袋子，需要幾個袋子？

算式：

答：

4 小威的爸爸和叔叔總共給他 82 元，當零用錢，如果爸爸和叔叔給的錢一樣多，問每人給他多少元？畫圖做做看。

答：