
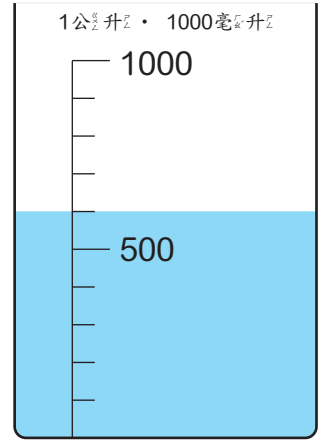





1 量 杯 裡 有 多 少 水 ？ 連 連 看 。



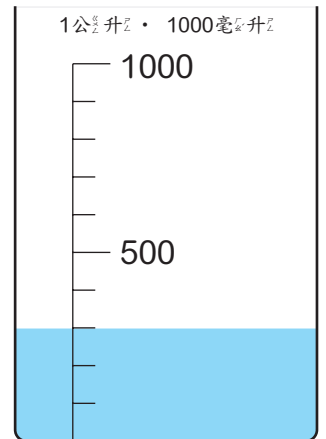
900 毫 升




300 毫 升



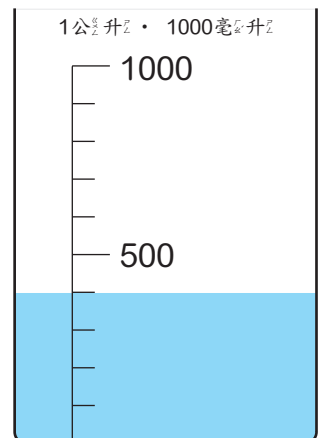
1 公 升



100 毫 升




400 毫 升



600 毫 升


2 量杯裡有多少水？填填看看。

1




有 \_\_\_\_\_ 毫升。

2




有 \_\_\_\_\_ 毫升。

3



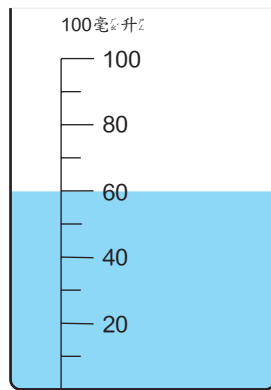
有 \_\_\_\_\_ 毫升。

4




有 \_\_\_\_\_ 毫升。

5



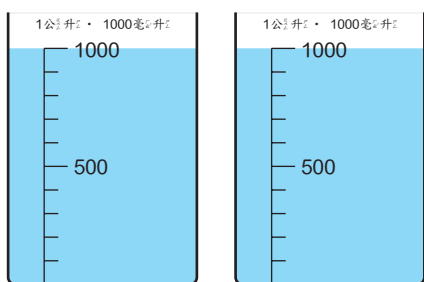
有 \_\_\_\_\_ 毫升。

6



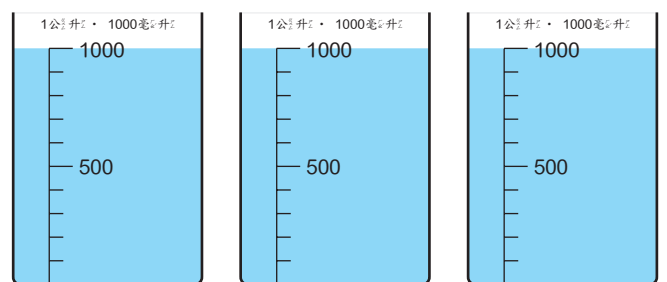
有 \_\_\_\_\_ 毫升。

7



有 \_\_\_\_\_ 毫升，也可以  
記為 \_\_\_\_\_ 公升。



8



有 \_\_\_\_\_ 毫升，也可以  
記為 \_\_\_\_\_ 公升。



3 下面容器的容量是多少？

1







有      公升      毫升，也就 是      毫升。

2



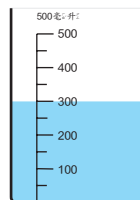




有      公升      毫升，也就 是      毫升。

3




有      公升      毫升，也就 是      毫升。

4



有      公升      毫升，也就 是      毫升。

 4 寫出算式做做看。

① 容器裡有 650 毫升的油，再加入 300 毫升的水，現在容器內總共有多少容量的油和水？

② 保溫杯的容量是 500 毫升，紙杯的容量是 150 毫升，那一個容器裝的水比較多，多幾毫升？

③ 一瓶 650 毫升的洗碗精，媽媽用了幾天後，還剩下 450 毫升，媽媽用了多少毫升的洗碗精？

④ 一個瓶子裝 3 公升醬油，小吃店買了 8 瓶，一共有多少公升？

5 泡咖啡要用400毫升的水，泡茶要用500毫升的水，問泡咖啡和茶總共要用多少容量的水？

6 將680毫升的水倒入一個空的容器裡，結果有151毫升的水滿出來，問容器的容量是多少？

7 一桶水有5公升，澆花用去6桶水，一共用了多少公升的水？

8 圓圓買了6瓶柳橙汁，每一瓶容量是2公升，慶生會喝掉了8公升，問最後還剩下多少果汁？