



三
上

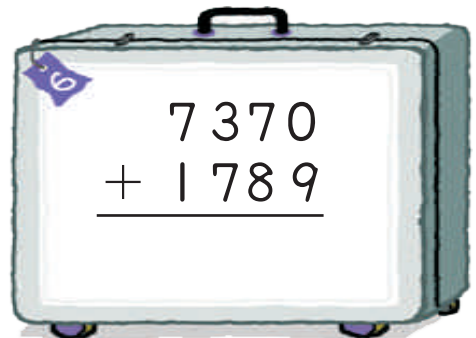
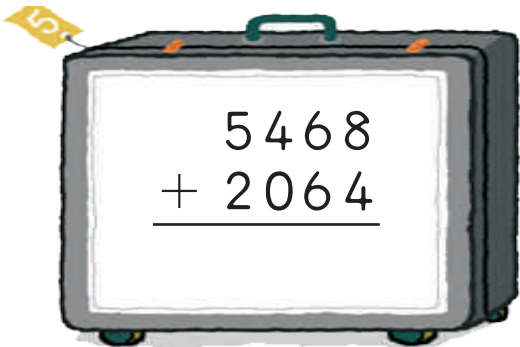

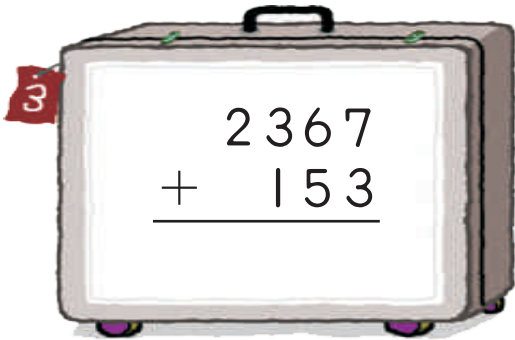


評量示例
第 04 回

第 4 章 10000 以內的加減

三年 班 號
姓名：



1 加加看。



2 求出下列各題的和。

① 1254 和 325



② 2873 和 258



3 4625 和 3786



4 5812 和 2289




5 6038 和 3494



6 7407 和 1256




 3 加 法 心 算。




1 $12 + 40$ ↓ <input type="text"/>	2 $34 + 30$ ↓ <input type="text"/>	3 $26 + 52$ ↓ <input type="text"/>
4 $14 + 57$ ↓ <input type="text"/>	5 $44 + 49$ ↓ <input type="text"/>	6 $36 + 48$ ↓ <input type="text"/>

4 張媽媽從電器行買了兩樣東西回家，她一共花了多少錢？

電氣用品	價錢
電扇	1495
吹風機	1285




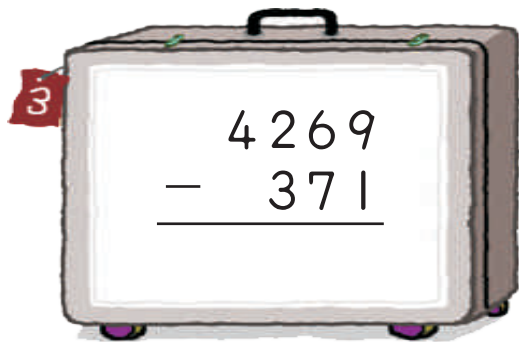
5 王先生分別付了1790元和1299元買了一支刮鬍刀和電話機。現在他剩下635元，王先生原來有多少錢？



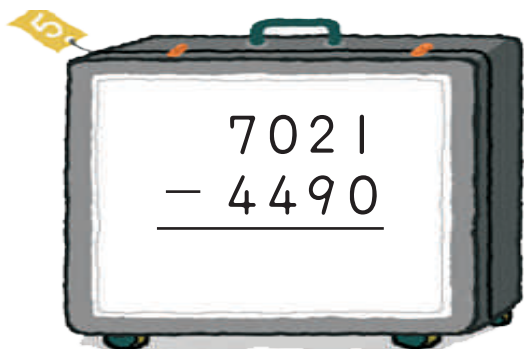
6 減_分減_分看_分。



$$\begin{array}{r} 3265 \\ - \quad 81 \\ \hline \end{array}$$


$$\begin{array}{r} 2460 \\ - \quad 42 \\ \hline \end{array}$$


$$\begin{array}{r} 4269 \\ - \quad 371 \\ \hline \end{array}$$



$$\begin{array}{r} 6312 \\ - \quad 750 \\ \hline \end{array}$$


$$\begin{array}{r} 7021 \\ - \quad 4490 \\ \hline \end{array}$$



$$\begin{array}{r} 9032 \\ - \quad 6060 \\ \hline \end{array}$$

7 求_分出_分下_分列_分各_分題_分的_分差_分。


① 1988 和_分 893




② 3020 和_分 213



3 5002 和 2831



4 6342 和 3157



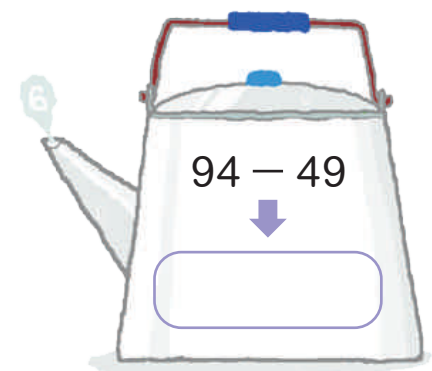

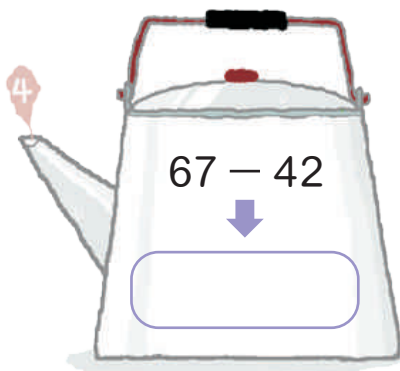
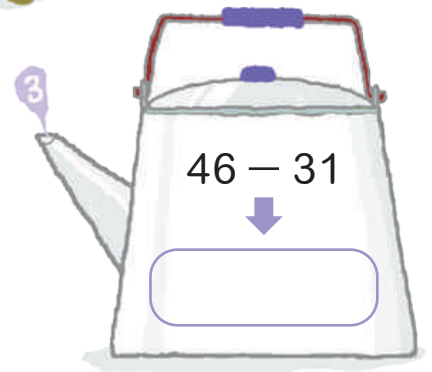
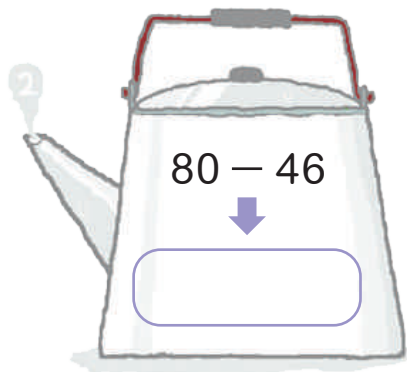
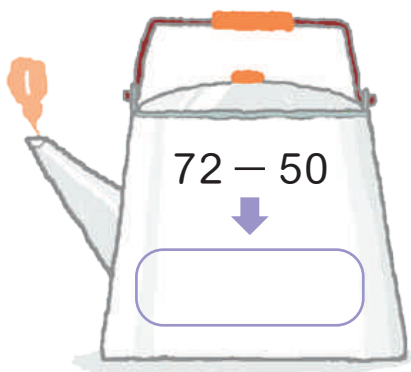
5 8502 和 4210



6 9075 和 6254



8 減法心算。




9 2個數的差是1653，比較大的數是2632，求比較小的數是多少？



10 楊先生有5000元，他買了一件外套和一把傘。他剩下多少錢？

物品名稱	價錢
外套	1299
傘	799



11 填填看看。

1 $63 + 47 + 55$
 $= \underline{\quad\quad\quad} + 55$
 $= \underline{\quad\quad\quad}$

2 $77 + 32 + 41$
 $= \underline{\quad\quad\quad} + \underline{\quad\quad\quad}$
 $= \underline{\quad\quad\quad}$

3 $173 - 40 - 53$
 $= \underline{\quad\quad\quad} - 53$
 $= \underline{\quad\quad\quad}$

4 $99 - 33 - 36$
 $= \underline{\quad\quad\quad} - \underline{\quad\quad\quad}$
 $= \underline{\quad\quad\quad}$

5 $189 - 154 + 35$
 $= \underline{\quad\quad\quad} + 35$
 $= \underline{\quad\quad\quad}$

6 $484 - 242 + 58$
 $= \underline{\quad\quad\quad} + \underline{\quad\quad\quad}$
 $= \underline{\quad\quad\quad}$

7 $333 + 67 - 250$
 $= \underline{\quad\quad\quad} - 250$
 $= \underline{\quad\quad\quad}$

8 $747 + 63 - 110$
 $= \underline{\quad\quad\quad} - \underline{\quad\quad\quad}$
 $= \underline{\quad\quad\quad}$

12 寫成一個算式算看。

- 1 媽媽到市場買菜，她買右表所列的三樣東西，她一共花了多少元？

青菜	雞肉	米
59	211	160

- 2 一捆繩子長1000公分，拿來綁大箱子用去340公分，捆小箱子用去160公分，繩子還剩多少公分？



- 3 水果行上午進了紅蘋果360顆，青蘋果240顆，下午賣出去200顆，蘋果剩下多少顆？



- 4 王叔叔身上有4500元，到電器行買了一台電風扇花了1250元後，他又跑去郵局領了3000元，現在他有多少錢？

