




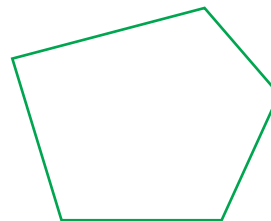
1 下面的圖形中，有幾個邊和角？填填看看。

1



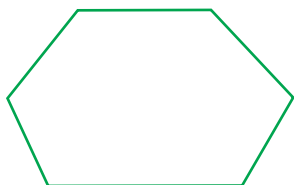
有 _____ 個邊和 _____ 個角。

2



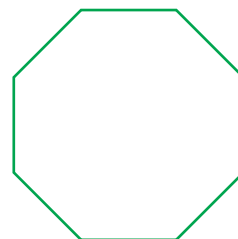
有 _____ 個邊和 _____ 個角。

3



有 _____ 個邊和 _____ 個角。

4



有 _____ 個邊和 _____ 個角。

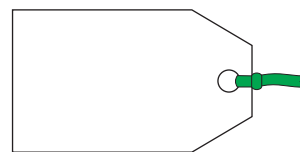
2 下面的物品中，有幾個角和頂點？填填看看。

1



_____ 個角和 _____ 個頂點。

2



_____ 個角和 _____ 個頂點。

3



_____ 個角和 _____ 個頂點。


4



_____ 個角和 _____ 個頂點。

3 下面圖形哪裡有直角？用 \perp 來標示，並填出正確的答案。

1



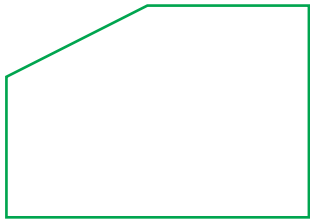
一共有 _____ 個直角。

2




一共有 _____ 個直角。

3



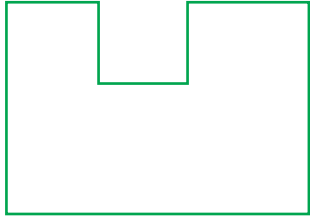
一共有 _____ 個直角。

4




一共有 _____ 個直角。

5



一共有 _____ 個直角。

6



一共有 _____ 個直角。

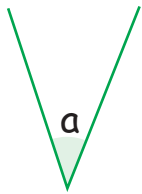
4 依照指示做做看。

1 畫出一個四邊形，其中有一個角是直角。

② 畫出一個四邊形，其中有二個角比直角大，另外二個角比直角小。

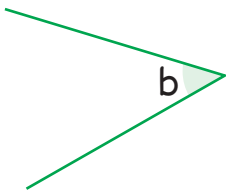
5 在空格中填入「大於」、「小於」或「等於」。

1



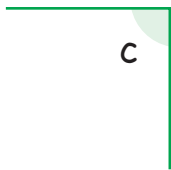
角 a _____ 直角。

2




角 b _____ 直角。

3



角 c _____ 直角。


4



角 d _____ 直角。

角 e _____ 直角。

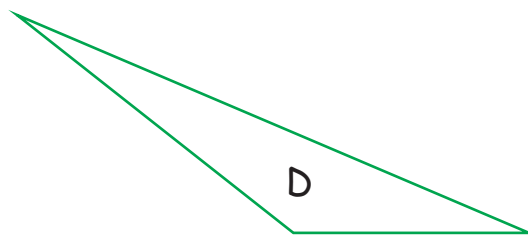
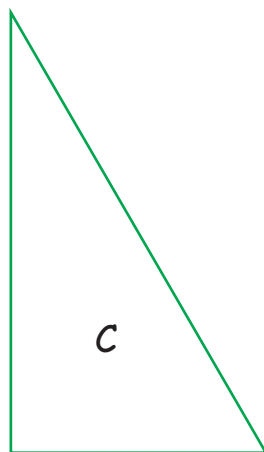

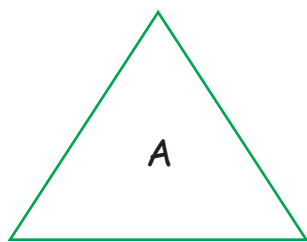
5



角 f _____ 直角。

角 g _____ 直角。

6 看圖回答下面的問題。




圖形	有幾個邊？	有幾個角？	有幾個直角？
A	3		
B		4	
C			
D			0
E			

7 依照指示做做看。

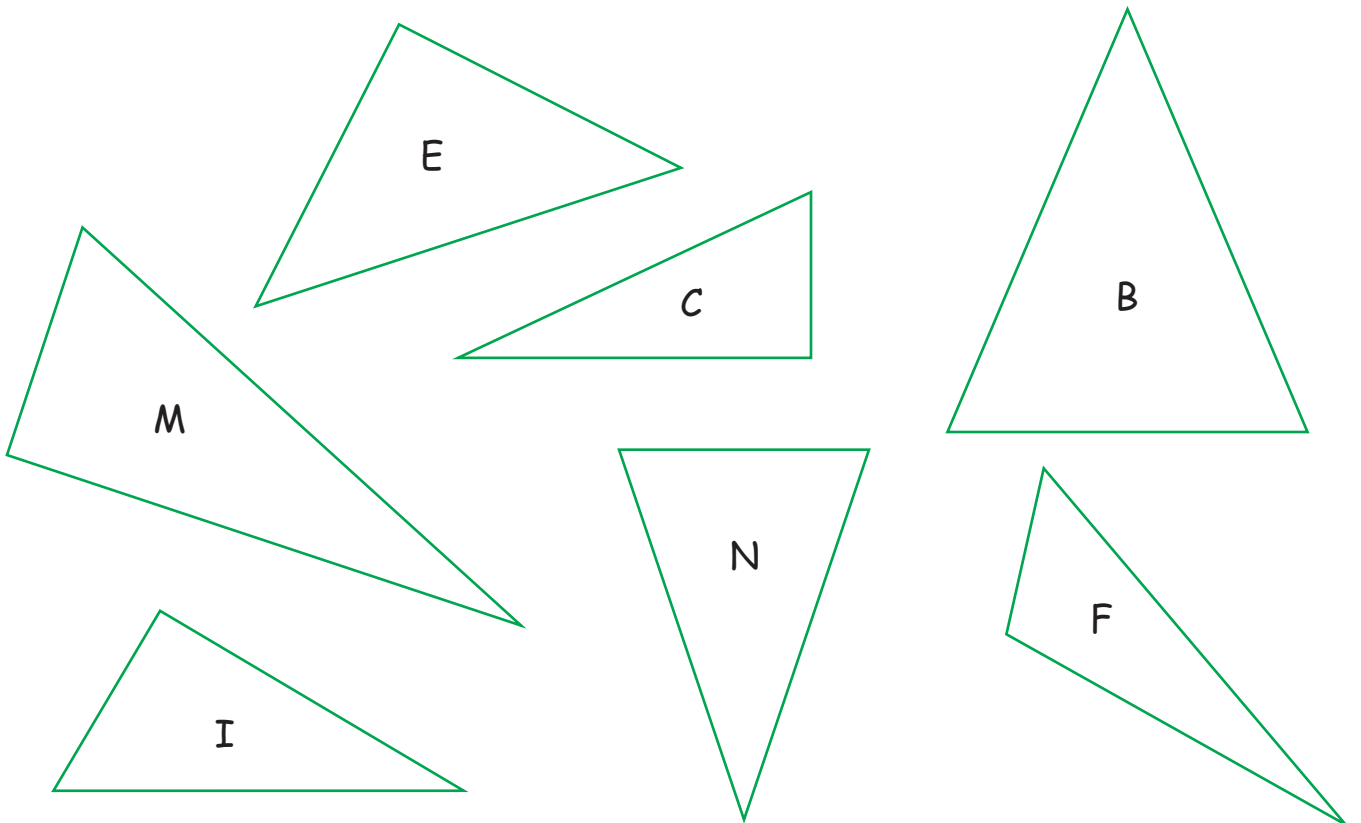
1 畫出一個三角形，其中有一個角是直角。

2 畫出一個三角形，其中有一個角比直角大。

3 畫出一個三角形，每一個角都要小於直角。

 8 做做看。

1 將有直角的三角形圈出來。



2 用這些字母拼一個字。





我們有兩塊桌布。

我們想要為這兩塊桌布縫上蕾絲邊。



1 紅色桌布加上蕾絲邊後有多長？

紅色桌布有幾個角是

直角？


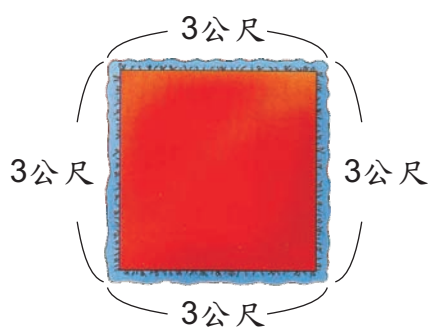
紅色桌布是不正方形？

2 黃色桌布加上蕾絲邊後，長邊有多長？

寬邊有多長？

黃色桌布有幾個角是直角？

黃色桌布是不正方形？



那一種顏色的桌布用掉比較多的蕾絲？（紅色，黃色）


你知道紅色桌布用掉多少公尺的蕾絲？

黃色桌布呢？




 10 依照指示作圖，並回答問題。

① 畫出一條半徑。




這個圓的直徑是 _____ 公分。

② 畫出一條直徑。



這個圓的半徑是 _____ 公分。

 11 做做看。

① 畫出一個半徑是 4 公分的圓，它的直徑_____公分。

算式：

答：

② 畫出一個直徑是 12 公分的圓，它的半徑_____公分。

算式：

答：