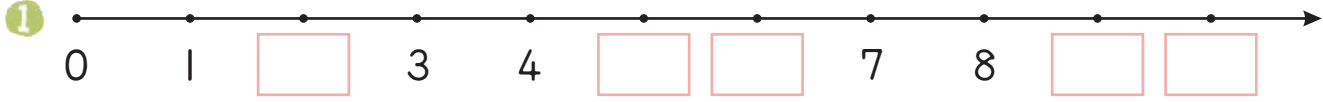




1 在下面的方格中填入適當的數字。




2 先圈出指定點的位址，再寫出代表點的數字。

1 代表 15、17、20 的點。




2 代表 20、24、28 的點。



3 代表 30、35、40 的點。




4 代表 250、300、450 的點。




5 代表 625、825 的點。

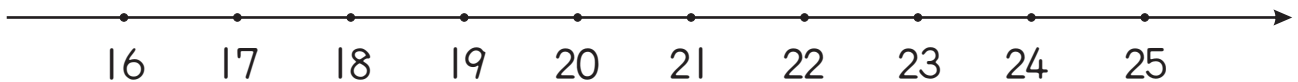



 3 解題。

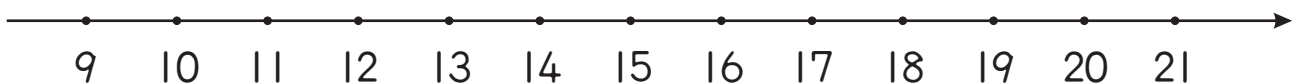
1  從 8 開始，向右邊飛 7 格，會停在那一個數字上？圈圈看。



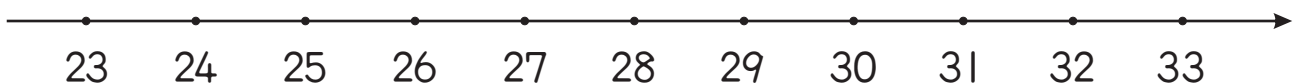
2  從 23 開始，向左邊飛 5 格，會停在那一個數字上？圈圈看。




3  從那一個數字向右飛 6 格會到 15？



4  從那一個數字向左飛 5 格會到 28？



5 第 7 人到第 12 人之間共有幾個間隔？



算式：

答：

6 第 10 盆到第 6 盆之間共有幾個間隔？



算式：

答：


7 兩朵緞帶花之間佩一個鈴鐺，第 6 朵緞帶花到第 12 朵緞帶花之間共有幾個鈴鐺？



算式：

答：

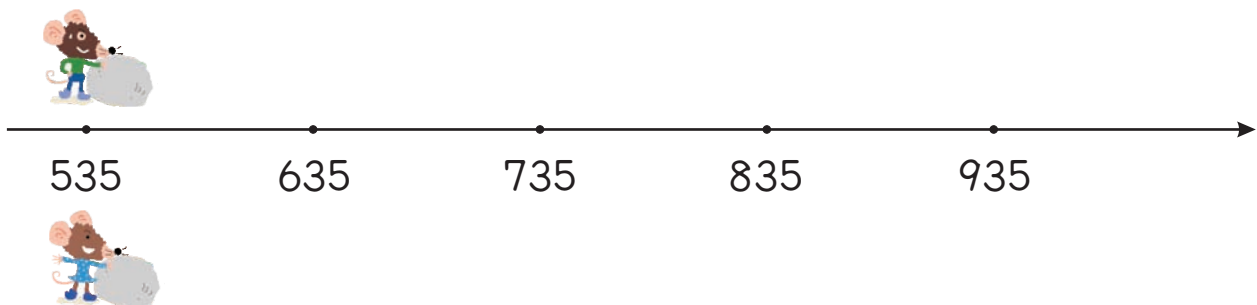
- 8 兩隻兔子中間有一條紅蘿蔔，第 15 隻兔子到第 8 隻兔子之間會有多少條紅蘿蔔？



算式：

答：

- 9 兩隻老鼠比賽丟石頭，他們從 535 的位置向右边丟出。男生丟的石頭掉在女生丟的石頭的右邊，誰丟的比較遠？



(男生，女生) 丟的比較遠。

- 10 小青蛙從 80 的位置向右边跳，落在 125 的位置上，125 在那一個間隔？用紅筆把間隔畫出來。

