



## 7

## 數的運算

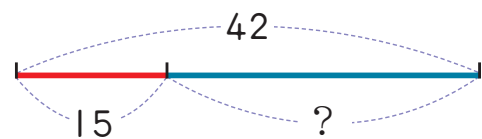


三個數字蘋果湊在一起，注意一看，其中一個蘋果上的數字不見了，把另外兩個蘋果上的數字相加或相減，就可以找出不見的數字。

# 7-1 算出括號中的數

**教學** 1 ( ) 中的數是多多少少?

①  $15 + ( ) = 42$

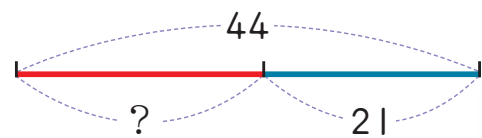


上面的算式，可以用線段圖來表示。( ) 中的數可以用減法來算。

$42 - 15 =$

答：( ) = \_\_\_\_\_。

**教學** 2 ( ) + 21 = 44



( ) 中的數可以用減法來算。

$44 - 21 =$

答：

**練習** 求出括號中的數。

①  $62 + ( ) = 98$

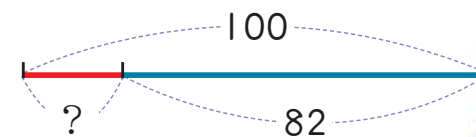
② ( ) + 29 = 46

答：

答：

**教學** 2 ( ) 中的數是多多少少?

①  $100 - ( ) = 82$

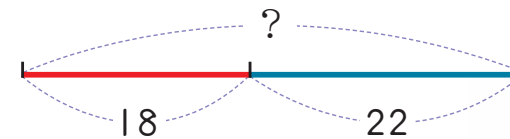


( ) 中的數可以用減法來算。

$100 - 82 =$

答：

② ( ) - 18 = 22



( ) 中的數可以用加法來算。

$18 + 22 =$

答：

**練習** 求出括號中的數。

① ( ) - 48 = 132

②  $100 - ( ) = 74$

答：

答：

教學

教學

練習

教學 1 下面的3個數中，那一個最接近正確的答案？圈圈看。

①  $302 + 299 = ( \quad )$



302 大概是 300，  
299 大概是 300，  
300 + 300 是 600，  
所以  $302 + 299$  的答案大概是 600。



教學 2  $199 + 398 = ( \quad )$



199 大概是 200，  
398 大概是 400，  
200 + 400 是 600，  
所以  $199 + 398$  大概是 600。



③  $701 - 599 = ( \quad )$



701 大概是 700，  
599 大概是 600，  
700 - 600 是 100，  
所以  $701 - 599$  大概是 100。



④  $797 - 299 = ( \quad )$



797 大概是 800，  
299 大概是 300，  
800 - 300 是 500，  
所以  $797 - 299$  大概是 500。



**2** 東東做計算時，百位的數字不小心沾到墨汁，請你幫東東把百位數字寫出來。

$299 + 404 = \text{☀}03$

怎樣算比較快呢？  
 299 大概是 300，  
 404 大概是 400，  
 299 + 404 大概是 700，  
 所以百位數字是 7。



答：百位數字是       。

**3** 小可在  $698 - ( ) = 299$  的  $( )$  中填入 499，小可算的答對不對？

將 499 填入  $( )$  中，  
 698 大概是 700，  
 499 大概是 500，  
 $698 - 499$  大概是 200，  
 因為 200 和 299 差很多，  
 所以她做錯了。

$( )$  中的答案要用  $698 - 299$  來算。  
 698 大概是 700，  
 299 大概是 300，  
 $698 - 299$  大概是 400。  
 因為小可的答對 499 和 400 差很多，所以她做錯了。

