

10 除法



習作10-1 兩位數除以一位數 (1)

1 算算看。

1 $2 \overline{) 24}$	2 $3 \overline{) 63}$	3 $4 \overline{) 48}$
4 $4 \overline{) 88}$	5 $5 \overline{) 50}$	6 $6 \overline{) 60}$

2 算算看。

1 $2 \overline{) 25}$	2 $3 \overline{) 34}$	3 $4 \overline{) 87}$
--------------------------	--------------------------	--------------------------



4 $6 \overline{) 69}$	5 $7 \overline{) 72}$	6 $9 \overline{) 93}$
--------------------------	--------------------------	--------------------------



3 寫成直式算算看。

1 $85 \div 4$	2 $94 \div 3$	3 $58 \div 5$
4 $72 \div 7$	5 $89 \div 8$	6 $93 \div 9$

習作10-2 兩位數除以一位數 (2)

1 算算看看。

$2 \overline{) 75}$ $3 \overline{) 75}$ $4 \overline{) 75}$
 $5 \overline{) 84}$ $6 \overline{) 84}$ $7 \overline{) 84}$

2 寫成直式算算看看。

1 $72 \div 3$ 2 $49 \div 4$ 3 $75 \div 5$

4 $75 \div 6$ 5 $85 \div 7$ 6 $96 \div 8$

3 做做看看。

① 圈出被2除有餘數的數。

22 33 47 50

② 上面那些數是奇數？那些數是偶數？

③ 圈出被5除有餘數的數。

60 51 85 99

④ 圈出可以被3整除的數。

30 42 45 55 75

習作10-3 三位數除以一位數 (1)

1 算算看。

1 $2 \overline{) 240}$	2 $3 \overline{) 954}$	3 $4 \overline{) 868}$
4 $2 \overline{) 433}$	5 $3 \overline{) 602}$	6 $4 \overline{) 450}$

2 寫成直式算算看。

1 $650 \div 6$	2 $750 \div 7$	3 $850 \div 8$
-------------------	-------------------	-------------------

習作10-4 三位數除以一位數 (2)

1 算算看。

1 $8 \overline{) 540}$	2 $8 \overline{) 600}$	3 $4 \overline{) 700}$
4 $4 \overline{) 999}$	5 $5 \overline{) 999}$	6 $6 \overline{) 999}$

2 寫成直式算算看。

1 $147 \div 7$	2 $189 \div 7$	3 $231 \div 7$
-------------------	-------------------	-------------------

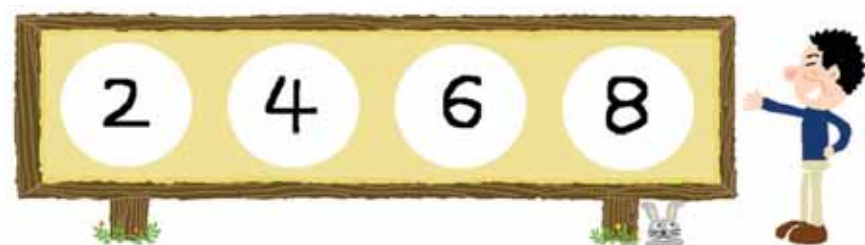
4 $300 \div 7$

5 $275 \div 8$

6 $800 \div 9$

7 $672 \div 9$

3 450被下列那一個數除的商最大？
被那一個數除的商最小？



習作10-5 解題

1 寫出算式做做看。

1 牛奶2杯是400毫升，1杯是幾毫升？




2 幼童軍每一小隊有6人，整個活動有480人參加，總共有幾個小隊？



3 360個同學參加校外教學，如果每輛遊覽車坐一樣多的人數，共坐滿8輛遊覽車，每輛遊覽車坐了多多少人？



4 一大桶沙拉油裝85公升，每3公升裝成一瓶，全部裝完需要幾個瓶子？



5 小禮堂每排椅子可坐6人，西門國小250位學生坐進小禮堂後還有2個空位，問禮堂中有幾排椅子？



6 文具店週年慶，推出「買4枝筆送1枝筆」的特賣組合，現在文具店有800枝筆，可以組成幾組特賣品？



習作10-6 除法與倍數

1 寫出算式做做看。

1 今年祖父的年齡是63歲，小可9歲，祖父的年齡是小可的幾倍？



2 王叔叔走操場一圈要花5分鐘，他一小小時可以走操場幾圈？



3 一個水槽的容量是375公升，一個水桶的容量是7公升，要幾桶水桶的水才能裝滿水槽？



4 3個小西瓜和24個蘋果一樣重，1個小西瓜和多少個蘋果一樣重？

5 世界上長得最高的人有272公分高，正好是小杰身高的2倍，小杰有多高？



6 姊姊有425元，是依依的5倍，依依有多少錢？



7 大水桶容量18公升，是小水桶容量的6倍，小水桶容量是多少公升？



8 將1桶重927公克的糖果平分成3小桶，每小桶糖果的重量是多少公克？



習作10-7 乘除算式填充題

1 在 內打 \checkmark 。

1 840人搭火車，每節車廂可以坐一樣多的人，共坐滿12節車廂，如果用()表示每節車廂的人數，問下面那一個算式是正確的？



$840 \div () = 12$

$() \div 12 = 840$

2 哥哥要量家裡到學校的距離，他一步一步走80公分，共走了2000步，如果用()表示這段距離，問下面那一個算式是正確的？

$2000 \div 80 = ()$

$() \div 80 = 2000$



習作10-8 算出括號中的數

1 () 中的數是多多少少？寫出算式做做看。

1 () $\times 3 = 630$

2 () $\times 3 = 315$

3 $5 \times () = 520$

4 $6 \times () = 204$

2 () 中的數是多多少少？寫出算式做做看。

1 $125 \div () = 5$

2 $785 \div () = 5$

3 () $\div 4 = 82$

4 () $\div 8 = 125$

綜合練習

1 算出 中的數。

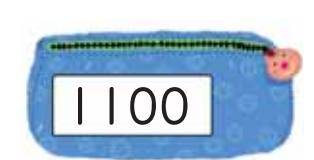
1 $25 + \square = 100$

2 $\square + 46 = 100$

3 $\square - 75 = 200$

4 $200 - \square = 132$

2 $401 + 598 = ?$ ，下面的三個數中，那一個最接近正確答案，圈圈看。



3 在 中填入經過的時間。

1 上午 9:20 到上午 10:00 是經過 分。

2 下午 3:40 到下午 7:40 經過的時間 = 時。

4 寫出算式做做看。

1 電影下午 8 時 10 分開始放映，下午 10 時 25 分結束，電影播放了多久時間？



2 林媽媽花了1小時5分做晚餐，她從下午6時20分開始做，請問晚餐做好的時間？



5 看餐點價格表，寫出算式做做看。

客家小炒	180元	三人份火鍋	360元
梅干扣肉	240元	四人份火鍋	480元
全土雞切塊	450元	六人份火鍋	660元

1 王先生和兩位朋友點了全土雞切塊和三人份火鍋各一份，每人出的錢一樣多，每人要出多少錢？



2 李先生和五位朋友點了客家小炒和六人份火鍋各一份，每人出的錢一樣多，每人要出多少錢？

