


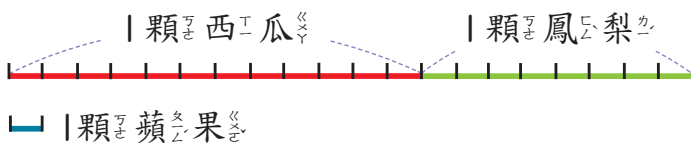
6 乘法



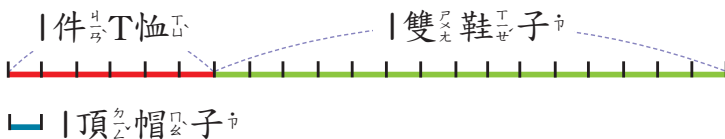
習作6-1 乘法與倍數

1 寫出算式做做看。


- 1 一顆西瓜是 $\frac{1}{12}$ 顆蘋果的 12 倍重，一顆鳳梨是 $\frac{1}{8}$ 顆蘋果的 8 倍重，一顆西瓜和 $\frac{1}{8}$ 顆鳳梨合起來是 $\frac{1}{8}$ 顆蘋果的幾倍重？



- 2 一件T恤的價錢是 $\frac{1}{6}$ 頂帽子的 6 倍，一雙鞋子的價錢是 $\frac{1}{15}$ 頂帽子的 15 倍，一件T恤和 $\frac{1}{15}$ 雙鞋子合起來的價錢是 $\frac{1}{15}$ 頂帽子的幾倍？



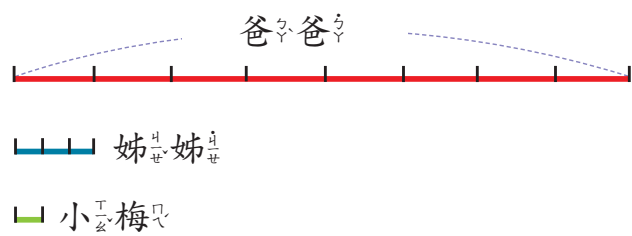
- 3 一件T恤的價錢是 $\frac{1}{6}$ 頂帽子的 6 倍，10 件T恤的價錢是 $\frac{1}{6}$ 頂帽子的幾倍？



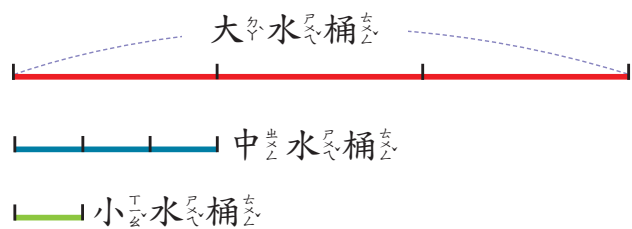
4 黑繩是藍繩的3倍長，藍繩是紅繩的2倍長，黑繩是紅繩的幾倍長？



5 爸爸的錢是姊姊的8倍，姊姊的錢是小梅的3倍，爸爸的錢是小梅的幾倍？

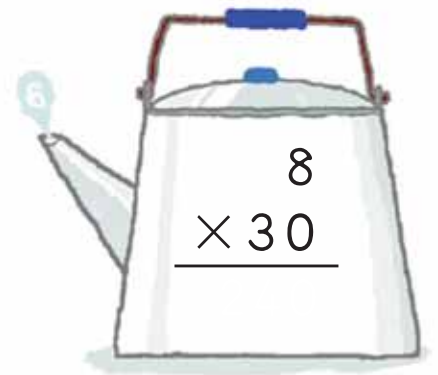

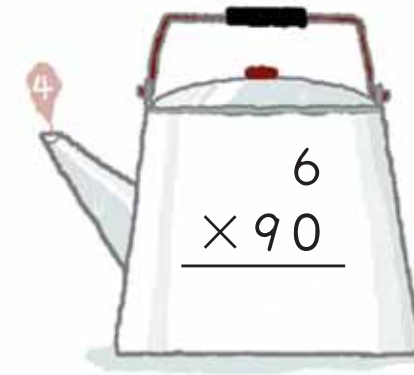
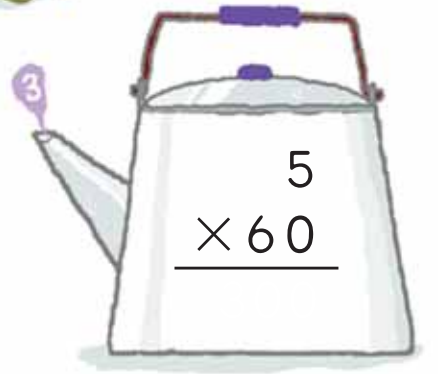




6 大、中、小三種水桶，大水桶的容量是中水桶的3倍，中水桶的容量是小水桶容量的3倍，一個大水桶裝滿水可以倒滿幾個小水桶？

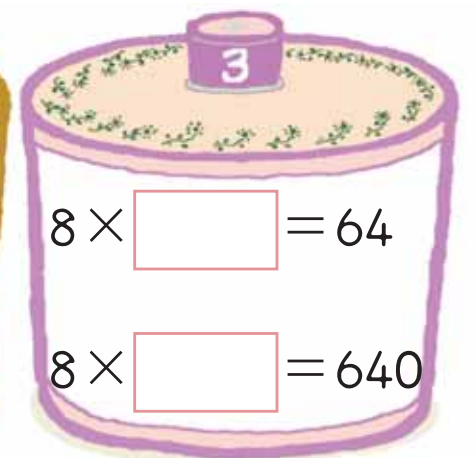
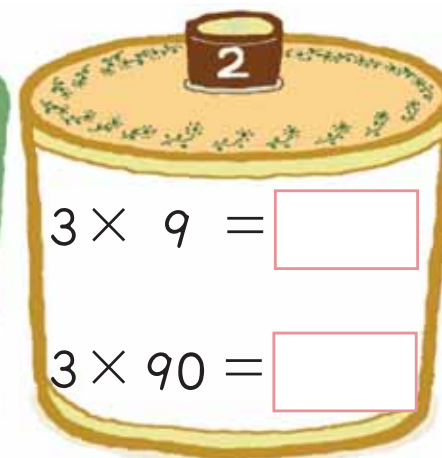
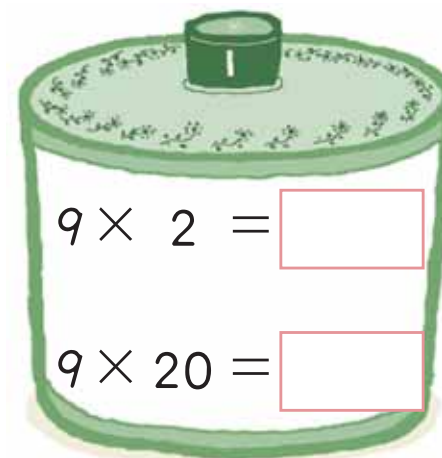


習作6-2 整十倍 (1)

1 算算看看。



2 內的數是多多少？填填看看。



習作6-3 整十倍 (2)

1 算算看。

1 $\begin{array}{r} 30 \\ \times 10 \\ \hline \end{array}$	2 $\begin{array}{r} 40 \\ \times 10 \\ \hline \end{array}$	3 $\begin{array}{r} 40 \\ \times 20 \\ \hline \end{array}$
4 $\begin{array}{r} 60 \\ \times 30 \\ \hline \end{array}$	5 $\begin{array}{r} 40 \\ \times 40 \\ \hline \end{array}$	6 $\begin{array}{r} 30 \\ \times 80 \\ \hline \end{array}$
7 $\begin{array}{r} 50 \\ \times 50 \\ \hline \end{array}$	8 $\begin{array}{r} 50 \\ \times 60 \\ \hline \end{array}$	9 $\begin{array}{r} 50 \\ \times 80 \\ \hline \end{array}$
10 $\begin{array}{r} 60 \\ \times 60 \\ \hline \end{array}$	11 $\begin{array}{r} 60 \\ \times 90 \\ \hline \end{array}$	12 $\begin{array}{r} 70 \\ \times 70 \\ \hline \end{array}$

2 內的數是多多少？填填看。

1 $\begin{array}{l} 7 \times 2 = \square \\ 7 \times 20 = \square \\ 70 \times 20 = \square \end{array}$	2 $\begin{array}{l} 5 \times 3 = \square \\ 5 \times 30 = \square \\ 50 \times 30 = \square \end{array}$
3 $\begin{array}{l} \square \times 5 = 20 \\ \square \times 50 = 200 \\ \square \times 50 = 2000 \end{array}$	4 $\begin{array}{l} \square \times 6 = 36 \\ \square \times 60 = 360 \\ \square \times 60 = 3600 \end{array}$
5 $\begin{array}{l} 8 \times \square = 56 \\ 80 \times \square = 560 \\ 80 \times \square = 5600 \end{array}$	6 $\begin{array}{l} 9 \times \square = 54 \\ 90 \times \square = 540 \\ 90 \times \square = 5400 \end{array}$

習作6-4 整百倍

1 算算看。

1 $\begin{array}{r} 2 \\ \times 300 \\ \hline \end{array}$	2 $\begin{array}{r} 4 \\ \times 200 \\ \hline \end{array}$	3 $\begin{array}{r} 6 \\ \times 100 \\ \hline \end{array}$
4 $\begin{array}{r} 4 \\ \times 400 \\ \hline \end{array}$	5 $\begin{array}{r} 5 \\ \times 500 \\ \hline \end{array}$	6 $\begin{array}{r} 6 \\ \times 600 \\ \hline \end{array}$
7 $\begin{array}{r} 5 \\ \times 400 \\ \hline \end{array}$	8 $\begin{array}{r} 5 \\ \times 600 \\ \hline \end{array}$	9 $\begin{array}{r} 5 \\ \times 800 \\ \hline \end{array}$
10 $\begin{array}{r} 9 \\ \times 300 \\ \hline \end{array}$	11 $\begin{array}{r} 8 \\ \times 500 \\ \hline \end{array}$	12 $\begin{array}{r} 7 \\ \times 800 \\ \hline \end{array}$

習作6-5 解題

1 寫出算式做做看。

① 黃伯伯 1 分鐘跑 125 公尺，他 4 分鐘跑多少公尺？



② 食品工廠 1 小時可包裝 850 包餅乾，8 小時可以裝多少包？




③ 1 瓶兒童雞精是 80 毫升，50 瓶裝成一箱，一箱兒童雞精有多少毫升？



④ 一顆巧克力重 5 公克，一罐巧克力裝 500 顆，500 顆巧克力有多重？



5 將緞帶兩端點做記號，並且每相隔 150 公分做 1 個記號，整條緞帶共做了 6 個記號，緞帶有幾公尺幾公分長？



6 每兩棵聖誕樹的間隔是 60 公分，問第 1 棵到第 11 棵的間隔是多少公分？



7 1 瓶牛奶有 850 毫升，7 瓶共有幾公升幾毫升？



8 1 塊乳酪重 450 公克，6 塊乳酪重幾公斤幾公克？



1 填填看看。

1 4 分 = _____ 秒

2 5 分 20 秒 = _____ 秒

3 10 時 = _____ 分

4 6 時 30 分 = _____ 分

2 寫出算式做做看看。

1 小威下午 3 時 30 分上游泳課，下午 3 時 30 分用 24 時制可以怎麼記？

2 圓圓在 19 時 20 分去剪頭髮，19 時 20 分是下午幾時幾分？

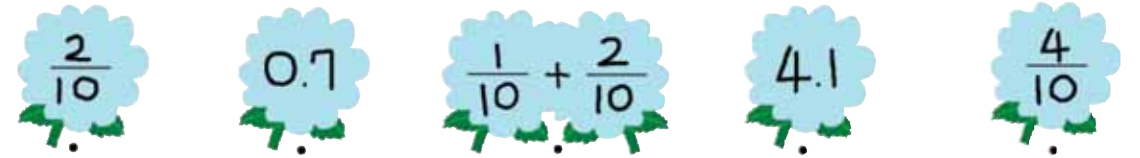
算式：

算式：

答：

答：

3 先找出和藍色花朵內的數一樣大的數，再連連看看。

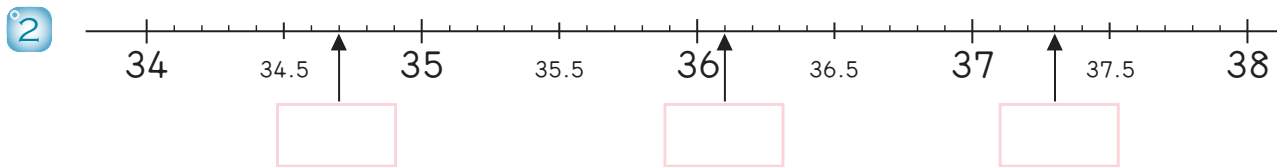
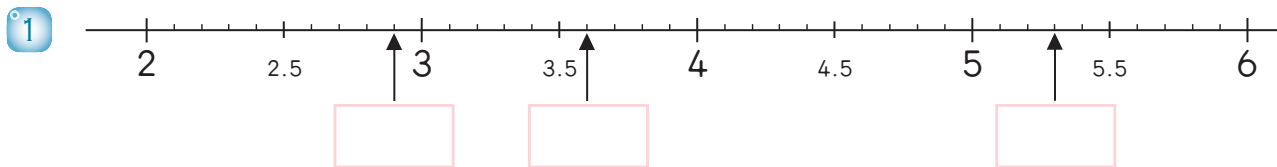


4 量一量這枝筆有多長？用小數來表示。



_____ 公分

5 在 中填入小數。



6 在 中填入正確的答數。

① $10 + 1 + 0.9 =$

② $7.6 = 7 +$

③ $11.8 + 18.2 =$

④ $50 - 24.5 =$

7 寫成直式算算看。

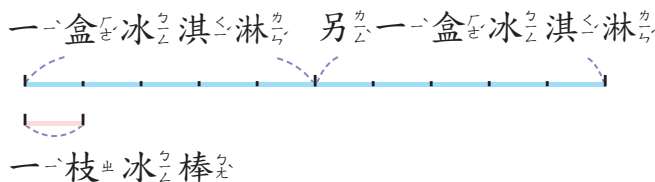
① 8×40

② 90×80

③ 7×800

8 一枝冰棒 15 元，一盒冰淇淋的價錢是 5 倍，2 盒冰淇淋的價錢是多多少元？

算式：



答：