

2 重量

習作2-1 認識公克

1 水果有多重？

1 櫻桃



_____ 公克

2 草莓



_____ 公克

3 葡萄柚



_____ 公克

4 楊桃



_____ 公克

5 小西瓜



_____ 公克

6 哈密瓜



_____ 公克

2 圈圈看。

1 下面那一個水果比200公克重，比300公克輕？

葡萄柚



哈密瓜




香蕉



2 媽媽買了一種水果，重量是835公克。媽媽買的是下面那一種？

葡萄



香蕉



草莓



媽媽買的是(葡萄 香蕉 草莓)。

習作2-2 認識公斤


1 水果有多重？

1



公斤

2



公斤

3



公斤


2 圈圈看。

1 下面那一個蔬果比2公斤重，比3公斤輕？

木瓜




西瓜



南瓜



2 一個蘋果比較輕？還是一個芒果比較輕？



一個(蘋果 芒果)比較輕。

3 做做看看。

1 一包4公斤的砂糖和幾公克的砂糖一樣重？

4公斤 = _____ 公克。

答：



2 一包5公斤的鹽和幾公克的鹽一樣重？

5公斤 = _____ 公克。

答：



3 7000公克的糖，1公斤裝1袋，最多可裝幾袋？

7000公克 = _____ 公斤。

答：



4 9000公克的葡萄，1公斤裝1盒，最多可裝幾盒？

9000公克 = _____ 公斤。

答：



習作2-3 換算與比較

1 下面的物品，那一個最重？那一個最輕？

1 收音機




2公斤100公克

2 書包



2公斤230公克

3 桌燈



860公克

最重的是 _____，最輕的是 _____。(填出號碼)

2 一個西瓜重4公斤，2個鳳梨重3公斤900公克，1個西瓜重呢？還是2個鳳梨重？



3公斤900公克

4公斤

答：

3 填填看看。

1 3公斤600公克 = _____ 公克

2 2100公克 = _____ 公斤 _____ 公克

3 7公斤250公克 = _____ 公克

4 4850公克 = _____ 公斤 _____ 公克

習作2-4 解題

1  用直式做做看。

$$\begin{array}{r} \text{公斤} \quad \text{公克} \\ 850 \\ + 2 \quad 100 \\ \hline \end{array}$$

答：

$$\begin{array}{r} \text{公斤} \quad \text{公克} \\ 5 \quad 500 \\ + 5 \quad 250 \\ \hline \end{array}$$

答：

5 $6\text{公}\frac{\text{斤}}{\text{斤}} + 3\text{公}\frac{\text{斤}}{\text{斤}} 420\text{公}\frac{\text{克}}{\text{克}}$

答：

$$\begin{array}{r} \text{公斤} \quad \text{公克} \\ 2 \quad 250 \\ + 1 \quad 450 \\ \hline \end{array}$$


答：

$$\begin{array}{r} \text{公斤} \quad \text{公克} \\ 7 \quad 520 \\ + 4 \quad 260 \\ \hline \end{array}$$

答：

6 $2\text{公}\frac{\text{斤}}{\text{斤}} 800\text{公}\frac{\text{克}}{\text{克}} + 1\text{公}\frac{\text{斤}}{\text{斤}} 150\text{公}\frac{\text{克}}{\text{克}}$

答：

2  寫出算式做做看。

1 一袋米用了3公斤200公克後，還剩下5公斤300公克，這袋米原來有幾公斤幾公克重？



2 一個南瓜重2公斤125公克，2個南瓜重多少公斤多少公克？



3 一個西瓜重5公斤650公克，一個南瓜重2公斤125公克，西瓜比南瓜重幾公斤幾公克？



4 一袋蘋果重2公斤500公克，吃了幾個後，還有1公斤425公克，吃掉蘋果有幾公斤幾公克重？



5 做做看。

1 小杰昨天上學的書包有6公_斤752公_克重，其中書有4公_斤532公_克重，書包不裝書時有多重？



2 承上題1，小杰今天帶的書有3公_斤108公_克重，他今天上學的書包有多重？



不裝書的書包有多重？

6 一個空的米桶重2公_斤485公_克重，媽媽買了一些米裝入米桶後，米桶有15公_斤重，媽媽做晚餐時，用掉1公_斤的米，裝米的米桶還有多重？



7 3袋一樣重的馬鈴薯共重18公_斤，1袋馬鈴薯重多少公_斤？



8 一個芒果重300公_克，8個芒果重多少公_斤多_少公_克？



9 56公_斤的米要平均裝到8個袋子中，每個袋子裝有多少公_斤的米？



10 一桶肥料重85公_斤，一輛貨車可載8桶肥料，一輛貨車載的肥料有多重？

